

**Instrucciones:**

- a) Duración: 1 hora y 30 minutos  
b) La presente prueba consta de dos opciones (A y B), de las cuales deberá desarrollar solamente una  
c) En todos los casos se considerarán elementos de ponderación de la nota final la calidad de la redacción y la claridad gramatical y ortográfica. La calificación máxima va expresada bajo cada pregunta

**OPCIÓN A**

**1. Exprese de modo conciso el significado geográfico de los siguientes términos:**

- Zócalo
- Paralelo geográfico
- Equinoccio
- Tasa de natalidad
- Pesca de bajura
- Industria metalúrgica

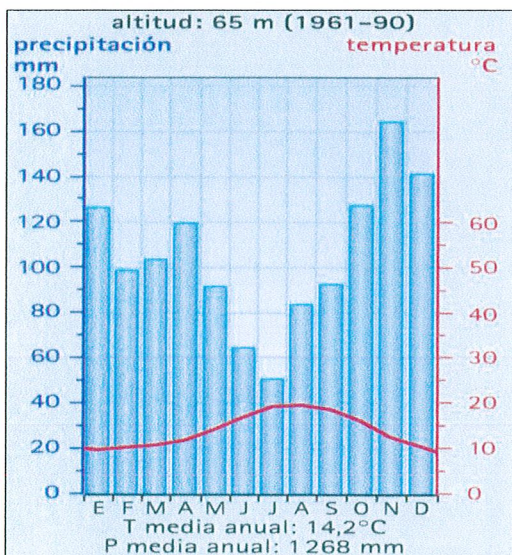
(Valoración: hasta 3 puntos; máximo 0,5 puntos por término)

**2. La figura siguiente representa dos climogramas. Con la información que contienen responda a las siguientes preguntas:**

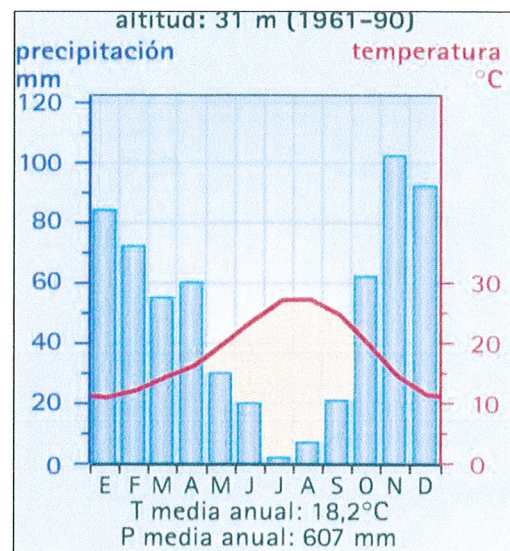
- a) Explique las diferencias pluviométricas mensuales y estacionales entre estas dos representaciones climáticas. (Hasta 1 punto)  
b) Halle, aproximadamente, la oscilación térmica anual en cada uno de los diagramas y explique cómo se refleja el concepto de aridez. (Hasta 1 punto)  
c) ¿Qué tipo de clima representa cada uno? ¿En qué lugares de España se podrían localizar? Razone brevemente las dos respuestas. (Hasta 2 puntos).

(Valoración: Hasta 4 puntos)

**CLIMOGRAMA A**



**CLIMOGRAMA B**



**3. La evolución de la ciudad en España: morfología y estructura urbanas.**

(Tema libre, para cuyo desarrollo se sugiere realizar un esquema previo)

(Valoración: Hasta 3 puntos)

**Instrucciones:**

- a) Duración: 1 hora y 30 minutos  
b) La presente prueba consta de dos opciones (A y B), de las cuales deberá desarrollar solamente una  
c) En todos los casos se considerarán elementos de ponderación de la nota final la calidad de la redacción y la claridad gramatical y ortográfica. La calificación máxima va expresada bajo cada pregunta

**OPCIÓN B**

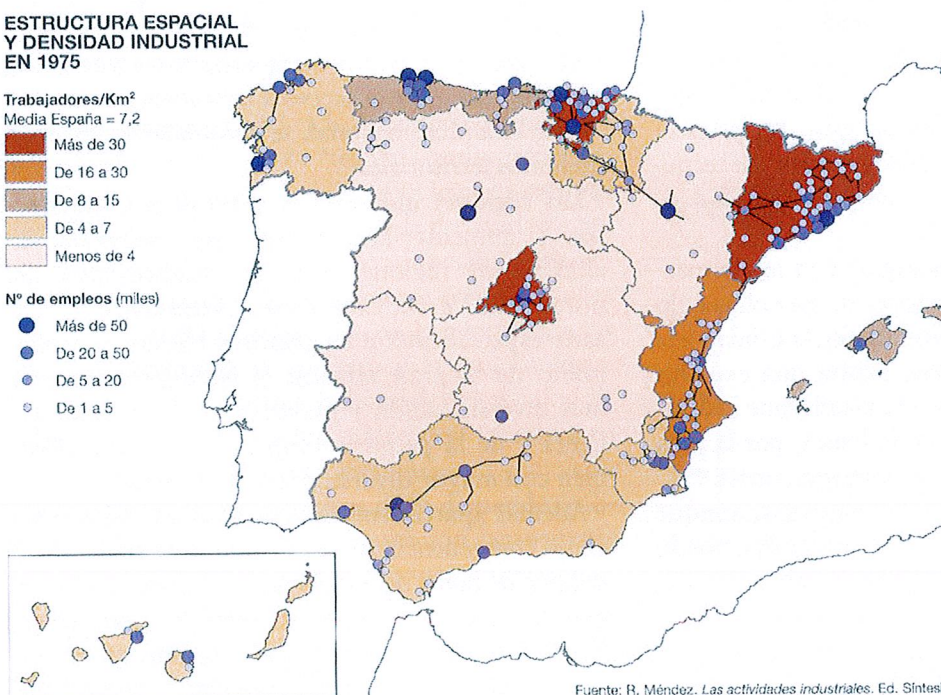
**1. Expresé de modo conciso el significado geográfico de los siguientes términos:**

- Torrente                      - Sotavento                      - Marisma  
- Tasa de fecundidad       - Sistema de ciudades       - Ganadería intensiva  
(Valoración: hasta 3 puntos; máximo 0,5 puntos por término)

**2. El mapa muestra la estructura espacial y la densidad de la industria en España en 1975. Tras su observación responda a las siguientes cuestiones:**

- a) Diga el nombre de las Comunidades Autónomas que tienen más de 16 trabajadores/Km<sup>2</sup>. (Hasta 1 punto)  
b) Identifique y diga el nombre de las ciudades con más de 50.000 empleos situadas en las Comunidades Autónomas de Galicia, Asturias, Aragón, Castilla y León y Andalucía. (Hasta 1 punto)  
c) Explique los principales rasgos de la distribución espacial de la industria en España. (Hasta 2 puntos)  
(Valoración: hasta 4 puntos)

ESTRUCTURA ESPACIAL  
Y DENSIDAD INDUSTRIAL  
EN 1975



Fuente: R. Méndez. *Las actividades industriales*. Ed. Síntesis.

**3. Caracteres generales del relieve español.**

- (Tema libre, para cuyo desarrollo se sugiere realizar un esquema previo)  
(Valoración: hasta 3 puntos)

**CRITERIOS ESPECÍFICOS DE CORRECCIÓN**

**1ª. En las respuestas a los seis conceptos propuestos, se valorará:**

- a) La precisión y adecuación del vocabulario empleado para cada respuesta.
- b) La claridad conceptual.

(Valor: hasta **tres** puntos, entre 0,0 y 0,5 puntos cada una de las seis preguntas formuladas)

**2ª En el análisis y comentario de los gráficos, se valorará:**

- a) La profundidad del comentario.
- b) La correcta utilización terminológica.
- c) La capacidad de análisis y de descripción de los fenómenos.
- d) La madurez en la interpretación y relación de las secuencias de los mismos.

(Valor: hasta **cuatro puntos**, con la puntuación parcial máxima que se refleja en cada una de las tres o cuatro preguntas formuladas)

**3ª En el desarrollo de los temas propuestos, se valorará:**

- a) La ordenación y estructuración de los contenidos y la coherencia de la exposición.
- b) La precisión y claridad en la exposición de los conceptos.
- c) El grado y profundidad de los conocimientos.
- d) La capacidad de síntesis y de interrelación.

(Valor: hasta **tres puntos**, ponderándose para todo el ejercicio todos y cada uno de los criterios enunciados en este apartado)

Estas son las valoraciones que quedan reflejadas, de igual modo, en cada una de las partes de que consta el examen.

**En todos los casos se considerarán elementos de ponderación de la nota final la calidad de la redacción y la corrección gramatical y ortográfica**