

**Instrucciones:** a) Duración: 1 hora y 30 minutos.  
b) La presente prueba consta de dos opciones (A y B), de las cuales deberá desarrollar solamente una.  
c) En todos los casos se considerarán elementos de ponderación de la nota final la claridad de la redacción y la corrección gramatical y ortográfica. La calificación máxima va expresada bajo cada pregunta.

**OPCIÓN A**

**1. Exprese de modo conciso el significado geográfico de los siguientes conceptos:**

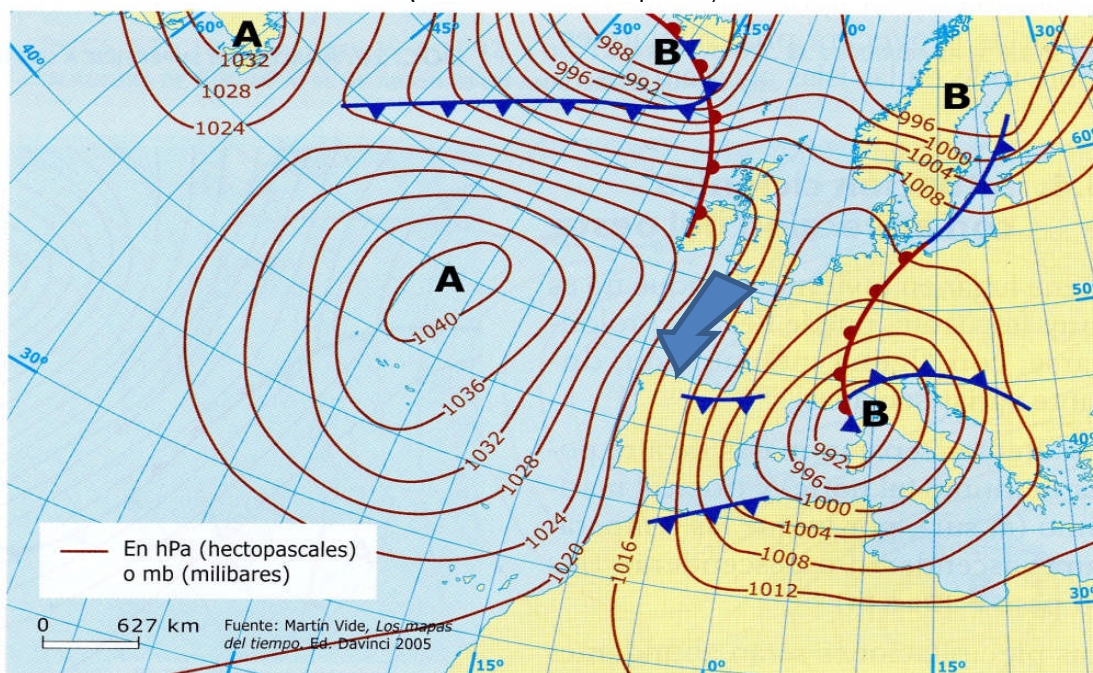
- Equinoccio
- Continentalidad
- Aparcería
- Censo de Población
- Ensanche urbano
- Marisma

(Valoración: hasta 3 puntos; máximo 0,5 puntos por término)

**2. La siguiente figura es la representación de la situación del tiempo atmosférico en el día 26 de diciembre de 2004. Analicela y conteste a las preguntas siguientes:**


- a) Describa la situación de los centros de acción, diferenciando los anticiclones y las depresiones. ¿Cuáles ejercen influencia sobre la Península Ibérica y cuál es la presión máxima y la mínima de cada uno de éstos? (Hasta 1,5 puntos).
- b) ¿Qué dirección llevan los vientos sobre la Península Ibérica? En función de su origen ¿Cómo influyen en las temperaturas de ese día? Explique las causas. (Hasta 1,5 puntos).
- c) ¿Qué tipos de frentes afectan a la Península Ibérica? ¿Qué dirección llevan en su recorrido y qué tipo de tiempo producen? (Hasta 1 punto).

(Valoración: hasta 4 puntos)



**ANÁLISIS EN SUPERFICIE A LAS 12 HORAS UTC/GMT. 26-12-2004.**

Dirección del viento



**3. El espacio rural y los condicionantes de la actividad agraria en España.** Condiciones de la actividad agraria en España. Usos y aprovechamientos agrarios. Los nuevos usos y funciones del espacio rural. Dominios y paisajes agrarios.

(Valoración: hasta 3 puntos)

**Instrucciones:** a) Duración: 1 hora y 30 minutos.  
b) La presente prueba consta de dos opciones (A y B), de las cuales deberá desarrollar solamente una.  
c) En todos los casos se considerarán elementos de ponderación de la nota final la claridad de la redacción y la corrección gramatical y ortográfica. La calificación máxima va expresada bajo cada pregunta.

**OPCIÓN B**

**1. Exprese de modo conciso el significado geográfico de los siguientes conceptos:**

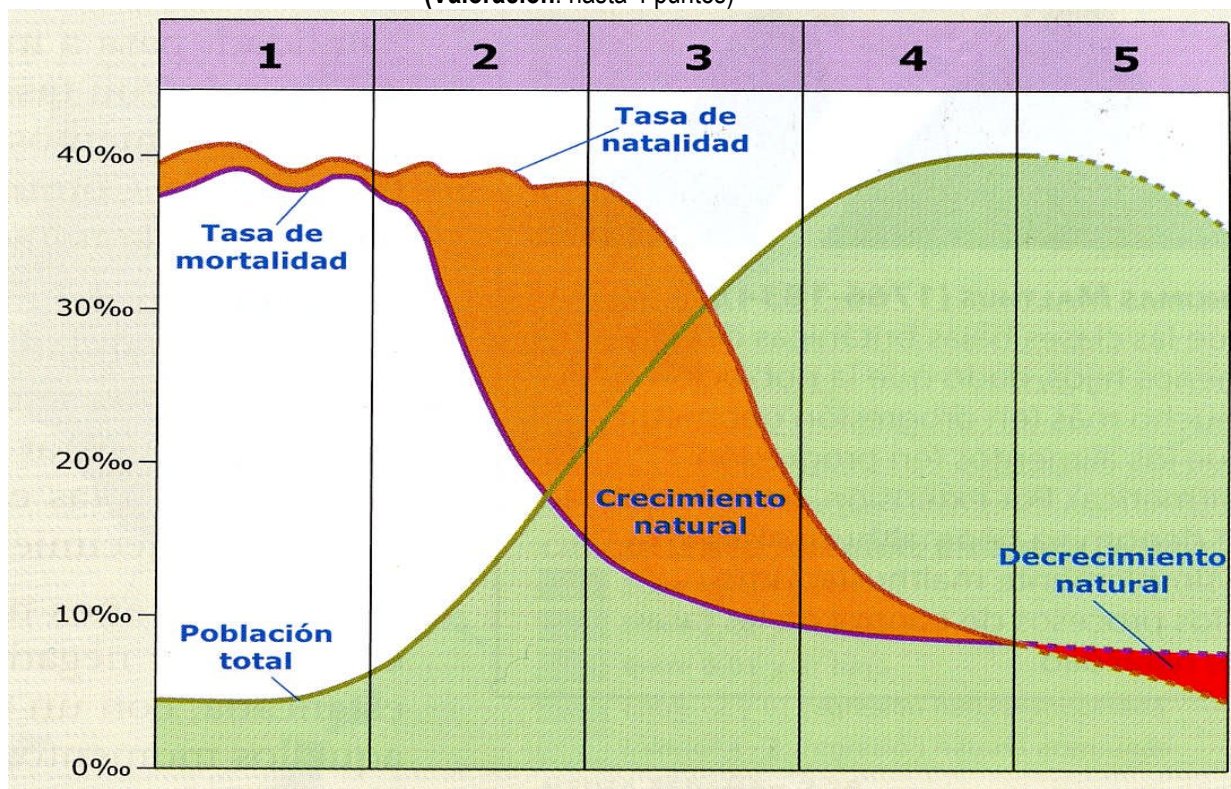
- Polo de desarrollo
- Plano urbano
- Isoyetas
- Meridional
- Escala de un mapa
- Amplitud térmica

(Valoración: hasta 3 puntos; máximo 0,5 puntos por término)

**2. En el gráfico adjunto se representa el modelo de transición demográfica en España. Analícelo y conteste a las preguntas siguientes:**

- a) Reconozca, indicando el número o números, la fase del modelo demográfico antiguo y explique el comportamiento en España de los elementos implicados. (Hasta 1 punto).
- b) Reconozca, indicando el número o números, las fases de transición demográfica en España y explique los procesos que durante ella se producen. (Hasta 1 punto).
- c) Señale, indicando el número o números, la fase del comportamiento demográfico moderno en España y diga sus características. (Hasta 1 punto).
- d) Diga, aproximadamente, a qué fechas corresponden cada una de las fases del modelo en España. (Hasta 1 punto).

(Valoración: hasta 4 puntos)



**3. Las aguas y la red hidrográfica.** Las vertientes hidrográficas españolas. Las cuencas hidrográficas en España. Uso y aprovechamiento de las aguas. Agua y medio ambiente.

(Valoración: hasta 3 puntos)