

- Instrucciones:
- Duración: 1 hora y 30 minutos.
 - La presente prueba consta de dos opciones (A y B), de las cuales deberá desarrollar solamente una.
 - En todos los casos se considerarán elementos de ponderación de la nota final la claridad de la redacción y la corrección gramatical y ortográfica. La calificación máxima va expresada bajo cada pregunta.

OPCIÓN A

1. Exprese de modo conciso el significado geográfico de los siguientes conceptos:

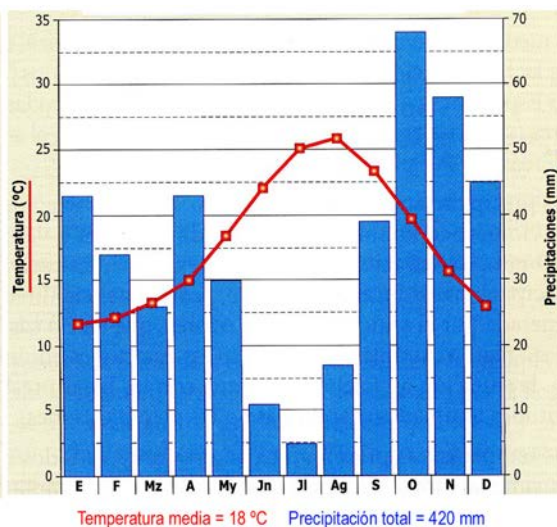
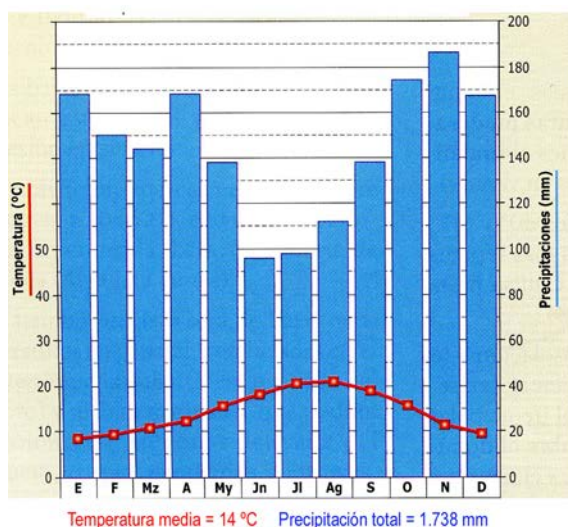
- Caudal de un río
- Densidad de población
- Escala de un mapa
- Meseta
- Monocultivo
- Sector terciario

(Valoración: hasta 3 puntos; máximo 0,5 puntos por término)

2. Analice los dos climogramas que se reproducen y conteste a las preguntas siguientes:

- Identifique los máximos pluviométricos principal y secundario de cada climograma. (Hasta 1 punto).
- Describa las variaciones estacionales de temperatura y precipitación que presenta cada climograma. (Hasta 1 punto).
- Basándose en los datos representados, explique a qué tipo de clima pertenece cada uno de ellos y en qué zonas de España se localiza. (Hasta 2 puntos).

(Valoración: hasta 4 puntos)



3. Morfología y estructura de la ciudad en España: El plano de la ciudad. Principales rasgos morfológicos de la ciudad en España. La estructura urbana: los usos del espacio en el interior de la ciudad.

(Valoración: hasta 3 puntos)

- Instrucciones:
- Duración: 1 hora y 30 minutos.
 - La presente prueba consta de dos opciones (A y B), de las cuales deberá desarrollar solamente una.
 - En todos los casos se considerarán elementos de ponderación de la nota final la claridad de la redacción y la corrección gramatical y ortográfica. La calificación máxima va expresada bajo cada pregunta.

OPCIÓN B

1. Exprese de modo conciso el significado geográfico de los siguientes conceptos:

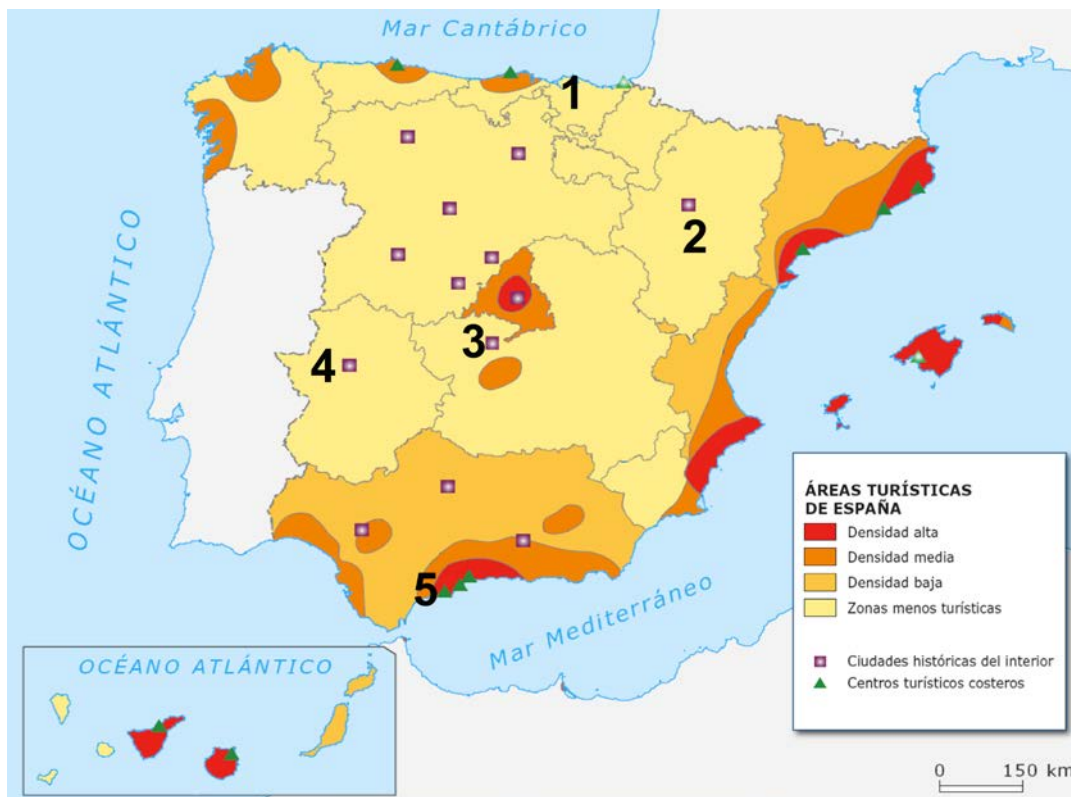
- Barlovento
- Delta Fluvial
- Energía hidroeléctrica
- Oriental
- Pesca de bajura
- Padrón municipal de habitantes

(Valoración: hasta 3 puntos; máximo 0,5 puntos por término)

2. En el mapa siguiente se representan las áreas turísticas de España. Analicelo y responda a las siguientes cuestiones:

- Localice en el mapa las ciudades señaladas con los números 1, 2, 3, 4 y 5. (Hasta 1 punto).
- Señale y describa las características de las áreas de densidad turística media y alta en Andalucía. (Hasta 1 punto).
- Desarrolle y comente las causas de la desigual densidad turística en España, según la información del mapa. (Hasta 2 puntos).

(Valoración: hasta 4 puntos)



3. Las grandes unidades del relieve. Las Meseta y sus unidades interiores. Los rebordes montañosos de la Meseta. Los sistemas y unidades exteriores. Los relieves insulares.

(Valoración: hasta 3 puntos)