

- Instrucciones:**
- Duración: 1 hora y 30 minutos.
 - La presente prueba consta de dos opciones (A y B), de las cuales deberá desarrollar solamente una.
 - En todos los casos se considerarán elementos de ponderación de la nota final la claridad de la redacción y la corrección gramatical y ortográfica. La calificación máxima va expresada bajo cada pregunta.

OPCIÓN A

1. Exprese de modo conciso el significado geográfico de los siguientes conceptos:

- Paralelo.
- Plataforma continental.
- Isobaras.
- Pesca de bajura.
- Trashumancia.
- Transición demográfica

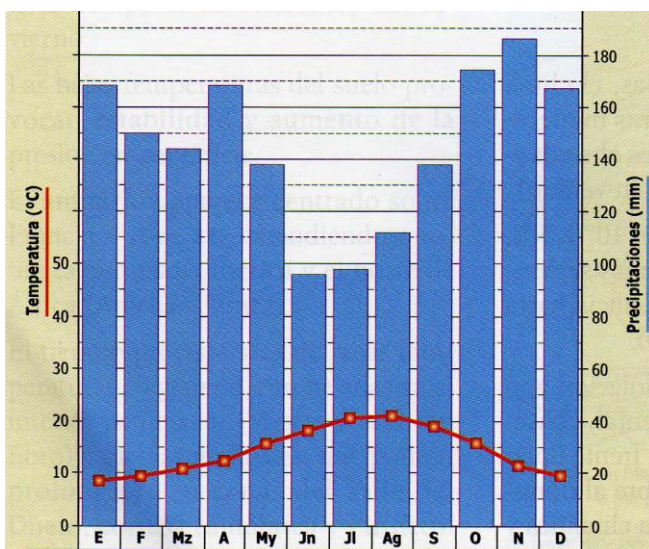
(Valoración: hasta 3 puntos; máximo 0,5 puntos por término)

2. Analice estos dos climogramas y conteste a las preguntas siguientes:

- Defina el concepto de amplitud térmica y halle su valor aproximado en cada climograma. (Hasta 1 punto).
- Defina el concepto de aridez mensual y describa cómo se representa en el climograma correspondiente. (Hasta 1 punto).
- Explique las variaciones estacionales de temperatura y precipitación que presentan cada climograma. Indique qué tipo de clima representa cada uno de ellos. (Hasta 2 puntos).

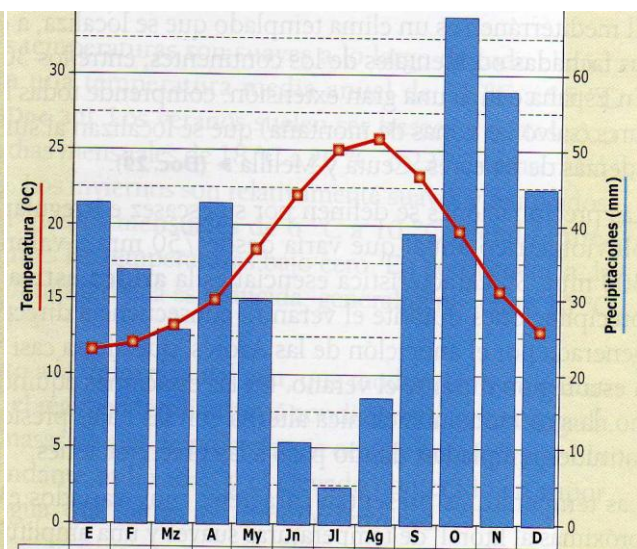
(Valoración: hasta 4 puntos)

Climograma 1



T. media = 14°C Precipitación total = 1.738mm

Climograma 2



T. media = 18°C Precipitación total = 420mm

3. Tema: La industria en España. El proceso de industrialización y sus hitos más recientes. Factores de la actividad industrial. Principales sectores industriales en la actualidad. Distribución geográfica de la industria en España.

(Valoración: hasta 3 puntos)

- Instrucciones:**
- Duración: 1 hora y 30 minutos.
 - La presente prueba consta de dos opciones (A y B), de las cuales deberá desarrollar solamente una.
 - En todos los casos se considerarán elementos de ponderación de la nota final la claridad de la redacción y la corrección gramatical y ortográfica. La calificación máxima va expresada bajo cada pregunta.

OPCIÓN B

1. Expresar de modo conciso el significado geográfico de los siguientes conceptos:

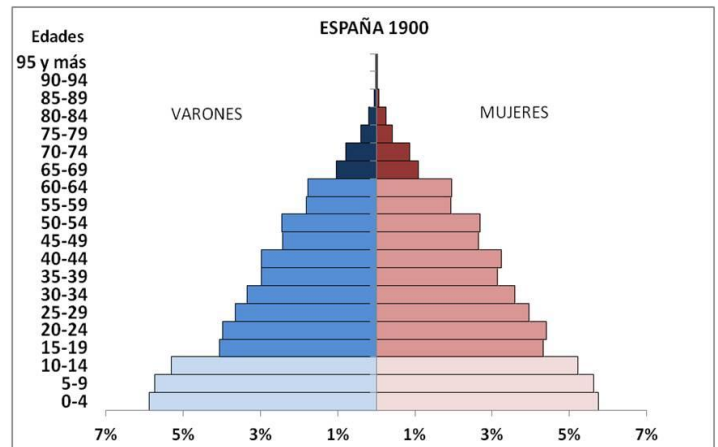
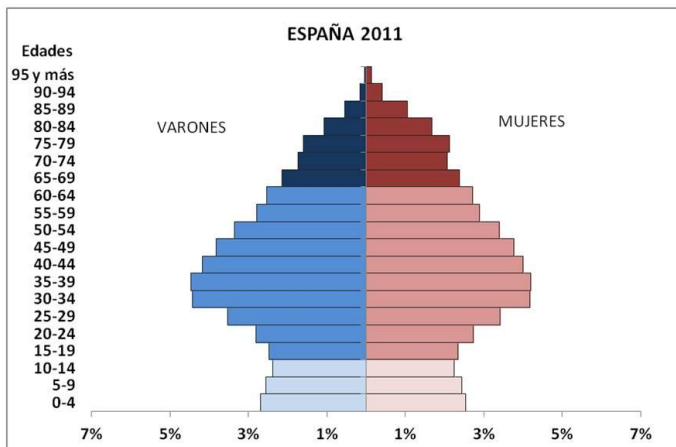
- | | | |
|-------------------------|--------------------|----------------------|
| -Estiaje. | -Salinización. | -Escala de un mapa. |
| -Residencia secundaria. | -Turismo de masas. | -Polígono industrial |

(Valoración: hasta 3 puntos; máximo 0,5 puntos por término)

2. Las pirámides muestran la estructura por edad y sexo de la población española en 1900 y en 2011. Obsérvelas y conteste:

- Compare la población de 0 a 14 años en ambas figuras y analice las diferencias que observa. (Hasta 1 punto).
- Compare la población de 65 años y más en ambas figuras y analice las diferencias que observa. (Hasta 1 punto).
- Explique el modelo de estructura demográfica que representa cada una de estas pirámides. Razone la respuesta argumentando brevemente las causas que dan lugar a ambos modelos. ¿Qué consecuencias sociales tiene ese cambio? (Hasta 2 puntos).

(Valoración: hasta 4 puntos)



3. Tema: Las regiones biogeográficas de España. Factores de la diversidad biogeográfica. Características de las regiones biogeográficas. Formaciones vegetales de la España peninsular e insular. La intervención humana y sus consecuencias geográficas.

(Valoración: hasta 3 puntos)