

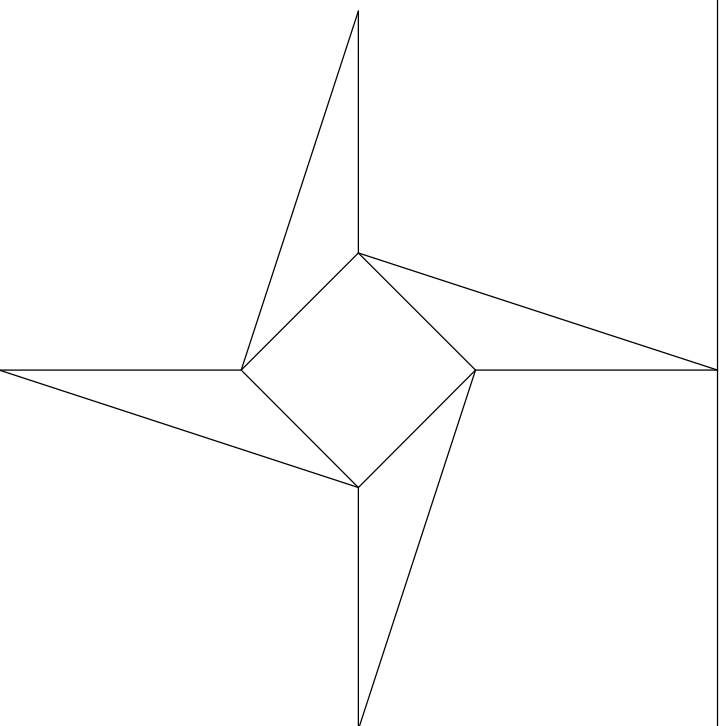
OPCIÓN A
EJERCICIO 2º: SISTEMA CÓNICO

Definido el sistema cónico por la línea de tierra L.T., la línea del horizonte L.H., el punto principal P y el abatimiento sobre el plano del cuadro del punto de vista (V), se pide:
Dibujar la perspectiva cónica de la figura plana dada por su abatimiento sobre el plano del cuadro, sabiendo que dicha figura está en el plano geometral, por detrás del plano del cuadro.

⊗ (V)

L.H. _____ ⊗ P _____

L.T. _____



Cuadrado 1,0 puntos
Polígono estrellado 2,0 puntos
Puntuación máxima 3,0 puntos



UNIVERSIDADES DE ANDALUCÍA
PRUEBA DE ACCESO A LA UNIVERSIDAD
CURSO 2009 - 2010

DIBUJO TÉCNICO II

DATOS DEL ALUMNO

APELLIDOS Y NOMBRE: _____

D.N.I.: _____ **CENTRO:** _____

Nº de Orden En _____ a _____ de 2010

Pegatina de identificación

(a cumplimentar por el alumno)

Nº de Orden

Calificación

OPCIÓN A

Pegatina de identificación

(a cumplimentar por el tribunal)

(a cumplimentar por el tribunal)

(a cumplimentar por el alumno, en su caso)

Instrucciones:

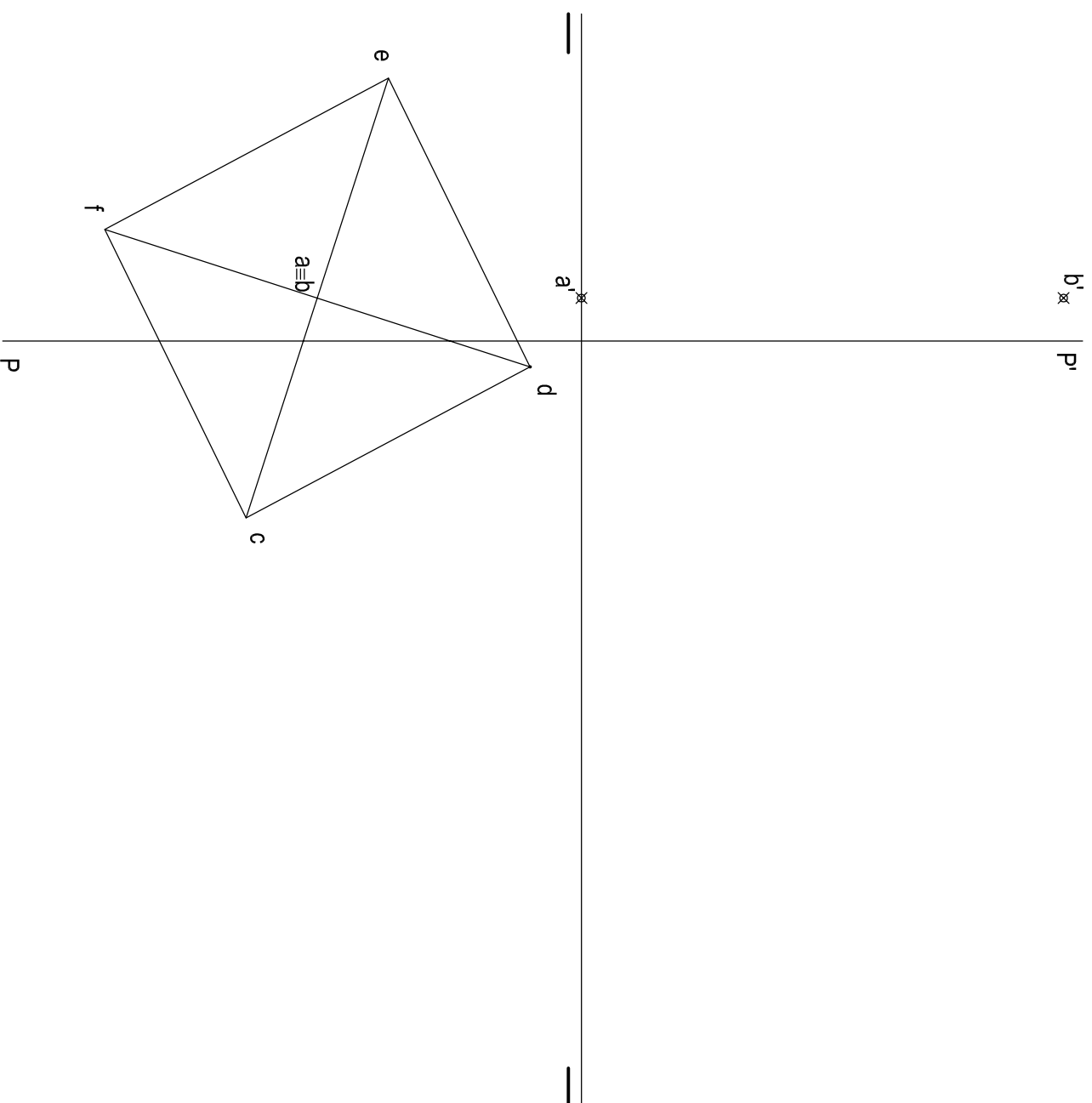
- a) Tiempo de duración de la prueba: 1 hora 30 minutos.
- b) El alumno elegirá y desarrollará en su totalidad una de las dos opciones. En ningún caso podrá combinar ambas opciones.
- c) Los problemas y ejercicios deben resolverse exclusivamente en los formatos facilitados, realizando cada uno de ellos en su correspondiente hoja.
- d) La puntuación total y las correspondientes a los distintos apartados, si los hubiere, están indicadas en cada uno de los respectivos problemas y ejercicios.
- e) La ejecución del dibujo se hará únicamente con lápiz de grafito, pudiéndose usar distintos grososres y durezas de minas.
- f) Para la realización de la prueba el alumno utilizará, como mínimo, el siguiente material de dibujo:
 - Lápices de grafito o portaminas.
 - Afilaminas.
 - Goma de borrar.
 - Escuadra y cartabón.
 - Regla graduada o escaletmetro.
 - Compás.
- g) Además de los útiles mencionados, se permitirá el uso de planillas, transportador de ángulos, un tablero tamaño A-3 con su correspondiente paralelógrafo y se permitirá el uso de calculadoras que no sean programables, gráficas ni con capacidad para almacenar o transmitir datos.

OPCIÓN A

PROBLEMA: SISTEMA DIÉDRICO.

Dadas las trazas del plano P , la proyección horizontal de un octaedro y las proyecciones de los vértices de una de sus diagonales AB , se pide:

- 1.- Representar la proyección vertical del octaedro.
- 2.- Dibujar las proyecciones de la sección producida por el plano P en el poliedro.
- 3.- Determinar la verdadera magnitud de la sección.



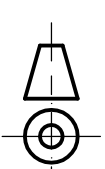
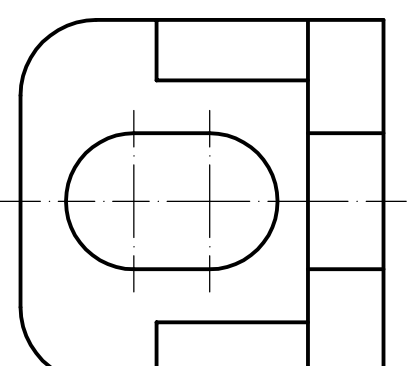
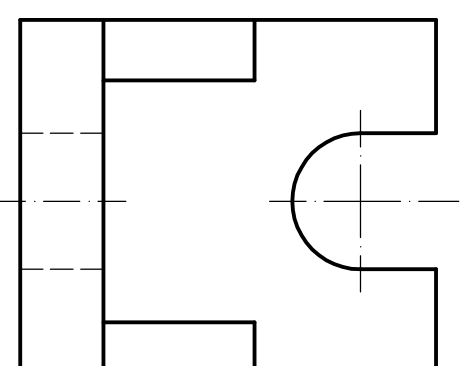
Apartado 1 2,0 puntos
Apartado 2 0,5 puntos
Apartado 3 1,5 puntos
Puntuación máxima 4,0 puntos

OPCIÓN A

EJERCICIO 1º: NORMALIZACIÓN

Dados alzado y planta de una pieza a escala 3:5, según el método de representación del primer diedro de proyección, se pide:

- 1.- Representar el perfil izquierdo en la posición que corresponda.
- 2.- Acotar la pieza según normas.

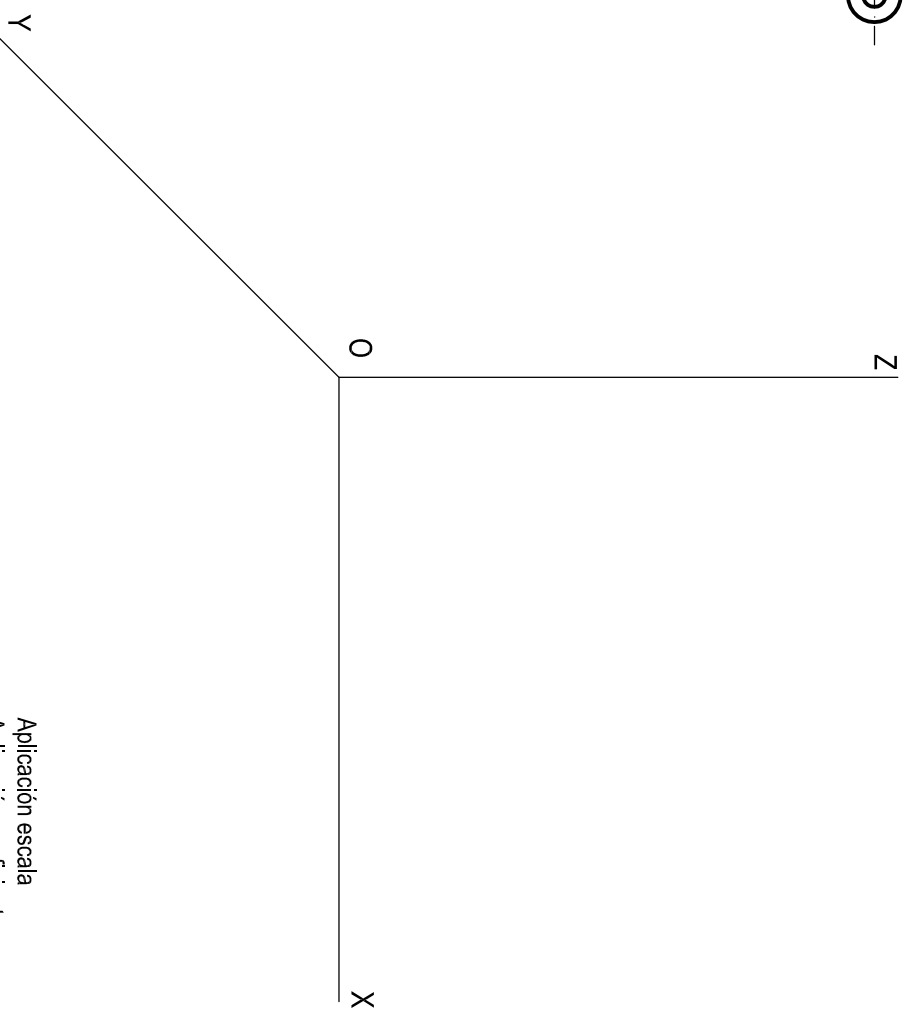
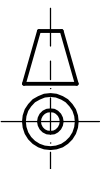
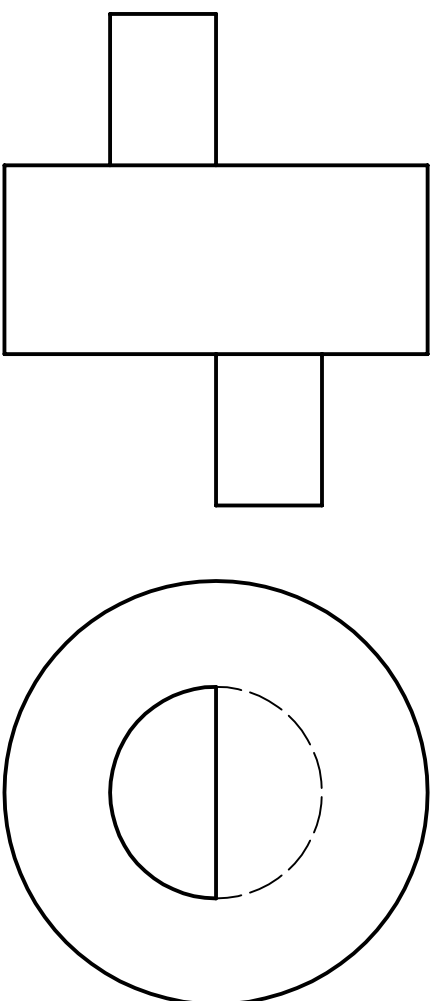


Apartado 1 1,5 puntos
Apartado 2 1,5 puntos
Puntuación máxima 3,0 puntos

OPCIÓN B
EJERCICIO 2º: PERSPECTIVA CABALLERA.

Dados alzado y perfil derecho de una pieza a escala 2:1, según el método de representación del primer diedro de proyección, se pide:

Dibujar su perspectiva caballera a escala 3:1 según los ejes dados, aplicando el coeficiente de reducción de valor 2/3 y determinando vistos y ocultos.



Aplicación escala 0,5 puntos
Aplicación coeficiente 0,5 puntos
Perspectiva pieza 1,5 puntos
Vistos y ocultos 0,5 puntos
Puntuación máxima 3,0 puntos



UNIVERSIDADES DE ANDALUCÍA
PRUEBA DE ACCESO A LA UNIVERSIDAD
CURSO 2009 - 2010

DIBUJO TÉCNICO II

DATOS DEL ALUMNO

APELLIDOS Y NOMBRE: _____

D.N.I.: _____ **CENTRO:** _____

Nº de Orden En _____ a _____ de _____ de 2010

Pegatina de identificación

(a cumplimentar por el alumno)

Nº de Orden

Calificación

OPCIÓN B

Pegatina de identificación

(a cumplimentar por el alumno, en su caso)

(a cumplimentar por el tribunal)

(a cumplimentar por el tribunal)

Instrucciones:

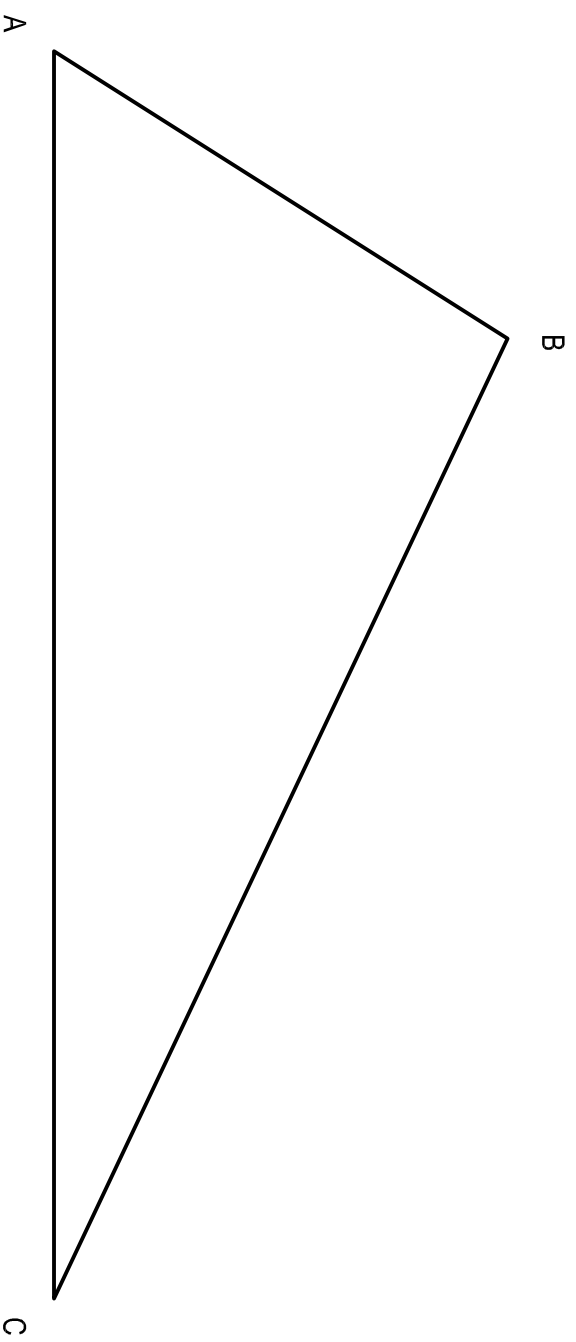
- Tiempo de duración de la prueba: 1 hora 30 minutos.
- El alumno elegirá y desarrollará en su totalidad una de las dos opciones. En ningún caso podrá combinar ambas opciones.
- Los problemas y ejercicios deben resolverse exclusivamente en los formatos facilitados, realizando cada uno de ellos en su correspondiente hoja.
- La puntuación total y las correspondientes a los distintos apartados, si los hubiere, están indicadas en cada uno de los respectivos problemas y ejercicios.
- La ejecución del dibujo se hará únicamente con lápiz de grafito, pudiéndose usar distintos grososres y durezas de minas.
- Para la realización de la prueba el alumno utilizará, como mínimo, el siguiente material de dibujo:
 - Lápices de grafito o portaminas.
 - Afilaminas.
 - Goma de borrar.
 - Escuadra y cartabón.
 - Regla graduada o escalímetro.
 - Compás.
- Además de los útiles mencionados, se permitirá el uso de planillas, transportador de ángulos, un tablero tamaño A-3 con su correspondiente paralelógrafo y se permitirá el uso de calculadoras que no sean programables, gráficas ni con capacidad para almacenar o transmitir datos.

OPCIÓN B

PROBLEMA: TRAZADOS GEOMÉTRICOS.

Dado el triángulo ABC, se pide:

- 1.- Determinar el incentro y dibujar la circunferencia inscrita.
- 2.- Determinar el circuncentro y dibujar la circunferencia circunscrita.
- 3.- Determinar el baricentro.
- 4.- Dibujar la circunferencia que contiene el incentro, baricentro y circuncentro.



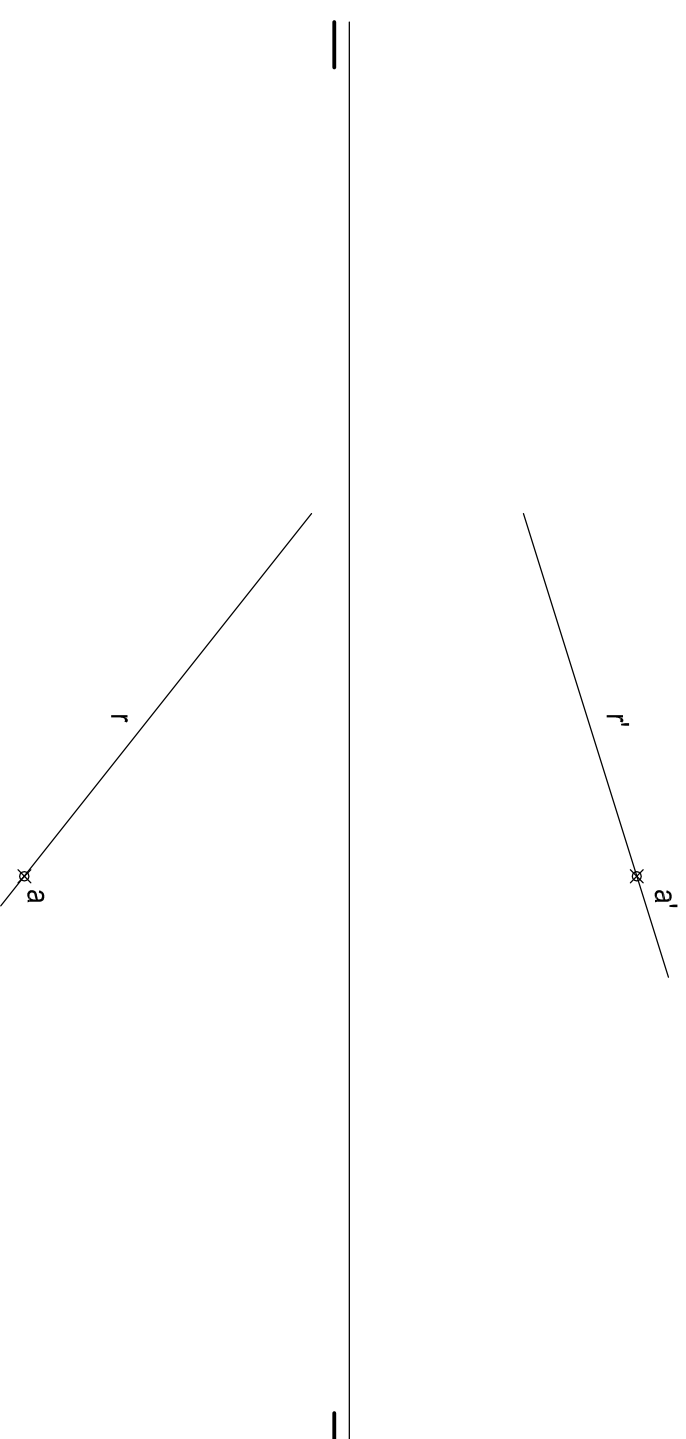
Apartado 1	1,0 puntos
Apartado 2	1,0 puntos
Apartado 3	0,5 puntos
Apartado 4	1,5 puntos
Puntuación máxima	4,0 puntos

OPCIÓN B

EJERCICIO 1º: SISTEMA DIÉDRICO.

Dadas las proyecciones de la recta R y del punto A, se pide:

- 1.- Transformar la recta R en una recta frontal, mediante cambio de plano o giro.
- 2.- Determinar sobre la recta R las proyecciones del segmento AB de 60 mm de longitud, sabiendo que el punto B tiene menor cota que el punto A.
- 3.- Representar el plano P perpendicular al segmento AB por su punto medio.



Apartado 1	1,5 puntos
Apartado 2	0,5 puntos
Apartado 3	1,0 puntos
Puntuación máxima	3,0 puntos