



Aferrau una etiqueta identificativa amb codi de barres

Prova d'accés a la Universitat (2012)

Geografia

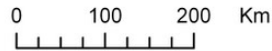
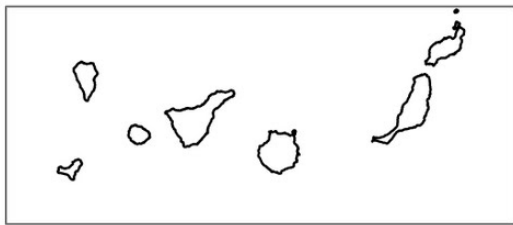
Model 3 Opció A

Aferrau la capçalera d'examen un cop acabat l'exercici

OPCIÓ A

1. Localitzau al mapa adjunt tres conurbacions importants, i assenyalau alguns dels nuclis de població que les conformen.

(Identificau els elements que es demanen, assenyalau-los al mapa, acolorint-los o amb símbols convencionals i amb el nom localitzat sobre l'indret. Afegiu la llegenda i alguna nota explicativa breu al rectangle en blanc).



Empty rectangular box for student response

Puntuació màxima ..... 3 punts



2. Definiu o descriuiu breument **5** termes escollits entre els següents: Comunitat autònoma, Desertització, Albufera, Mortalitat infantil, Ramaderia intensiva, Economia submergida, Districte central de negocis (CBD), Turisme de masses.

*(Es demana una correcta definició amb referència a la matèria de Geografia, i convé que vagi acompanyada de qualche exemple il·lustratiu; no es valorarà res escrit fora dels espais delimitats per a cada terme).*

--

--

--

--

--

Puntuació màxima ..... 3 punts
--------------------------------



3. Comentau, contestant les qüestions plantejades, la taula estadística següent:

Evolució de la composició de la població d'Espanya per grans grups d'edat.

(L'espai per a la resposta és aquest full i la seva cara posterior. La resposta ha de ser raonada o s'han d'indicar els valors que la justifiquen. Cal indicar clarament el nombre de la qüestió que es respon).

<b>Any</b>	<b>% de joves</b> (0-15 anys)	<b>% d'adults</b> (15-65 anys)	<b>% de vells</b> (+ que 65 anys)
<b>1900</b>	33,48	61,21	5,31
<b>1930</b>	31,61	62,11	6,29
<b>1960</b>	27,34	64,24	8,41
<b>1991</b>	19,38	66,81	13,82
<b>2010</b>	14,75	70,60	14,65

Font: INE (dades agrupades)

1. Quina ha estat l'evolució de la composició per grans grups d'edat de la població espanyola entre 1900 i 2010? (0,25 punts)
2. Quins procés demogràfic s'aprecia? (0,25 punts)
3. Quins han estat els motius que expliquen aquesta evolució? (0,75 punts)
4. Quines conseqüències socials i econòmiques pot tenir aquest procés? (0,75 punts)

Puntuació màxima ..... 2 punts



Aferrau una etiqueta identificativa  
amb codi de barres

4. Comentau, contestant les qüestions plantejades, el text següent:

*(L'espai per a la resposta és aquest full i la seva cara posterior. La resposta ha de ser raonada. Cal indicar clarament el nombre de la qüestió que es respon).*

El procés de desenvolupament industrial i terciari al llarg del segle XX ha comportat el despoblament d'àrees extenses del món rural.

La funció productiva dels espais forestals s'ha vist substituïda per noves funcions dirigides a satisfer les necessitats d'oci, esbarjo i un contacte amb la natura que reclama la població urbana. El bosc ha deixat de ser, en molts casos, un espai productiu per passar a ser un espai per viure-hi, amb l'establiment d'urbanitzacions, o per fer-hi visites esporàdiques (caps de setmana, vacances) amb la finalitat de realitzar-hi activitats de lleure.


El despoblament que ha afectat el medi rural ha suposat l'expansió de la vegetació forestal: boscs, màquies, brolles. Tanmateix, aquests espais suporten una alta freqüentació de visitants ocasionals, inexperts pel que fa al comportament adequat en un medi natural que suporta un gran risc d'incendi forestal. Es dona, per tant, la paradoxa de veure com uns espais que han perdut un bon nombre de població permanent es veuen esporàdicament visitats per un nombre gens menyspreable de ciutadans.

La conjunció dels dos fenòmens: despoblació i constitució de grans superfícies de vegetació forestal, per una banda, i la freqüentació intensa de ciutadans inexperts, per l'altra, és la causa que explica l'augment de la superfície forestal cremada els darrers anys.

(J. Gordi, modificat)

1. A quin procés de transformació del món rural fa referència el text anterior? (0,25 punts)
2. Quines són les característiques d'aquest procés? (0,25 punts)
3. Quines conseqüències per al medi ambient i la societat tenen els incendis forestals? (0,75 punts)
4. Quines són les àrees de la península Ibèrica més afectades pels incendis? Per quin motiu? (0,75 punts)

Puntuació màxima ..... 2 punts



Prova d'accés a la Universitat (2012)

Geografia

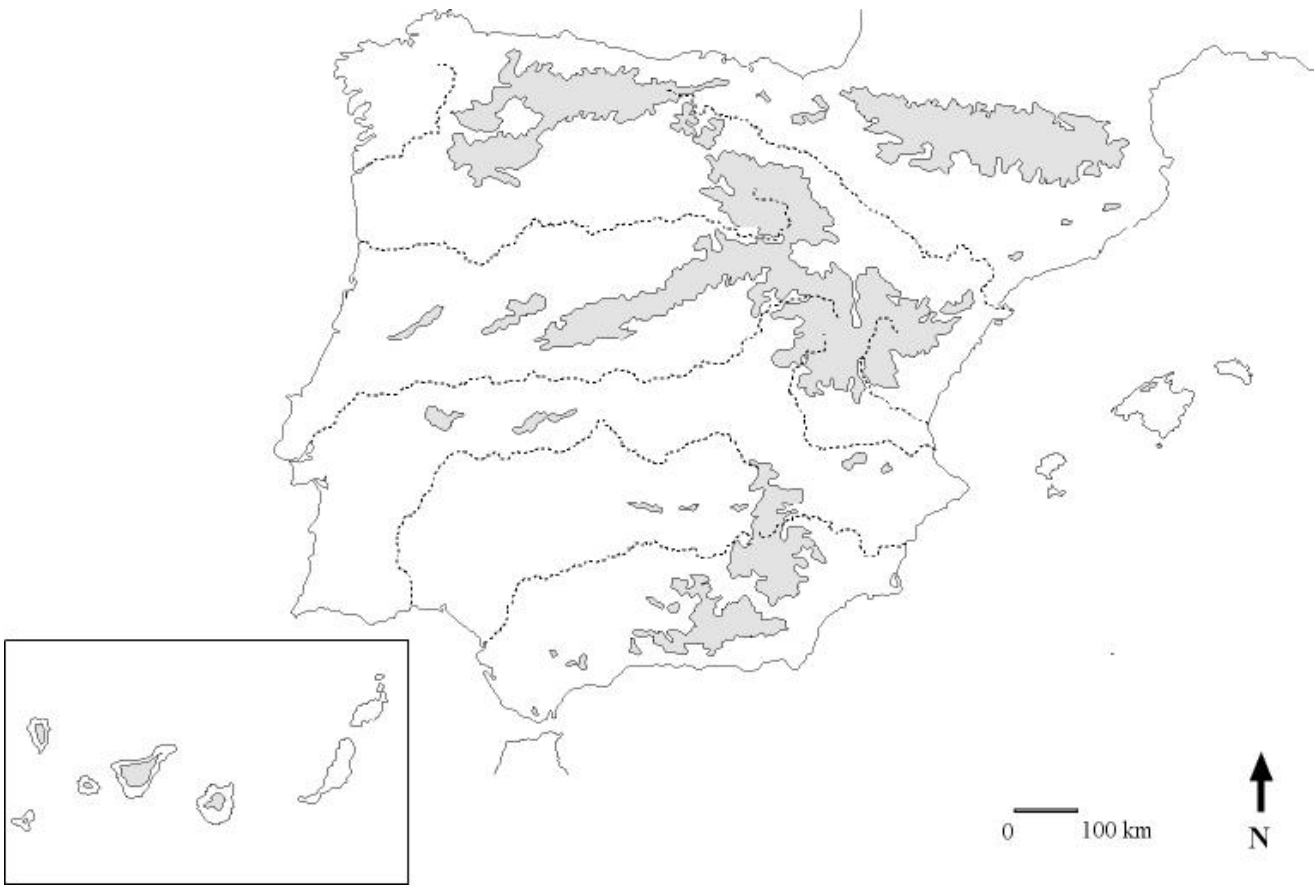
Model 3 Opció B

Aferrau la capçalera d'examen un cop acabat l'exercici

OPCIÓ B

1. Localitzau al mapa adjunt tres espais naturals protegits (parcs nacionals o altres figures de protecció del medi natural).

(Identificau els elements que es demanen, assenyalau-los al mapa, acolorint-los o amb símbols convencionals i amb el nom localitzat sobre l'indret. Afegiu la llegenda i alguna nota explicativa breu al rectangle en blanc).



Empty rectangular box for student response.

Puntuació màxima ..... 3 punts



2. Definiu o descriuiu breument **5** termes escollits entre els següents: Modelat glacial, Endorreisme, Plana litoral, Migració pendular, Transports regulars, Transhumància, Conurbació, Tractats de Roma.

*(Es demana una correcta definició amb referència a la matèria de Geografia, i convé que vagi acompanyada de qualche exemple il·lustratiu; no es valorarà res escrit fora dels espais delimitats per a cada terme).*

Puntuació màxima ..... 3 punts



3. Comentau, contestant les qüestions plantejades, la taula estadística següent:

*(L'espai per a la resposta és aquest full i la seva cara posterior. La resposta ha de ser raonada o s'han d'indicar els valors que la justifiquen. Cal indicar clarament el nombre de la qüestió que es respon).*

Estructura de la producció agrària per subsectors (% sobre el valor total de la producció)

	Agricultura	Ramaderia	Forestal	Altres
Galícia	21.7	66.9	7.3	4.1
Astúries	13.3	80.3	4.3	2.1
País Basc	35.5	53.5	9.4	1.6
La Rioja	73.0	23.8	1.8	1.4
Castella-la Manxa	58.5	35.7	2.4	3.4
Comunitat Valenciana	80.6	16.6	0.3	2.5
Andalusia	79.2	16.8	1.7	2.3

1. Quines són les regions de la taula més especialitzades en el subsector ramader? *(0,25 punts)*
2. Quins models de repartiment del valor de la producció agrària es poden distingir entre les comunitats autònomes de la taula? *(0,25 punts)*
3. Quines característiques del medi físic influeixen en les diferències que s'aprecien entre les diferents comunitats autònomes de la taula? *(0,75 punts)*
4. A quina de les comunitats autònomes que apareixen a la taula creus que s'assembla més l'estructura productiva del sector agrari de les Illes Balears?, per què? *(0,75 punts)*

Puntuació màxima ..... 2 punts



Aferrau una etiqueta identificativa  
amb codi de barres

**4. Comentau, contestant les qüestions plantejades, el text següent:**

*(L'espai per a la resposta és aquest full i la seva cara posterior. La resposta ha de ser raonada. Cal indicar clarament el nombre de la qüestió que es respon).*

Determinades regions turístiques, que gaudeixen d'una demanda forta durant els períodes vacacionals, pateixen abandonaments massius durant la major part de l'any, i moltes empreses turístiques limiten la seva oferta a la temporada estival o, com a molt, al règim de vacances dels països que proporcionen el flux més important de turistes.

El nombre de visitants que arriba mensualment a Espanya pot variar en la proporció 1:5 (diferència existent entre febrer i agost): això es tradueix en l'ocupació que es fa dels serveis turístics. Però, a més, els fluxos de la demanda es dirigeixen d'una forma molt menys polaritzada als mesos de la temporada baixa: mentre que, a Tenerife, la proporció entre el mes d'ocupació més alta de l'oferta i el de més baixa oscil·la entre 8 i 6, a la Costa Brava va de 18 a 1, i a Tarragona, de 30 a 1. D'aquesta manera, l'índex d'ús dels hotels, si es considera tot l'any, varia entre valors extrems d'ocupació, que a les Canàries superen el 65%, mentre que al litoral de la Costa Brava no assoleixen un 25%. A les Illes Balears les places hoteleres s'aprofiten en un percentatge proper al 50%.

1. A quin problema de l'activitat turística fa referència el text? (0,25 punts)
2. Quines són les regions turístiques on aquest problema té una màxima incidència? (0,25 punts)
3. Quins són els motius que expliquen aquest comportament del sector turístic espanyol? (0,75 punts)
4. Quines solucions es poden aplicar per solucionar aquest problema? (0,75 punts)

Puntuació màxima ..... 2 punts