



Aferrau una etiqueta identificativa amb codi de barres

Prova d'accés a la Universitat (2012)


Geografia

Model 2 Opció A

Aferrau la capçalera d'examen un cop acabat l'exercici

OPCIÓ A

1. Distingiu al mapa adjunt tres àrees amb una producció vitícola considerable (Identificau els elements que es demanen, assenyalau-los al mapa, acolorint-los o amb símbols convencionals i amb el nom localitzat sobre l'indret. Afegiu la llegenda i alguna nota explicativa breu al rectangle en blanc).



0 100 200 Km



Empty rectangular box for student response

Puntuació màxima 3 punts



2. Definiu o descriuiu breument **5** termes escollits entre els següents: Província, Continentalitat climàtica, Cens de població, Prat d'alta muntanya, Taxa de fecunditat, Ramaderia extensiva, Eixample, Rururbanització.
(Es demana una correcta definició amb referència a la matèria de Geografia, i convé que vagi acompanyada de qualche exemple il·lustratiu; no es valorarà res escrit fora dels espais delimitats per a cada terme).

--

--

--

--

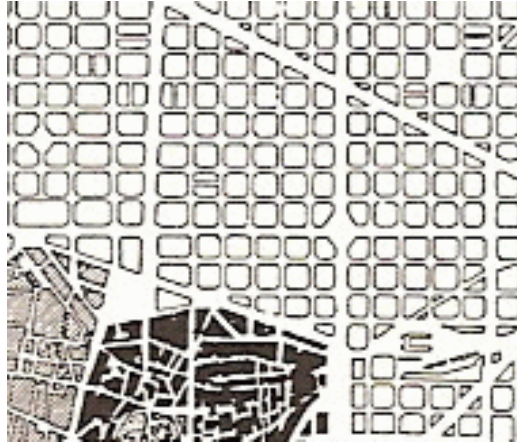
--

Puntuació màxima 3 punts



3. Comentau, contestant les qüestions plantejades, el plànol següent:

(L'espai per a la resposta és aquest full i la seva cara posterior. La resposta ha de ser raonada o s'han d'indicar els valors que la justifiquen. Cal indicar clarament el nombre de la qüestió que es respon).



1. Quins dos tipus de trama urbana es poden distingir al plànol? (0,25 punts)
2. A quines dues àrees de la ciutat corresponen? (0,25 punts)
3. Quines són les funcions econòmiques i socials que sol exercir cada una d'aquestes parts de la ciutat? (0,75 punts)
4. Quins altres tipus d'estructura de carrers coneixeu? (0,75 punts)

Puntuació màxima 2 punts



Aferrau una etiqueta identificativa
amb codi de barres

4. Comentau, contestant les qüestions plantejades, el text següent:

(L'espai per a la resposta és aquest full i la seva cara posterior. La resposta ha de ser raonada. Cal indicar clarament el nombre de la qüestió que es respon).

La Delegació del Govern i l'112 indiquen que s'han produït almenys 8 morts i 167 ferits, 3 de gravetat, a Lorca (Múrcia) a causa d'un fort terratrèmol de magnitud 5,2 a l'escala de Richter. El moviment sísmic principal ha estat precedit d'un altre tremolor de 4,4. El fenomen ha produït escenes de caos i desolació a la localitat murciana, on almenys 20.000 veïnats han hagut de passar la nit fora dels seus habitatges per temor de noves rèpliques i esbucaments.

L'epicentre s'ha localitzat pocs quilòmetres a l'est de Lorca, la tercera localitat més important de la regió, amb més de 92.000 habitants. També s'ha notat en poblacions com la capital, Cartagena i Águilas, i fins i tot se n'han adonat a Almeria, Jaén, Màlaga, Granada i Sevilla. I és que aquest terratrèmol no ha estat un dels que habitualment pateix aquesta zona. Es tracta d'un dels més forts mai registrats a la Regió de Murcia des que hi ha dades, segons la Xarxa Sísmica de l'Instituto Geográfico Nacional.

Encara que els habitants de Lorca estan acostumats a viure sobre una falla, el moviment sísmic d'avui els ha fet recordar el que es va registrar el 29 de gener de 2005, que va fer malbé un milenar d'edificis.

1. A quin tipus de fenomen natural fa referència el text anterior? (0,25 punts)
2. Quines són les seves principals característiques? (0,25 punts)
3. Quines àrees del territori espanyol solen patir més sovint moviments sísmics, i per què? (0,75 punts)
4. Quins altres fenòmens naturals catastròfics afecten intensament l'àrea mediterrània de la península Ibèrica? (0,75 punts)

Puntuació màxima 2 punts



Prova d'accés a la Universitat (2012)

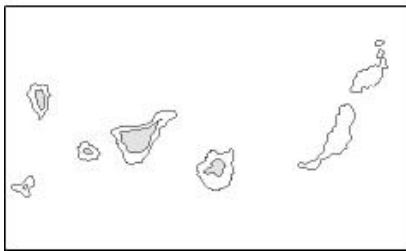
Geografia

Model 2 Opció B

Aferrau la capçalera d'examen un cop acabat l'exercici

OPCIÓ B

1. Localitzau al mapa adjunt tres sectors amb un important desenvolupament del modelat càrstic. (Identificau els elements que es demanen, assenyalau-los al mapa, acolorint-los o amb símbols convencionals i amb el nom localitzat sobre l'indret. Afegiu la llegenda i alguna nota explicativa breu al rectangle en blanc).



Empty box for legend and notes

Puntuació màxima 3 punts



2. Definiu o descriuiu breument **5** termes escollits entre els següents: Exorreisme, Delicte ecològic, Vegetació xeròfil·la, Reciclatge, Població concentrada, Repoblació forestal, Barraquisme, Recurs renovable.

(Es demana una correcta definició amb referència a la matèria de Geografia, i convé que vagi acompanyada de qualche exemple il·lustratiu; no es valorarà res escrit fora dels espais delimitats per a cada terme).

--

--

--

--

--

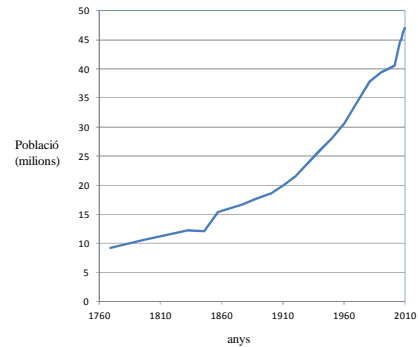
Puntuació màxima 3 punts



3. Comentau, contestant les qüestions plantejades, la taula estadística i el gràfic següents:

(L'espai per a la resposta és aquest full i la seva cara posterior. La resposta ha de ser raonada o s'han d'indicar els valors que la justifiquen. Cal indicar clarament el nombre de la qüestió que es respon).

Any	Població d'Espanya
1769	9.159.999
1797	10.541.221
1833	12.286.941
1857	15.464.340
1887	17.549.608
1900	18.616.630
1920	21.388.551
1940	26.014.278
1960	30.582.936
1981	37.742.561
2001	40.499.791
2010	47.021.031



1. Quin tipus d'evolució ha seguit la població a Espanya al llarg dels darrers 250 anys? (0,25 punts)
2. En quins moments l'increment demogràfic ha estat més ràpid? (0,25 punts)
3. Quins motius expliquen aquests moments de major auge demogràfic? (0,75 punts)
4. Quins dos grans models de comportament demogràfic o cicles s'han succeït al llarg d'aquests segles, quines són les seves característiques? (0,75 punts)

Puntuació màxima 2 punts



Aferrau una etiqueta identificativa
amb codi de barres

4. Comentau, contestant les qüestions plantejades, el text següent:

(L'espai per a la resposta és aquest full i la seva cara posterior. La resposta ha de ser raonada. Cal indicar clarament el nombre de la qüestió que es respon).

Avui el món rural illenc pateix en gran part del seu territori els efectes d'una forta desagrarització, i d'aquest fet en resulten situacions d'abandonament de les activitats agràries. Les conseqüències es manifesten a través de la disminució del nombre d'explotacions, la reducció de les terres conreades, tant de secà com de regadiu, la constant desaparició de la ramaderia extensiva i la quasi extinció dels treballadors actius a la pagesia. El camp s'ha convertit en un espai en el qual conflueixen distintes demandes d'origen urbà. Funcions residencials, agricultura a temps parcial, retirada de l'agricultura o introducció de pràctiques turístiques i d'oci són elements definitoris del nou món rural en començar el segle XXI. Tot això implica un canvi en la concepció del que ha estat fins fa unes dècades el pagès, que avui és convertit en un valor mediambiental: ha passat de ser l'alimentador del poble a ser considerat un producte de luxe i un jardiner del paisatge.

(Pere A. Salvà, 2002, modificat)

1. A quin sector econòmic fa referència el text? (0,25 punts)
2. Quins tipus d'activitats abasta aquest sector econòmic ? (0,25 punts)
3. Quins són els principals processos de transformació que actualment afecten el paisatge rural i l'activitat agrària a les Illes Balears? (0,75 punts)
4. Quines conseqüències sobre el territori, la societat i el medi ambient poden tenir aquestes transformacions? (0,75 punts)

Puntuació màxima 2 punts