



Geografia

Model 3

Opció elegida

A B

Nota 1a

Revisió

Error tècnic

Nota 2a

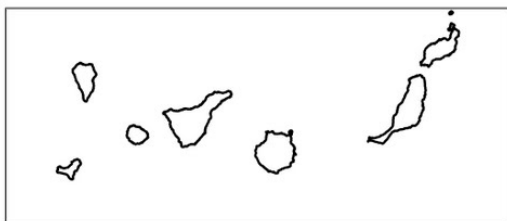
Nota 3a

Aferrau la capçalera d'examen
un cop acabat l'exercici

Opció A

1. Distingiu al mapa adjunt la localització de dos sectors especialitzats en conreu d'olivar i tres àrees on predomini l'agricultura intensiva.

(Identifiqui els elements que es demanen, assenyalau-los al mapa, acolorint-los o amb símbols convencionals i amb el nom localitzat sobre l'indret. Afegiu la llegenda i alguna nota explicativa breu al rectangle en blanc.)



Puntuació màxima 2,5 punts



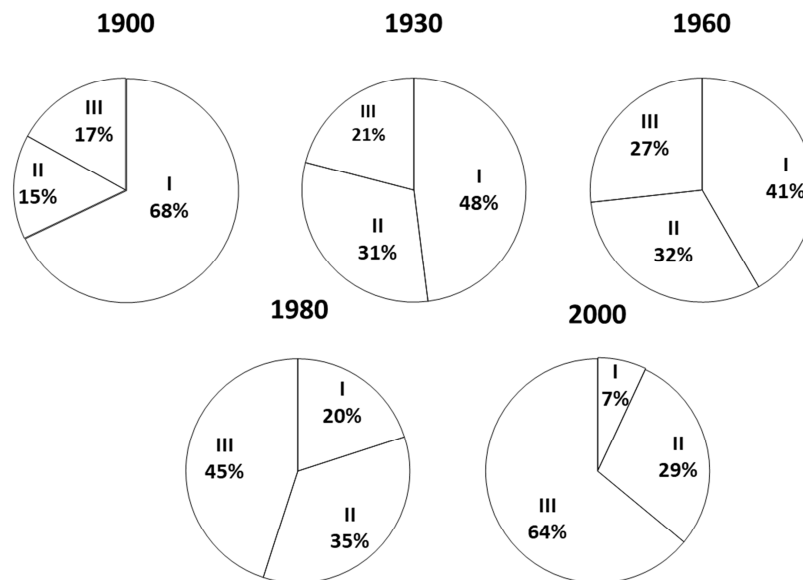
2. Definiu o descriuiu breument 5 termes escollits entre els següents: Mapa topogràfic, Torrent, Pis o estatge de vegetació, Reciclatge, Clima urbà, Aqüicultura, Parc tecnològic, Eixample.

(Es demana una correcta definició amb referència a la matèria de Geografia, i convé que vagi acompanyada de qualche exemple il·lustratiu. No es valorarà res escrit fora dels espais delimitats per a cada terme.)

Puntuació màxima 2,5 punts

3. Comentau, contestant les qüestions plantejades, el gràfic següent, referit a la distribució de la població activa a Espanya per sectors de producció.

(L'espai per a la resposta és aquest full i la cara posterior. La resposta ha de ser raonada o s'han d'indicar els valors que la justifiquen. Cal indicar clarament el número de la qüestió que es respon.)



Llegenda: I: sector primari, II: sector secundari i III: sector terciari.

Fons estadístiques diverses.

1. Quina ha estat l'evolució general del pes dels diferents sectors econòmics al llarg del segle XX? (0,50 punts)
2. Quines fases es poden establir dins aquesta evolució? Es tracta d'un procés que sempre ha seguit la mateixa tendència? (0,50 punts)
3. Quins motius expliquen els canvis observats? (0,75 punts)
4. Quines conseqüències territorials i socials han provocat aquests canvis en la dedicació a les diverses activitats econòmiques? (0,75 punts)



Puntuació màxima 2,5 punts

4. Comentau, contestant les qüestions plantejades, la següent taula estadística referida a l'evolució de la població dels diversos territoris de les Illes Balears al llarg del segle XXI.

(L'espai per a la resposta és aquest full i la cara posterior. La resposta ha de ser raonada. Cal indicar clarament el número de la qüestió que es respon.)

	2000	2005	2010	2015
Mallorca	677.014	777.821	869.067	859.289
Menorca	72.716	86.697	94.383	92.348
Eivissa	89.611	111.107	132.637	140.964
Formentera	6.289	7.506	9.962	11.878
Total Illes Balears	845.630	983.131	1.106.049	1.104.479

Font: INE.

1. Quina ha estat l'evolució global de la població de les Illes Balears als primers anys del segle XXI? *(0,50 punts)*
2. Quines etapes d'evolució es poden distingir? *(0,50 punts)*
3. Quines diferències s'aprecien entre les diverses illes pel que fa a l'evolució demogràfica? *(0,75 punts)*
4. Quins són els motius de les diferents dinàmiques? *(0,75 punts)*


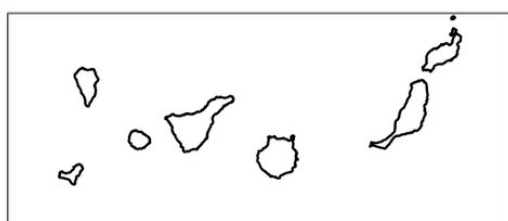


Puntuació màxima 2,5 punts

Opció B

1. Distingiu al mapa dues províncies amb elevada densitat de població i tres províncies amb baixa densitat de població.

(Identifiqui els elements que es demanen, assenyalau-los al mapa, acolorint-los o amb símbols convencionals i amb el nom localitzat sobre l'indret. Afegiu la llegenda i alguna nota explicativa breu al rectangle en blanc.)



Puntuació màxima 2,5 punts

2. Definiu o descriu breument 5 termes escollits entre els següents: Comunitat autònoma, Modelat càrstic, Clima oceànic, Sequera, Revinguda, Àrea endorreica, Cicle demogràfic modern, Sector públic.

(Es demana una correcta definició amb referència a la matèria de Geografia, i convé que vagi acompanyada de qualche exemple il·lustratiu. No es valorarà res escrit fora dels espais delimitats per a cada terme.)

Puntuació màxima 2,5 punts

3. Comentau, contestant les qüestions plantejades, la següent gràfica, corresponent a l'evolució de la població espanyola (expressada en milions d'habitants) entre 1800 i 2015.

(L'espai per a la resposta és aquest full i la cara posterior. La resposta ha de ser raonada o s'han d'indicar els valors que la justifiquen. Cal indicar clarament el número de la qüestió que es respon.)



Font: INE (dades processades)

1. Quina ha estat l'evolució de la població espanyola des de 1800? (0,50 punts)
2. Quines fases es poden destriar dins la gràfica evolutiva? (0,50 punts)
3. Quines dues grans etapes o cicles demogràfics es poden distingir i quines són les seves característiques? (0,75 punts)
4. Quines dues dinàmiques es poden observar al segle XXI? A quins motius responen? (0,75 punts)



Puntuació màxima 2,5 punts

4. Comentau, contestant les qüestions plantejades, la taula següent, referida a la mitjana de les temperatures màximes i mínimes per mesos en diversos observatoris:

(L'espai per a la resposta és aquest full i la cara posterior. La resposta ha de ser raonada. Cal indicar clarament el número de la qüestió que es respon.)

		Gen	Feb	Mar	Abr	Mai	Jun	Jul	Ago	Set	Oct	Nov	Des
Sòria	Mitjana(°C) temp. màximes	7.7	9.6	13.2	14.6	18.7	24.6	28.7	28.3	23.6	17.4	11.5	8.4
	Mitjana(°C) temp. mínimes	-1.3	-1.0	1.0	2.8	6.2	9.9	12.4	12.2	9.3	5.8	1.9	-0.4
Aeroport de Gran Canària	Mitjana(°C) temp. màximes	20.8	21.2	22.3	22.6	23.6	25.3	26.9	27.5	27.2	26.2	24.2	22.2
	Mitjana(°C) temp. mínimes	15	15	15.7	16.2	17.3	19.2	20.8	21.6	21.4	20.1	18.1	16.2
Aeroport de València	Mitjana(°C) temp. màximes	15.8	16.8	19.3	21.1	24.1	27.8	30.6	30.8	28.0	24.1	19.3	16.2
	Mitjana(°C) temp. mínimes	5.1	5.9	7.8	10.0	13.4	17.5	20.5	20.9	18.0	13.9	9.2	6.1

Font: AEMET

1. Quines diferències s'aprecien entre el comportament de les temperatures màximes i mínimes als diversos observatoris? *(0,50 punts)*
2. A quins tipus de clima corresponen els observatoris assenyalats?, quines característiques termomètriques tenen? *(0,50 punts)*
3. Com influeix la distribució de les temperatures mínimes i màximes en el desenvolupament de l'activitat agrària?, quines conseqüències té, referides a les àrees on es troben els observatoris que s'assenyalen? *(0,75 punts)*
4. Com influeix la distribució de les temperatures mínimes i màximes en el desenvolupament de les activitats turístiques?, quines conseqüències té, referides a les àrees on es troben els observatoris que s'assenyalen? *(0,75 punts)*



Puntuació màxima 2,5 punts

**Aferrau una etiqueta identificativa
amb codi de barres**