

GEOGRAFÍA

INSTRUCCIONES GENERALES Y VALORACIÓN

ESTRUCTURA DE LA PRUEBA: Dispone de dos opciones para contestar (A y B). Debe escoger exclusivamente una de ellas.

PUNTUACIÓN: La puntuación total será en ambas opciones de 10 puntos, correspondiendo a la primera parte 3,5 puntos (1,5 puntos al apartado 1.1 y 2 puntos al apartado 1.2), 4 puntos a la segunda parte y a la tercera 2,5 puntos.

TIEMPO: 1 hora y 30 minutos.

OPCIÓN A

Primera parte

1. Cuestiones:

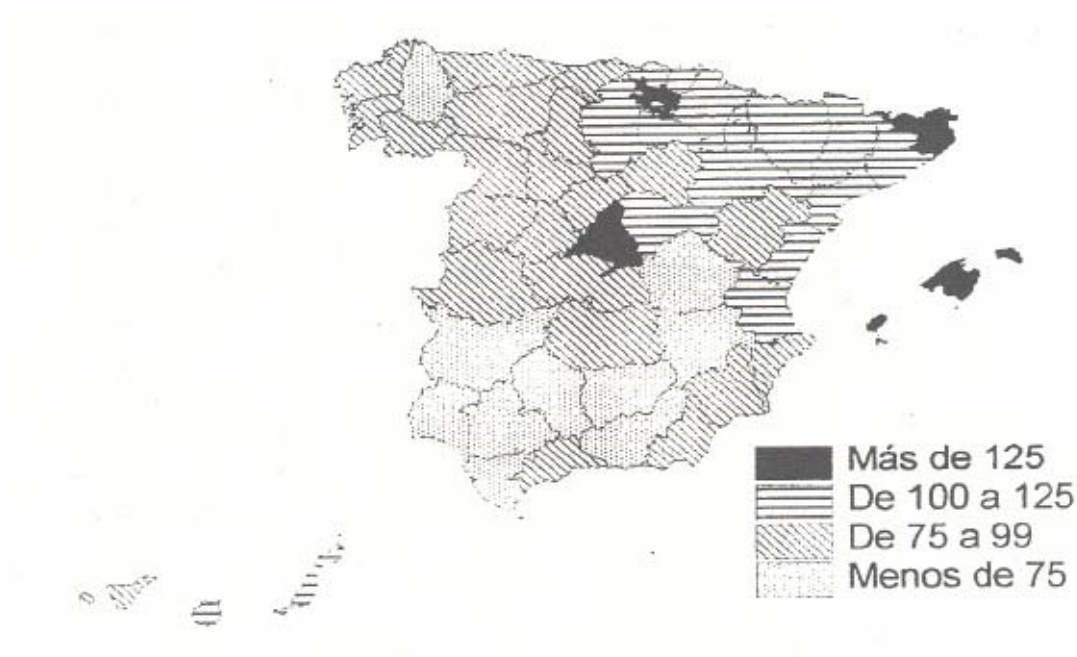
Defina, en el cuadernillo adjunto, los siguientes términos o conceptos geográficos, utilizando como máximo una cara del cuadernillo:

Bancales, Equinoccio, Fondos FEDER, Fosa tectónica, Gradiente térmico, Industria siderúrgica.

Puntuación máxima: 1,5 puntos.

2. A la vista del mapa adjunto, “*Distribución provincial del PIB/habitante en 1998*”, señale las provincias que posean un índice inferior a 75. Comente las posibles causas que explican esta situación en dichas provincias.

Puntuación máxima: 2 puntos.



GEOGRAFÍA

Segunda Parte

Tema: “La industria en España”.

Desarrolle, de manera sintética, el tema propuesto (utilice, como máximo, ambas caras de un folio), atendiendo al menos a los siguientes aspectos:

- Etapas de la industrialización.
- Principales tipos de industria y localización de los mismos.
- Transformaciones recientes: proceso de reconversión y áreas emergentes.

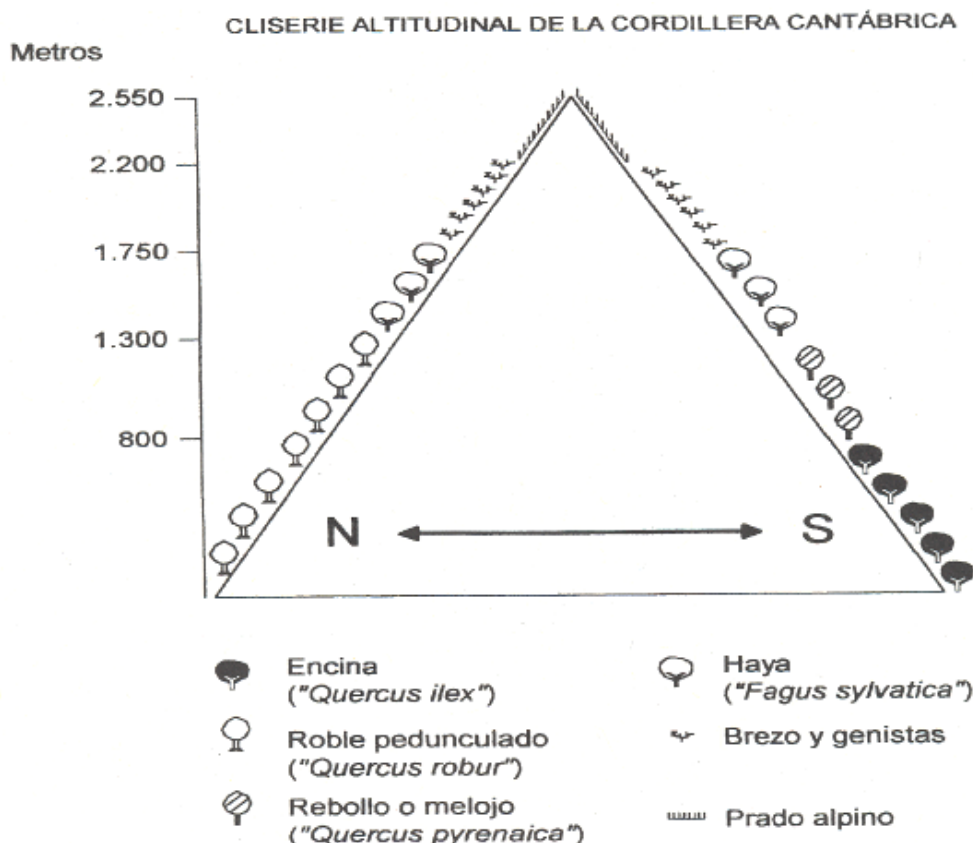
Puntuación máxima: 4 puntos.

Tercera Parte

Comente el gráfico adjunto, Cliserie de la vegetación de la Cordillera Cantábrica, atendiendo al menos a los siguientes aspectos:

- a) Caracteres que presenta.
- b) Factores que la explican.
- c) Consecuencias en la configuración de los paisajes e incidencias en los sistemas de aprovechamiento.

Puntuación máxima: 2,5 puntos.



GEOGRAFÍA

OPCIÓN B

Primera parte

1. Cuestiones:

Defina, en el cuadernillo adjunto, los siguientes términos o conceptos geográficos, utilizando como máximo una cara del cuadernillo:

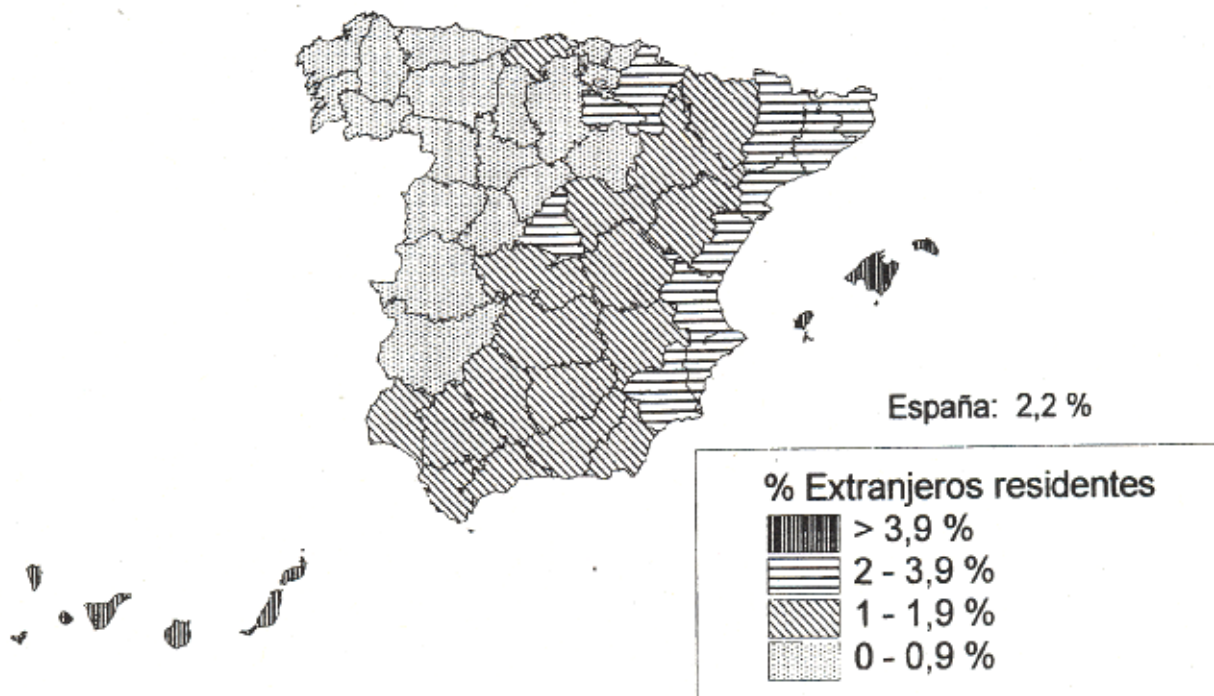
Anticiclón, Economía sumergida, Lluvias orográficas, Meandro, Oligopolio, Tasa bruta de fecundidad.

Puntuación máxima: 1,5 puntos.

2. A la vista del mapa adjunto, sobre el “*Porcentaje de extranjeros residentes. 2000*”, indique las provincias con índices iguales o superiores al 2%, así como las principales razones que explican esa localización.

Puntuación máxima: 2 puntos.

Porcentaje de extranjeros residentes respecto a la población residente.



GEOGRAFÍA

Segunda Parte

Tema: “El clima mediterráneo en España”.

Desarrolle, de manera sintética, el tema propuesto (utilice, como máximo, ambas caras de un folio), atendiendo al menos a los siguientes aspectos:

- Factores geográficos y atmosféricos.
- Caracteres y variedades de clima mediterráneo.
- Relación con los demás componentes del medio natural y determinadas actividades económicas.

Puntuación máxima: 4 puntos.

Tercera Parte

Comentario de la lámina adjunta

Realice un comentario de la lámina que se adjunta, atendiendo a los siguientes aspectos:

- Tipo de paisaje al que pertenece y localización.
- Caracteres del medio natural y factores que lo explican.
- El poblamiento.
- La actividad económica.

Puntuación máxima: 2,5 puntos.

GEOGRAFÍA

