

INSTRUCCIONES GENERALES Y VALORACIÓN

Dispone de dos opciones para contestar (A y B). Debe escoger exclusivamente una de ellas.
 La puntuación total será en ambas opciones de **10 puntos**, correspondiendo a la primera parte **3,5 puntos** (1,5 puntos al apartado 1.1 y 2 puntos al apartado 1.2), **4 puntos** a la segunda parte y a la tercera **2,5 puntos**.
TIEMPO. Duración de la prueba: 1 hora y 30 minutos.

OPCIÓN A

1ª Parte

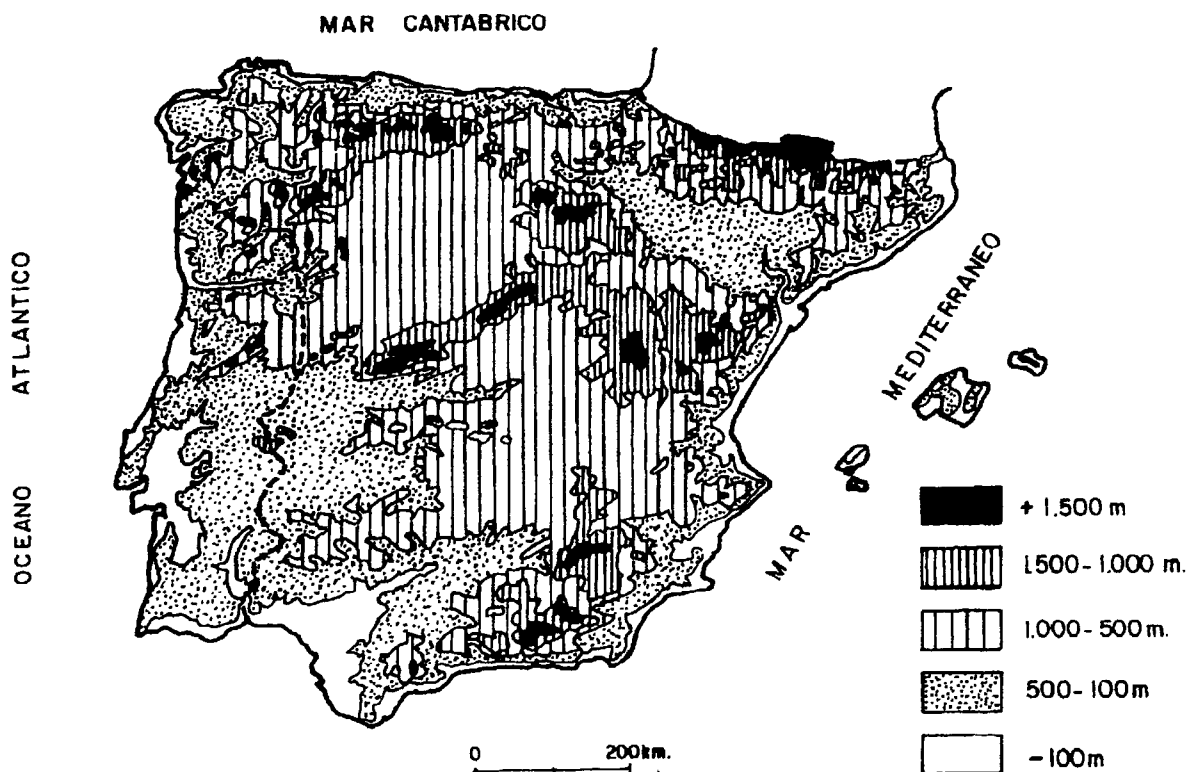
1.1. *Cuestiones:* Defina, en el cuadernillo adjunto, seis de los siguientes términos o conceptos geográficos, utilizando como máximo una cara del cuadernillo:

Ciudad jardín, Deforestación, Isobara, Latitud, Morrena, Pesca de bajura, Pólder, Terciarización.

Puntuación máxima: 1,5 puntos.

1.2. A partir del “*mapa topográfico simplificado de la Península Ibérica y Baleares*”, indique en qué sistemas montañosos están las altitudes superiores a los 1.500 metros, así como las altitudes predominantes en las depresiones del Ebro y del Guadalquivir. Razone la repercusión de la configuración topográfica en el clima de la Submeseta Norte.

Puntuación máxima: 2 puntos.



	UNIVERSIDADES PÚBLICAS DE LA COMUNIDAD DE MADRID PRUEBA DE ACCESO A LOS ESTUDIOS UNIVERSITARIOS (LOGSE) Curso 2003-2004	Junio <u>Septiembre</u>
	MATERIA: GEOGRAFÍA	R1 R2

Ejercicio nº

Página nº 2

2ª Parte

Tema: *“Los transportes terrestres en España”*.

Desarrolle, de manera sintética, el tema propuesto (utilice, como máximo, ambas caras de un folio), atendiendo al menos a:

- Condicionantes humanos y naturales de la red de transportes.
- Tipos de transporte.
- El papel del transporte en la actividad económica.
- Transformaciones recientes

Puntuación máxima: 4 puntos

3ª Parte

Comentario de la fotografía adjunta:

Realice el comentario de la fotografía que se adjunta, atendiendo, al menos, a los siguientes aspectos:

- a) Principales elementos del paisaje.
- b) Vegetación
- c) Aspectos agrarios
- d) Infraestructuras vinculadas a las comunicaciones.

Puntuación máxima: 2,5 puntos.

	UNIVERSIDADES PÚBLICAS DE LA COMUNIDAD DE MADRID	Junio
	PRUEBA DE ACCESO A ESTUDIOS UNIVERSITARIOS (LOGSE) Curso 2003-2004	<u>Septiembre</u>
	MATERIA: GEOGRAFÍA	R1 R2

Ejercicio nº

Página nº 1

INSTRUCCIONES GENERALES Y VALORACIÓN

Dispone de dos opciones para contestar (A y B). Debe escoger exclusivamente una de ellas.

La puntuación total será en ambas opciones de **10 puntos**, correspondiendo a la primera parte **3,5 puntos** (1,5 puntos al apartado 1.1 y 2 puntos al apartado 1.2), **4 puntos** a la segunda parte y a la tercera **2,5 puntos**.

TIEMPO. Duración de la prueba: 1 hora y 30 minutos.

OPCIÓN B

1ª Parte

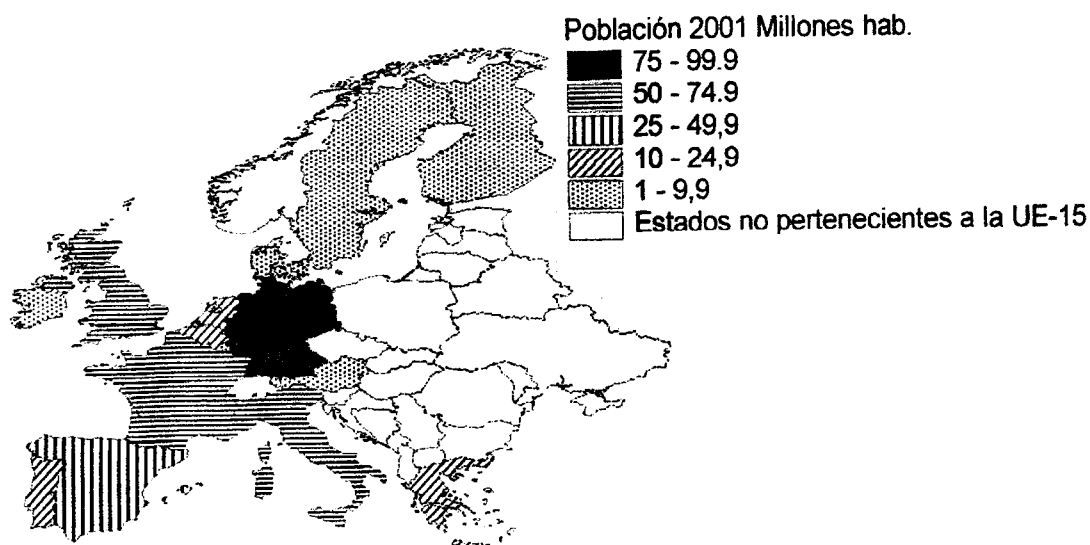
1.1. *Cuestiones:* Defina, en el cuadernillo adjunto, seis de los siguientes términos o conceptos geográficos, utilizando como máximo una cara del cuadernillo:

Aranceles, Caudal relativo, Ciudad dormitorio, Especies perennifolias, Fosa tectónica, Isoterma, Longitud geográfica, O.M.C.

Puntuación máxima: 1,5 puntos.

1.2. A partir del mapa adjunto sobre *“La población de la Unión Europea en el año 2001”*, identifique los estados, además de Luxemburgo, con menos de 25 millones de habitantes, citando la capital de cada uno de ellos. Comente las razones que explican la menor población de dichos estados, en relación con el resto de los pertenecientes a la Unión Europea.

Puntuación máxima: 2 puntos.



	UNIVERSIDADES PÚBLICAS DE LA COMUNIDAD DE MADRID	Junio
	PRUEBA DE ACCESO A ESTUDIOS UNIVERSITARIOS (LOGSE) Curso 2003-2004	<u>Septiembre</u>
	MATERIA: GEOGRAFÍA	R1 R2

Ejercicio nº

Página nº 2

2ª Parte

Tema: *“La hidrografía peninsular: factores y características”*.

Desarrolle, de manera sintética, el tema propuesto (utilice, como máximo, ambas caras de un folio), atendiendo al menos a los siguientes aspectos:

- Factores que influyen en la hidrografía peninsular.
- Principales cuencas fluviales y caracteres que presentan.
- El papel de los ríos españoles a lo largo de la Historia.

Puntuación máxima: 4 puntos

3ª Parte

Comentario del gráfico adjunto:

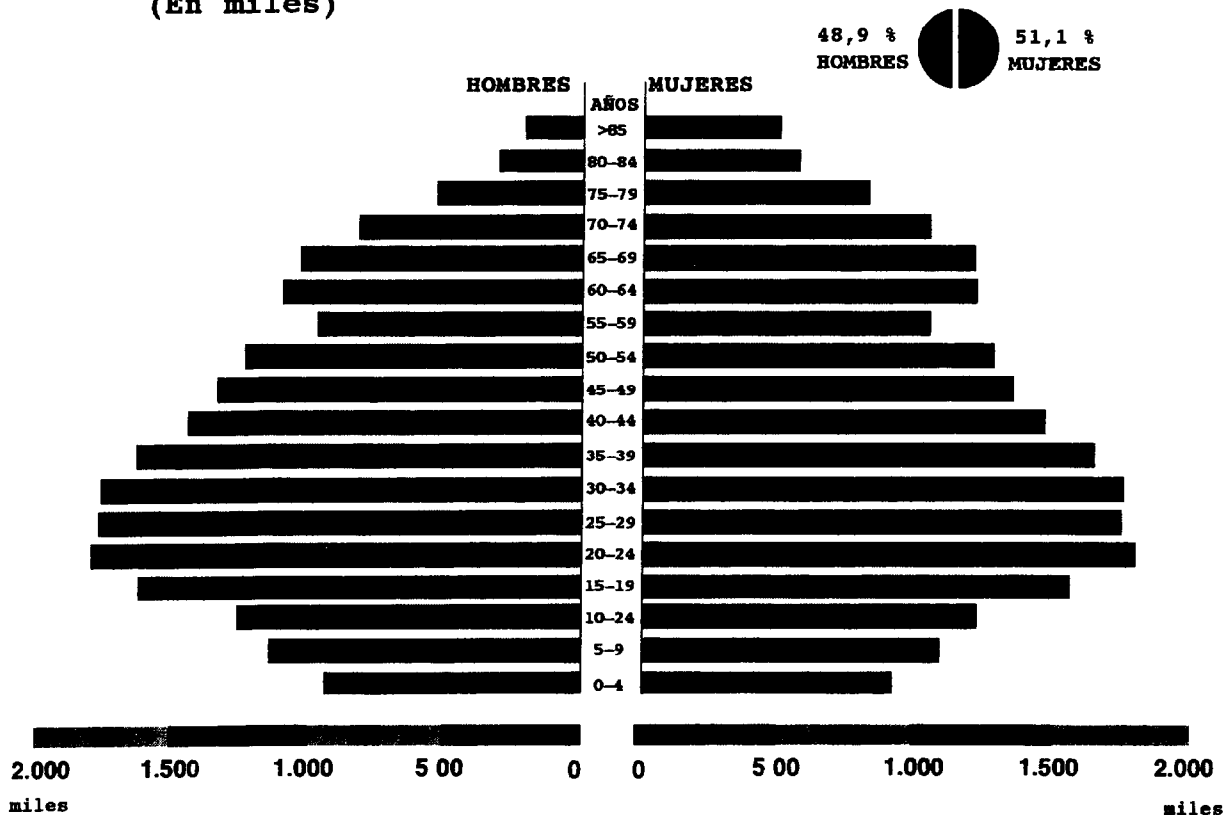
Realice un comentario de la pirámide de edades correspondiente a la estructura de la población española en 1998, atendiendo al menos a los siguientes aspectos:

- Descripción y características.
- Aspectos históricos, sociológicos y económicos que explican esta estructura.
- Consecuencias demográficas y económicas de la situación descrita.

Puntuación máxima: 2,5 puntos

ESTRUCTURA DE LA POBLACIÓN ESPAÑOLA, 1998

(En miles)





GEOGRAFÍA