

### INSTRUCCIONES GENERALES Y VALORACIÓN

Dispone de dos opciones para contestar (A y B). **Debe escoger exclusivamente una de ellas.**

La puntuación total será en ambas opciones de **10 puntos**, correspondiendo a la primera parte **1,5 puntos**, a la segunda **4 puntos**, a la tercera parte **2,5 puntos** y a la cuarta parte **2 puntos**.

TIEMPO. **Duración de la prueba:** “1 hora y 30 minutos”.

### OPCIÓN A

#### 1ª Parte

Defina, en el cuadernillo adjunto, seis de los siguientes términos o conceptos geográficos, utilizando como máximo una cara del cuadernillo:

**Anticiclón, Monocultivo, Latitud, Escala geográfica, Delta, Curvas de nivel, Meandro, Landa.**

*Puntuación máxima: 1,5 puntos.*

#### 2ª Parte

Tema: ***El proceso de “terciarización” de la economía española***

Desarrolle, de manera sintética, el tema propuesto (utilice, como máximo, ambas caras de un folio), atendiendo, al menos, a los siguientes puntos:

- Características del sector terciario.
- Factores que intervienen en su expansión.
- Contrastes regionales.

*Puntuación máxima: 4 puntos*

### 3ª Parte

#### Comentario de la fotografía adjunta:

Realice un comentario de la imagen adjunta, atendiendo, al menos, a los aspectos siguientes:

- Principales elementos del paisaje.
- Factores del medio físico que lo configuran.
- Transformaciones antrópicas (importancia de las infraestructuras).

*Puntuación máxima: 2,5 puntos.*

### 4ª Parte

A la vista del mapa adjunto, “*Provincias con más del 30% de tierras de regadío sobre el total de las tierras labradas*”, indique el nombre de las provincias “tramadas”, pertenecientes a dicha categoría; señale las razones que explican esta distribución y comente algunas consecuencias emanadas de este hecho.

*Puntuación máxima: 2 puntos.*





**UNIVERSIDADES PÚBLICAS DE LA COMUNIDAD DE MADRID**

PRUEBA DE ACCESO A ESTUDIOS UNIVERSITARIOS (LOGSE)  
Curso 2005-2006

**Septiembre**

**MATERIA:** GEOGRAFÍA

**INSTRUCCIONES GENERALES Y VALORACIÓN**

Dispone de dos opciones para contestar (A y B). **Debe escoger exclusivamente una de ellas.**

La puntuación total será en ambas opciones de **10 puntos**, correspondiendo a la primera parte **1,5 puntos** a la segunda parte **4 puntos**, a la tercera **2,5 puntos** y **2 puntos** a la cuarta.

**TIEMPO. Duración de la prueba:** “1 hora y 30 minutos”.

**OPCIÓN B**

**1ª Parte**

Defina, en el cuadernillo adjunto, **seis** de los siguientes términos o conceptos geográficos, utilizando como máximo una cara del cuadernillo:

**Ciclón, Policultivo, Solsticio, Transición demográfica, CBD, Arrabal, Vegetación esclerófila, Falla.**

*Puntuación máxima: 1,5 puntos.*

**2ª Parte**

Tema: “**Riesgos ambientales en España: la erosión y la desertificación**”.

Desarrolle, de manera sintética, el tema propuesto (utilice, como máximo, ambas caras de un folio), atendiendo, al menos, a los siguientes puntos:

- Factores topográficos y climáticos.
- Factores humanos.
- Principales zonas afectadas, áreas de riesgo inminente y consecuencias.

*Puntuación máxima: 4 puntos*

### 3ª Parte

#### Comentario de los gráficos adjuntos:

Realice un comentario de los gráficos adjuntos, atendiendo a los siguientes aspectos:

- Evolución y distribución del turismo en España;
- Análisis de las posibles causas, y de sus consecuencias.

*Puntuación máxima: 2,5 puntos*

Gráfico n.1: “Evolución anual del número de turistas (en miles)”

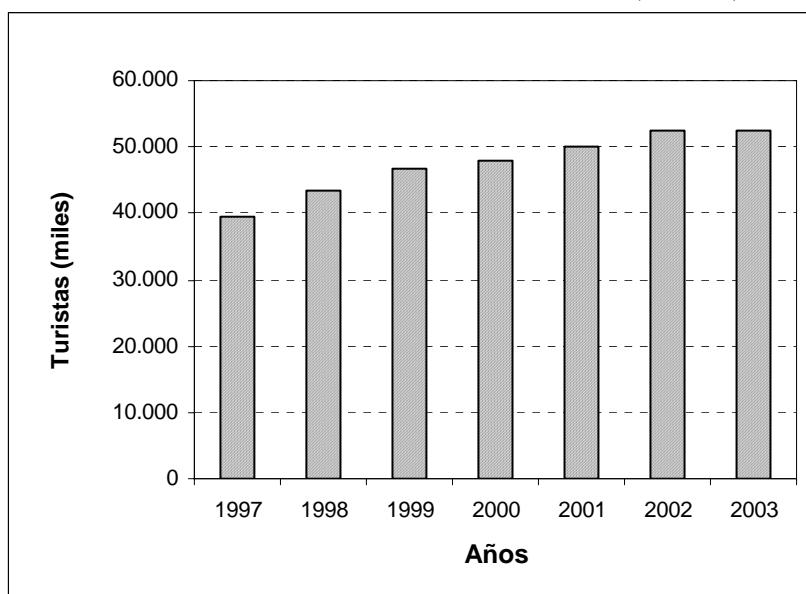
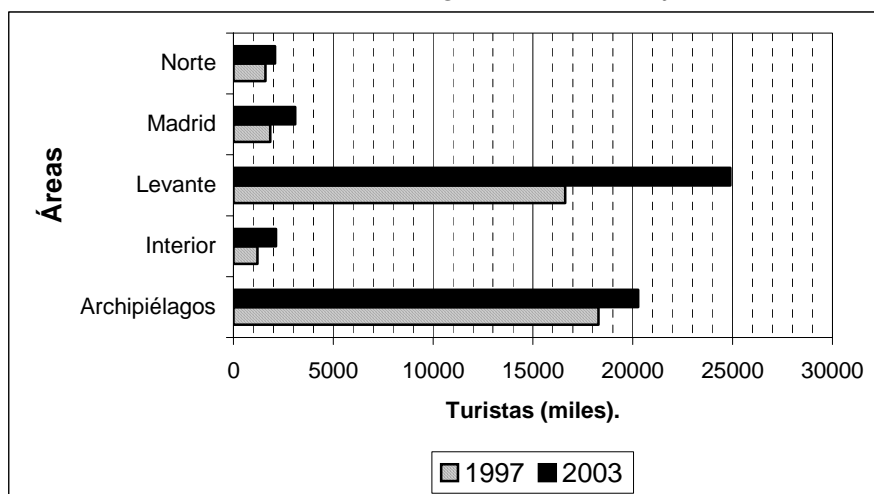


Gráfico n. 2: “Número de turistas según área de destino final (1997 / 2003)”

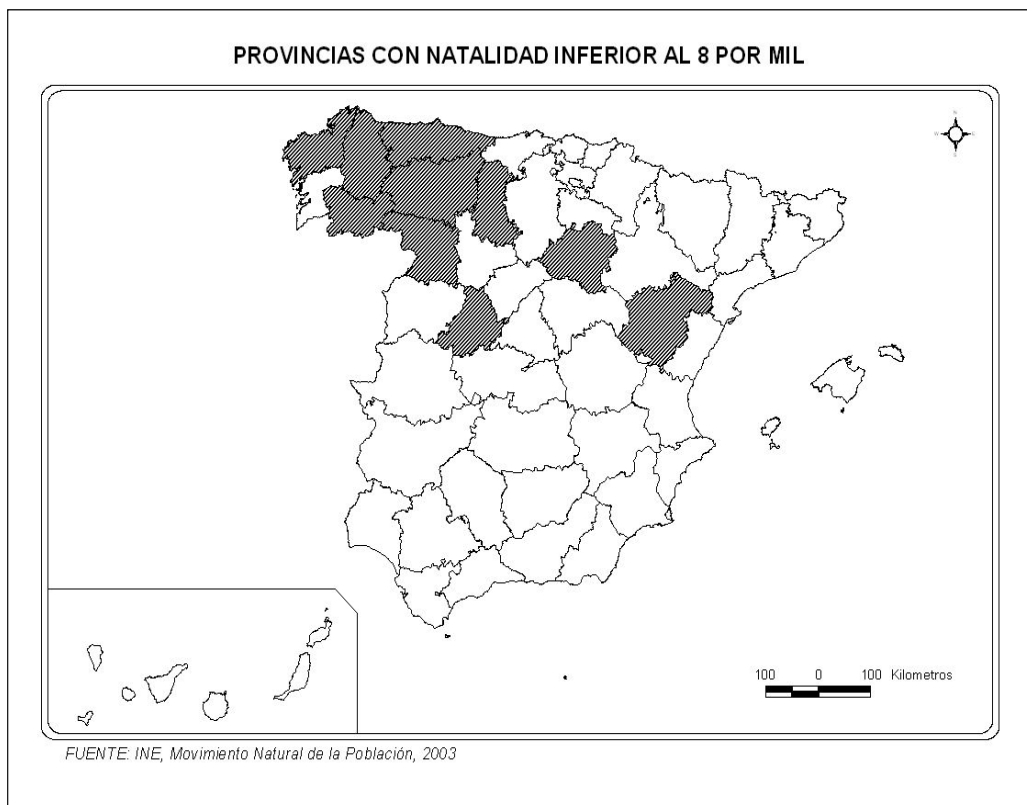


NOTA: Las áreas están conformadas por agregaciones de Comunidades Autónomas, excepción hecha de Madrid. El Levante lo integran: Cataluña, Comunidad Valenciana, Murcia y Andalucía.

#### 4ª Parte

A la vista del mapa adjunto, *“Provincias con natalidad inferior al 8 por mil, en el año 2002”*, indique el nombre de las provincias “tramadas”, pertenecientes a dicha categoría, cartografiadas en el mapa, señale las razones que explican esta distribución y comente algunas consecuencias emanadas de este hecho.

*Puntuación máxima: 2 puntos*





UNIVERSIDADES PÚBLICAS DE LA COMUNIDAD DE MADRID

PRUEBA DE ACCESO A ESTUDIOS UNIVERSITARIOS (LOGSE)

Curso 2005-2006

Septiembre

MATERIA: GEOGRAFÍA

### CRITERIOS ESPECÍFICOS DE CORRECCIÓN

#### A) CRITERIO GENERAL:

La puntuación total será en ambas pruebas de **10 puntos**, correspondiendo a la primera parte **1'5 puntos**; a la segunda, **4 puntos**; a la tercera, **2'5 puntos**, y a la cuarta, **2 puntos**. La estructura y los criterios de corrección serán los siguientes, tanto para la Opción A como para la Opción B.

#### B) CRITERIOS CONCRETOS:

**1ª. Primera parte:** *1,5 puntos* (cada término o concepto: *0'25 puntos*).

*Definición* de una serie de *términos geográficos y conceptos*. Las respuestas deberán valorarse con un criterio amplio, ya que son numerosas las correctas posibilidades expresivas. En todo caso, se atenderá a la precisión geográfica en la caracterización del término o concepto, y, a la claridad conceptual.

**2ª. Segunda parte:** *4 puntos*

Trata del “*desarrollo de un tema*”, valorando fundamentalmente la ordenación, la estructuración, la coherencia expositivo-argumentativa; la claridad, la precisión y la organización sintética de los conocimientos junto con la correcta localización, la comprensión y caracterización de los fenómenos geográficos se juxtaponen al grado y profundidad de los conocimientos.

**3ª. Tercera parte:** *2,5 puntos*

Propone “*el comentario de un documento geográfico*”.

\* Opción A: “*Comentario de una lámina*”. Se valorará positivamente la existencia de una metodología de comentario de fotografías. Embalse de Gabriel y Galán (Río Guadiana).

\* Opción B: “*Comentario de un instrumento gráfico*”. Se valorará la capacidad de extraer información, analizar los datos y caracterizar la situación, en una relación causa-efecto. El turismo en España.

**4ª Primera parte:** *2 puntos*

Presenta unos *mapas* cuyo comentario tiene una puntuación máxima de **2 puntos**; en ellos debe atenderse a la correcta localización (valorada con **1 punto**) y caracterización de los elementos solicitados (valorada con **1 punto**).

Opción A: La Coruña, Lugo, Orense, Asturias, León, Palencia, Zamora, Ávila, Soria, Teruel.

Opción B: León, Huesca, Lérida, Castellón, Valencia, Alicante, Murcia, Almería, Sevilla., Canarias.

En las cuatro partes de que consta la prueba, se considerarán elementos de ponderación; v.gr.: la calidad de la redacción, la corrección expositivo-argumentativa, la gramatical y la ortografía.

