



UNIVERSIDADES PÚBLICAS DE LA COMUNIDAD DE MADRID
PRUEBA DE ACCESO A LAS ENSEÑANZAS UNIVERSITARIAS
OFICIALES DE GRADO
Curso **2011-2012**
MATERIA: GEOGRAFÍA

INSTRUCCIONES Y CRITERIOS GENERALES DE CALIFICACIÓN

Dispone de dos opciones para contestar (A y B). **Debe escoger exclusivamente una de ellas.**

La puntuación total será en ambas opciones de **10 puntos**, correspondiendo a la primera parte **1,5 puntos**, a la segunda **4 puntos**, a la tercera **2,5 puntos** y **2 puntos** a la cuarta.

TIEMPO. Duración de la prueba: “1 hora y 30 minutos”.

OPCIÓN A

1ª Parte

Defina, en el cuadernillo adjunto, **seis** de los siguientes términos o conceptos geográficos, utilizando como máximo una cara del cuadernillo:

Población activa, Bocage, Amplitud térmica anual, Parque tecnológico, Meseta, Balanza comercial, Dolina, C.E.C.A.

Puntuación máxima: 1,5 puntos.

2ª Parte

Tema: Las actividades económicas en España.

Desarrolle, de forma sintética, el tema propuesto (utilice como máximo ambas caras de un folio) atendiendo al menos a los siguientes aspectos:

- *Su evolución en tiempos recientes.
- *Análisis de las repercusiones de las crisis estructurales.
- *Consecuencias de la pertenencia a la Unión Europea.

Puntuación máxima: 4 puntos.

3ª Parte

Comentario de la fotografía adjunta:

Comente el paisaje de la lámina adjunta, atendiendo al menos, a:

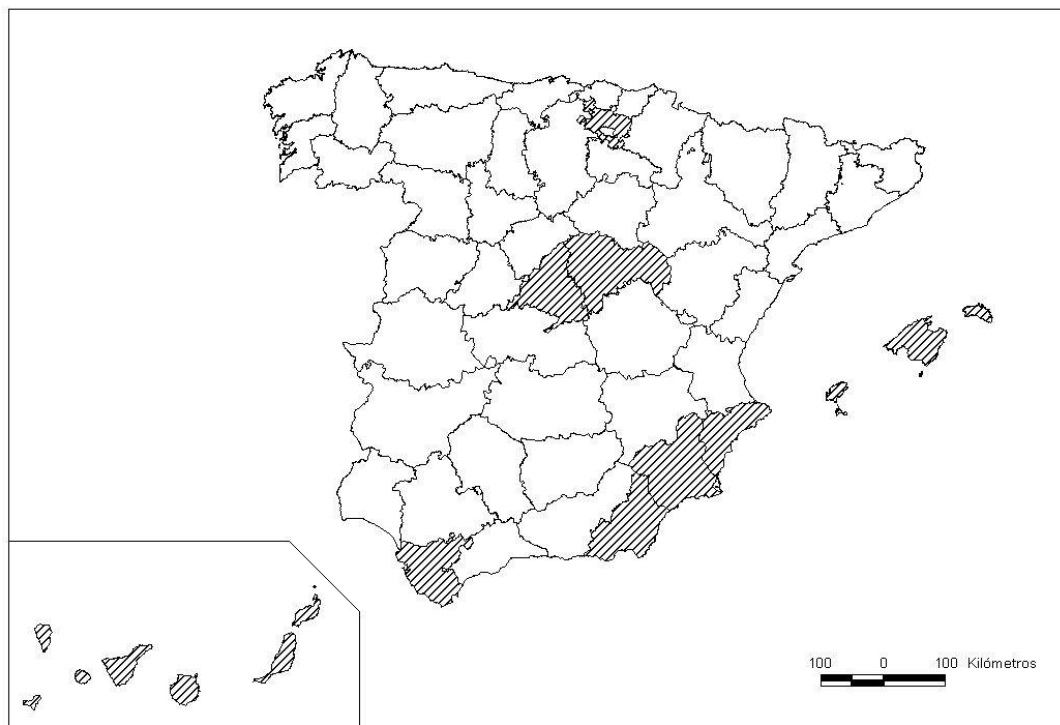
- a) Unidades del paisaje.
- b) Relaciones entre las unidades mencionadas, el soporte natural y la acción humana.
- c) Manifestaciones espaciales de las actividades económicas.

Puntuación máxima: 2,5 puntos.

4ª Parte

A la vista del mapa adjunto, que recoge las “*Provincias con una tasa bruta de mortalidad inferior al 7,8‰ (media nacional: 8,47‰)*”; indique el nombre de las mismas; señale las razones que explican esta distribución y comente algunas consecuencias emanadas de este hecho.

Puntuación máxima: 2 puntos.



FUENTE: INE, 2008. MOVIMIENTO NATURAL DE LA POBLACIÓN.

OPCIÓN B

1ª Parte

Defina, en el cuadernillo adjunto, **seis** de los siguientes términos o conceptos geográficos, utilizando como máximo una cara del cuadernillo:

Garriga, Desertificación, Central térmica, Acuerdo Schengen, Tómbolo, Densidad de población, Corriente en Chorro, Cuenca hidrográfica.

Puntuación máxima: 1,5 puntos.

2ª Parte

Tema: **Los movimientos migratorios en España, en la actualidad.**

Desarrolle, de forma sintética, el tema propuesto (utilice como máximo ambas caras de un folio) atendiendo al menos a los siguientes aspectos:

- Caracterización general.
- Las migraciones interiores y exteriores.
- Consecuencias sociales y económicas.

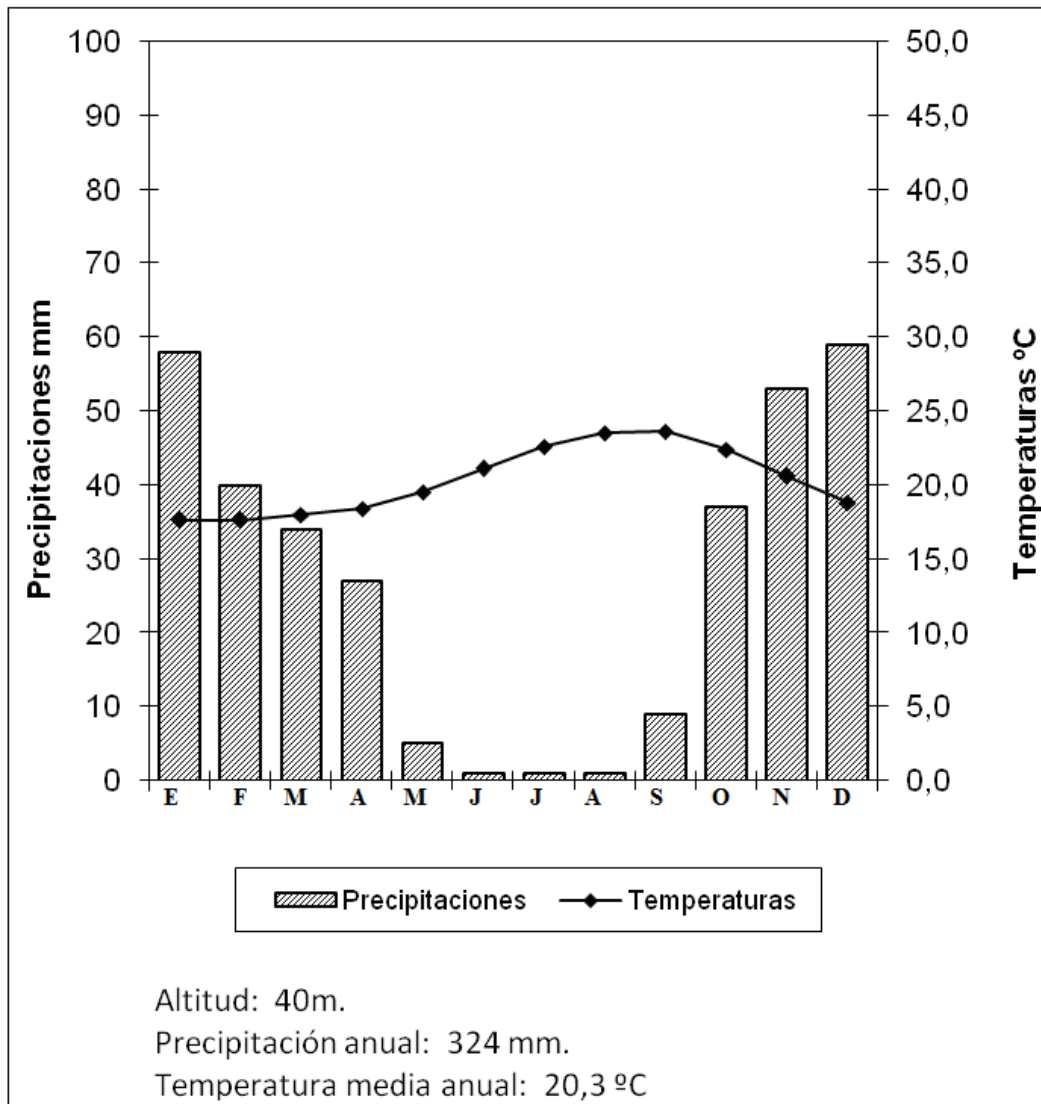
Puntuación máxima: 4 puntos

3ª Parte

Comentario del gráfico: Comente el *climograma* adjunto, atendiendo, al menos, a los siguientes aspectos:

- Distribución de las temperaturas y precipitaciones medias mensuales.
- Pertenencia a alguna de las variedades climáticas de España.
- Repercusión sobre el paisaje y las actividades humanas de este tipo de clima.

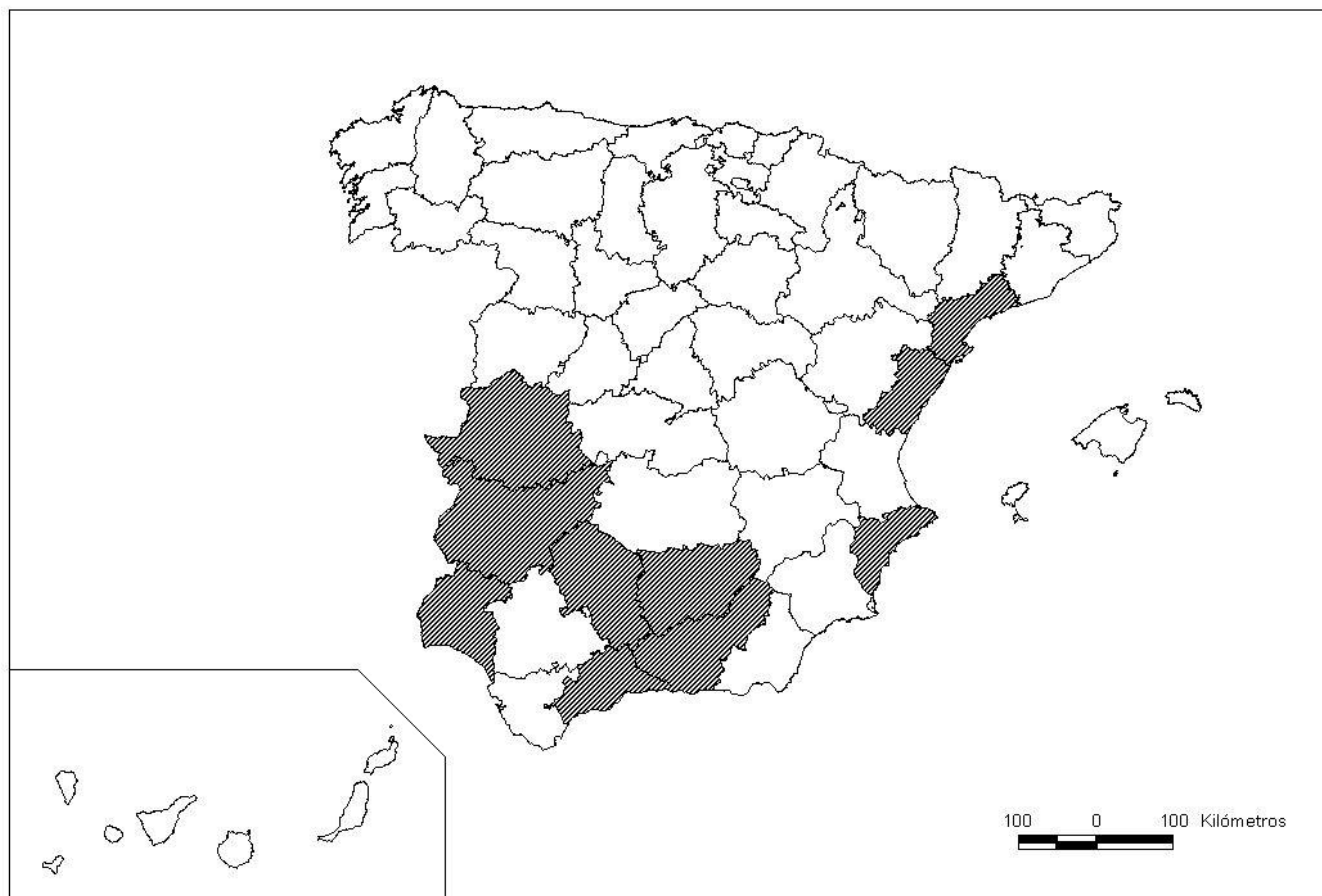
Puntuación máxima: 2,5 puntos.



4ª Parte

A la vista del mapa adjunto que recoge las *“Provincias en las que más del 14,5% de las tierras cultivadas son de olivar (media nacional: 13,2%)”*, indique el nombre de las mismas; señale las razones que explican esta distribución y comente algunas consecuencias demográficas, sociales y económicas emanadas de este hecho.

Puntuación máxima: 2 puntos.



FUENTE: ANUARIO DE ESTADÍSTICA DEL MINISTERIO DE MEDIO AMBIENTE Y MEDIO RURAL Y MARINO, 2008.

