



**UNIVERSIDADES PÚBLICAS DE LA COMUNIDAD DE MADRID**  
PRUEBA DE ACCESO A LAS ENSEÑANZAS UNIVERSITARIAS  
OFICIALES DE GRADO

Curso **2014-2015**

**MATERIA: GEOGRAFÍA**

**INSTRUCCIONES GENERALES Y CALIFICACIÓN**

Después de leer atentamente todas las preguntas, el alumno deberá escoger **una** de las dos opciones propuestas y responder a las cuestiones de la opción elegida.

**CALIFICACIÓN:** La parte 1ª se valorará sobre 1,5 puntos, la parte 2ª sobre 4 puntos, la parte 3ª sobre 2,5 puntos, la parte 4ª sobre 2 puntos.

**TIEMPO:** 90 minutos.

**OPCIÓN A**

**1ª Parte**

Defina, en el cuadernillo adjunto, **seis** de los siguientes términos o conceptos geográficos, utilizando como máximo una cara del cuadernillo:

**S.I.G., Cuenca sedimentaria, Gota fría, Lago endorréico, Rotación de cultivos, Mortalidad infantil, Ciudad dormitorio, Tratado de Roma.**

*Puntuación máxima: 1,5 puntos.*

**2ª Parte**

Tema: **Riesgos ambientales en España: la erosión y la desertificación.**

Desarrolle, de manera sintética, el tema propuesto (utilice, como máximo, ambas caras de un folio). Como indicativos se señalan los siguientes epígrafes:

- \* Factores topográficos y climáticos.
- \* Factores humanos.
- \* Principales zonas afectadas y zonas de riesgo inminente.

*Puntuación máxima: 4 puntos.*

**3ª Parte**

**Comentario de la fotografía adjunta:**

Comente el paisaje de la lámina adjunta, atendiendo, al menos, a:

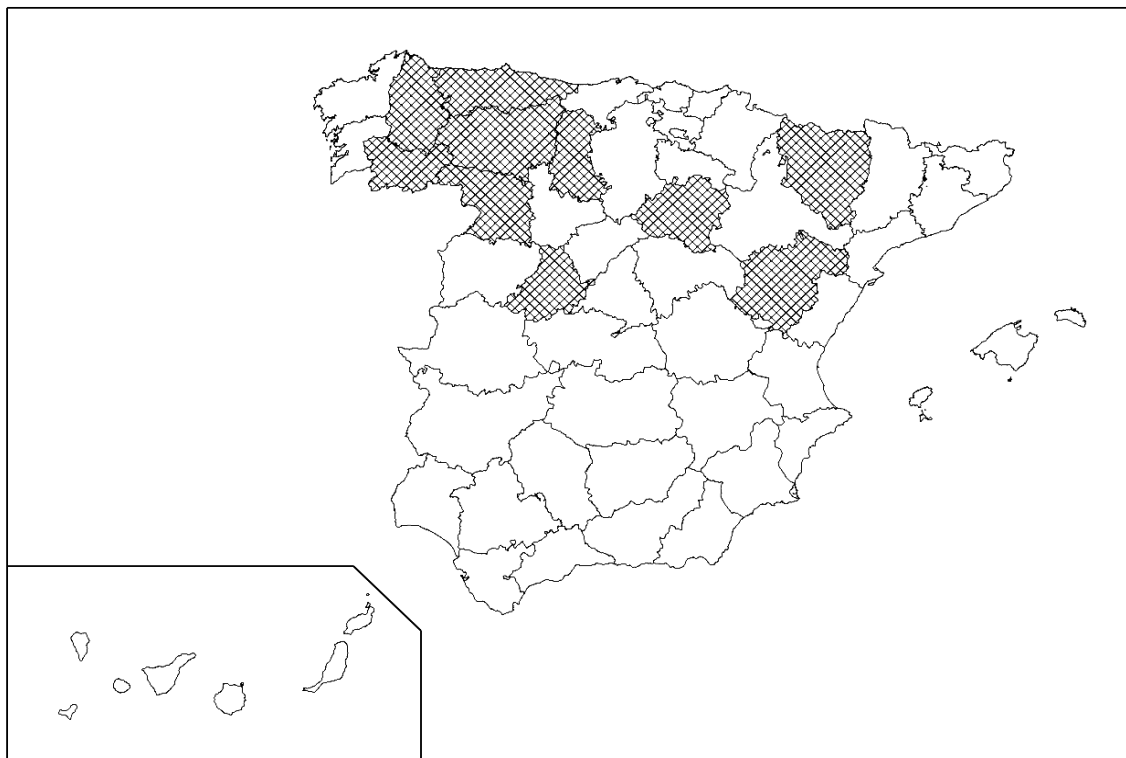
- a) Unidades del paisaje. Haga especial hincapié en las transformaciones recientes del mismo.
- b) Los usos del suelo.
- c) Manifestaciones espaciales de las actividades económicas y del poblamiento.

*Puntuación máxima: 2,5 puntos*

#### 4ª Parte

A la vista del mapa adjunto, “**Provincias con Tasa Bruta de Mortalidad superior al 11,5% (media nacional 8,4%)**”; indique el nombre de las provincias “tramadas” pertenecientes a dicha categoría; señale las razones que explican esta distribución y comente algunas consecuencias emanadas de su distribución.

*Puntuación máxima: 2 puntos.*



FUENTE: INSTITUTO NACIONAL DE ESTADÍSTICA (INE), 2011. MOVIMIENTO NATURAL DE LA POBLACIÓN.

#### OPCIÓN B

##### 1ª Parte

Defina, en el cuadernillo adjunto, **seis** de los siguientes términos o conceptos geográficos, utilizando como máximo una cara del cuadernillo:

**Falla, Delta, Desarrollo sostenible, "Bocage", Sector cuaternario, Tasa de paro, Globalización, F.E.P.**

*Puntuación máxima: 1,5 puntos*

##### 2ª Parte

Tema: **La estructura demográfica de la población española.**

Desarrolle, de manera sintética, el tema propuesto (utilice como máximo, ambas caras de un folio). Como indicativos se señalan los siguientes epígrafes:

- \* Evolución histórica y situación actual: Factores que han incidido en el proceso de cambio.
- \* Consecuencias demográficas y socioeconómicas.
- \* Desequilibrios regionales.

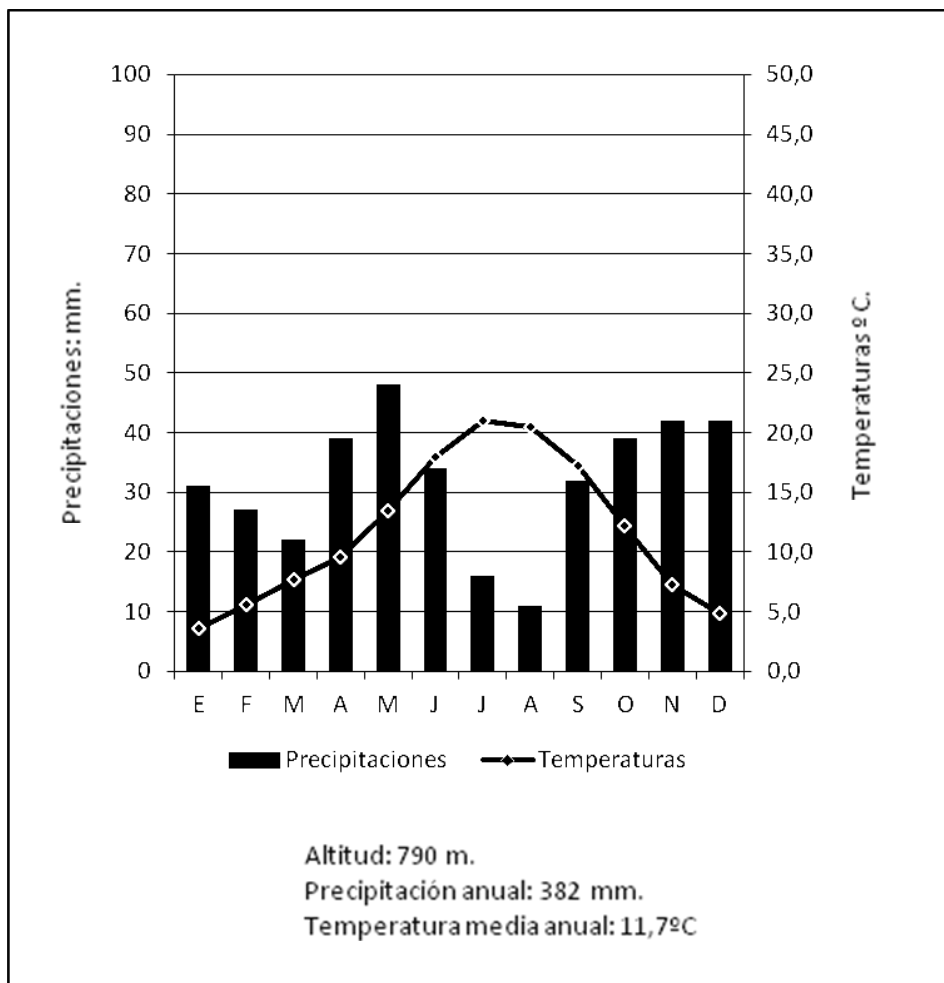
*Puntuación máxima: 4 puntos.*

### 3ª Parte

**Comentario del gráfico:** Realice un comentario del *climograma* adjunto, atendiendo, al menos, a los siguientes aspectos:

- Evolución de las temperaturas y precipitaciones medias mensuales.
- Pertenencia a alguna de las variedades climáticas de España.
- Repercusión sobre el paisaje y las actividades humanas de este tipo de clima.

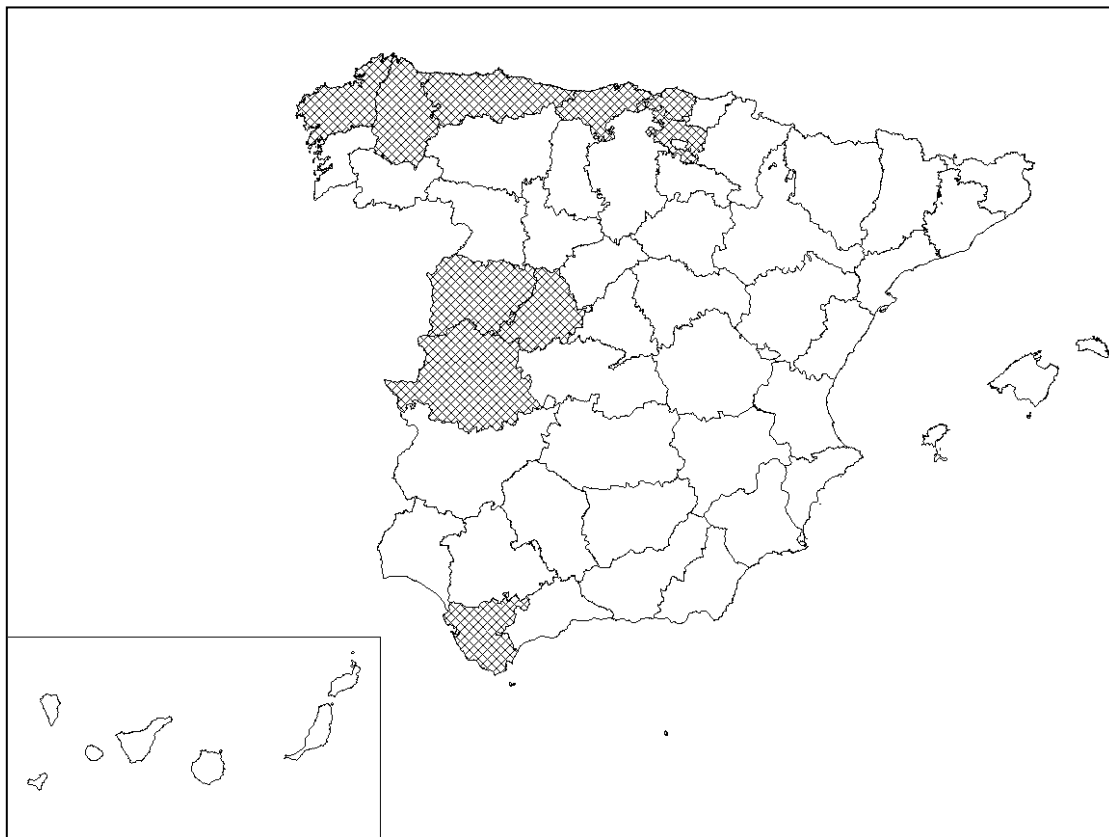
*Puntuación máxima: 2,5 puntos.*



#### 4ª Parte

A la vista del mapa adjunto, “**Provincias en las que más del 28,3% de su ganado es bovino (media nacional 12,64%)**”; indique el nombre de las provincias “tramadas” pertenecientes a dicha categoría; argumente las razones que explican esta distribución y exponga algunas consecuencias demográficas, sociales y económicas, que se puedan derivar.

*Puntuación máxima: 2 puntos.*



FUENTE: ENCUESTAS GANADERAS, 2014. MINISTERIO DE AGRICULTURA, ALIMENTACIÓN Y MEDIO AMBIENTE.

