

<p>UAM Universidad Autónoma de Madrid</p>	<p>UNIVERSIDADES PÚBLICAS DE LA COMUNIDAD DE MADRID EVALUACIÓN PARA EL ACCESO A LAS ENSEÑANZAS UNIVERSITARIAS OFICIALES DE GRADO</p> <p>Curso 2018-2019</p> <p>MATERIA: GEOGRAFÍA</p>	
<p style="text-align: center;"><u>INSTRUCCIONES GENERALES Y CALIFICACIÓN</u></p> <p>Después de leer atentamente todas las preguntas, el alumno deberá escoger una de las dos opciones propuestas y responder a las cuestiones de la opción elegida.</p> <p>CALIFICACIÓN: El valor de las preguntas se asigna al final de su enunciado.</p> <p>TIEMPO: 90 minutos.</p>		

OPCIÓN A

SECCIÓN TEÓRICA

1ª Parte: “Las emigraciones exteriores en España (1850-1980)”.

Desarrolle, de manera sintética, el tema propuesto atendiendo a los siguientes apartados (utilice, como máximo, una cara y media de un folio):

1. Identificación de los tipos y de las diferentes etapas.
2. Principales características de estos movimientos, causas y consecuencias.

Puntuación máxima: 2,5 Puntos

2ª Parte: Defina con precisión ocho de los diez **conceptos** siguientes (escriba, como máximo, una cara de un folio):

Bosque caducifolio; alta presión; central nuclear; cliserie; amplitud térmica; regadío; aerogenerador; caudal fluvial; industria farmacéutica; pastos.

Puntuación máxima: 2 Puntos

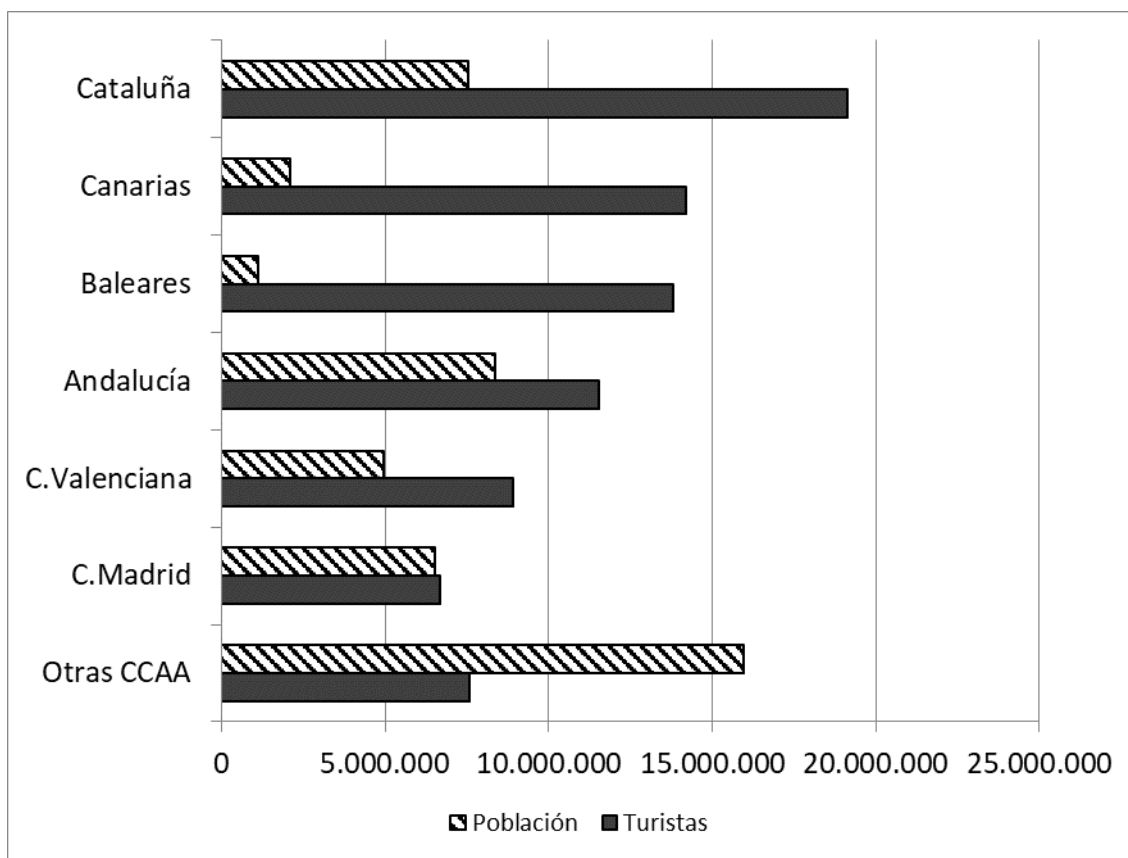
SECCIÓN PRÁCTICA

3ª Parte: Comente la **lámina etiquetada con la Opción A**, en el siguiente orden:

1. Elementos del medio físico.
2. Elementos del medio humano.
3. La relación entre ellos.
4. Indique el tipo de paisaje geográfico que muestra la fotografía.

Puntuación máxima: 1,5 Puntos

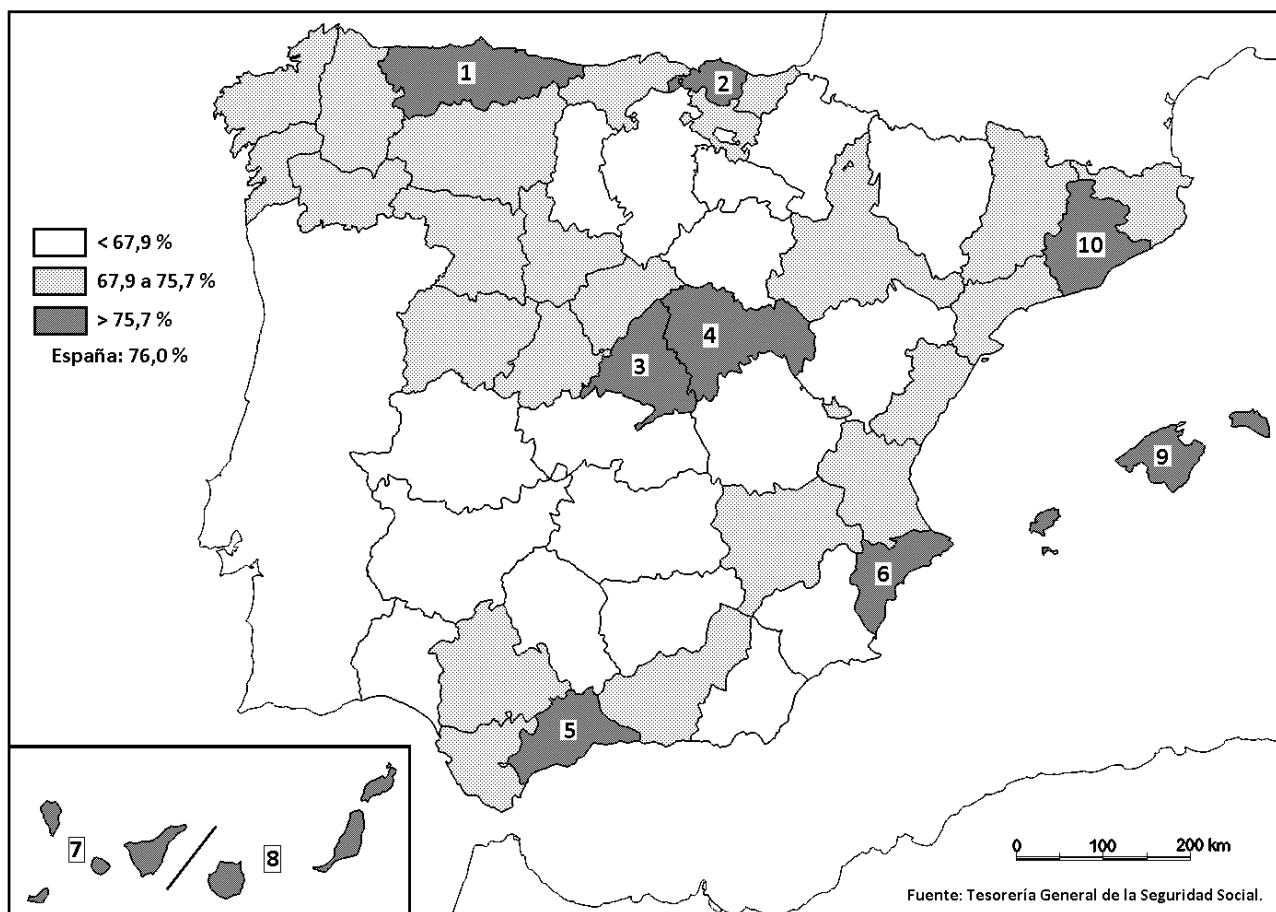
4ª Parte: A partir del gráfico: **“Población y número de turistas según comunidades autónomas de destino principal (2017)”** comente las posibles razones de las diferencias de destinos turísticos por Comunidades Autónomas y de su relación con el tamaño de población.



Fuente INE

Puntuación máxima: 2 Puntos

5ª Parte: A la vista del mapa adjunto: “Porcentaje de población ocupada en el sector servicios (2017)” indique el nombre de las provincias numeradas y señale posibles razones de esta distribución.



Puntuación máxima: 2 Puntos

OPCIÓN B

SECCIÓN TEÓRICA

1ª Parte: “La agricultura de secano en España”.

Desarrolle, de manera sintética, el tema propuesto atendiendo a los siguientes apartados (utilice, como máximo, una cara y media de un folio):

1. Características de esta modalidad de explotación.
2. Zona de extensión y sus causas.

Puntuación máxima: 2,5 Puntos

2ª Parte: Defina con precisión ocho de los diez **conceptos** siguientes (escriba, como máximo, una cara de un folio):

Marea; matorral; litología; Parque Nacional; escarcha; laurisilva; milibar; planta potabilizadora; central hidroeléctrica; borrasca.

Puntuación máxima: 2 Puntos

SECCIÓN PRÁCTICA

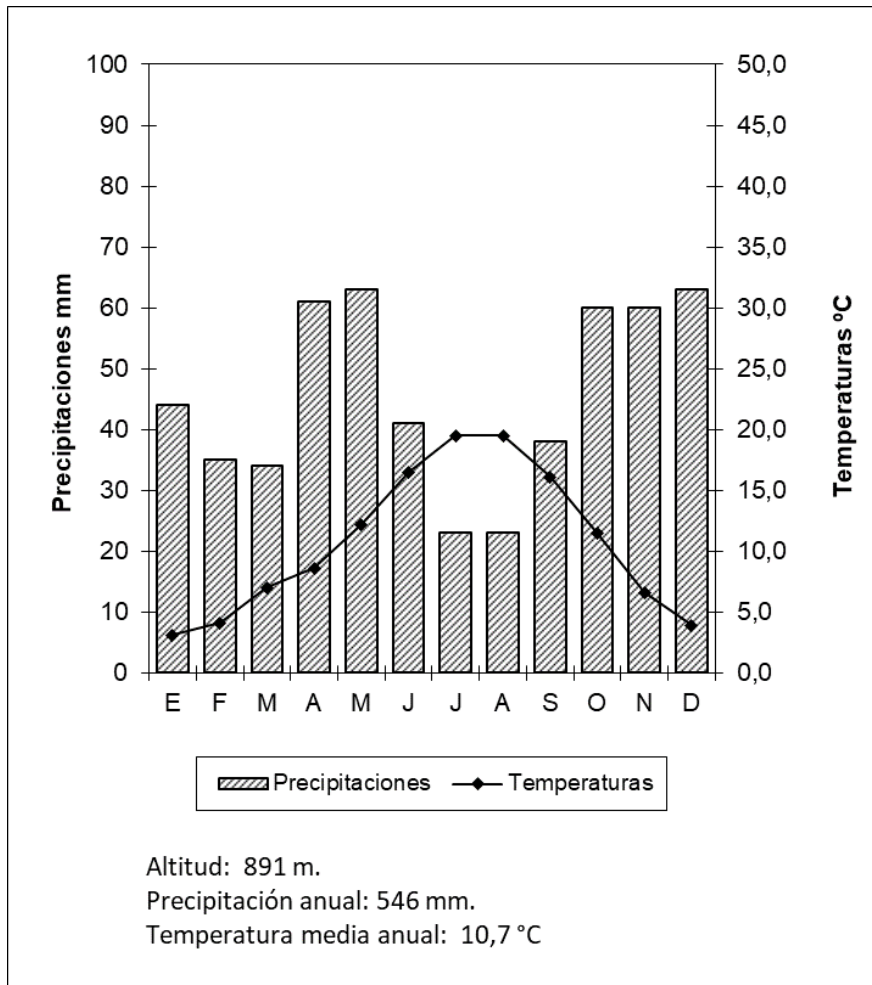
3ª Parte: Comente la **lámina etiquetada con la Opción B**, en el siguiente orden:

1. Elementos del medio físico.
2. Elementos del medio humano.
3. La relación entre ellos.
4. Indique el tipo de paisaje geográfico que muestra la fotografía.

Puntuación máxima: 1,5 Puntos

4ª Parte: Realice un comentario del siguiente climograma, atendiendo, al menos, a estos aspectos:

1. Régimen de las temperaturas medias mensuales y de las precipitaciones.
2. Pertenencia a alguna de las variedades climáticas de España y su área de distribución.

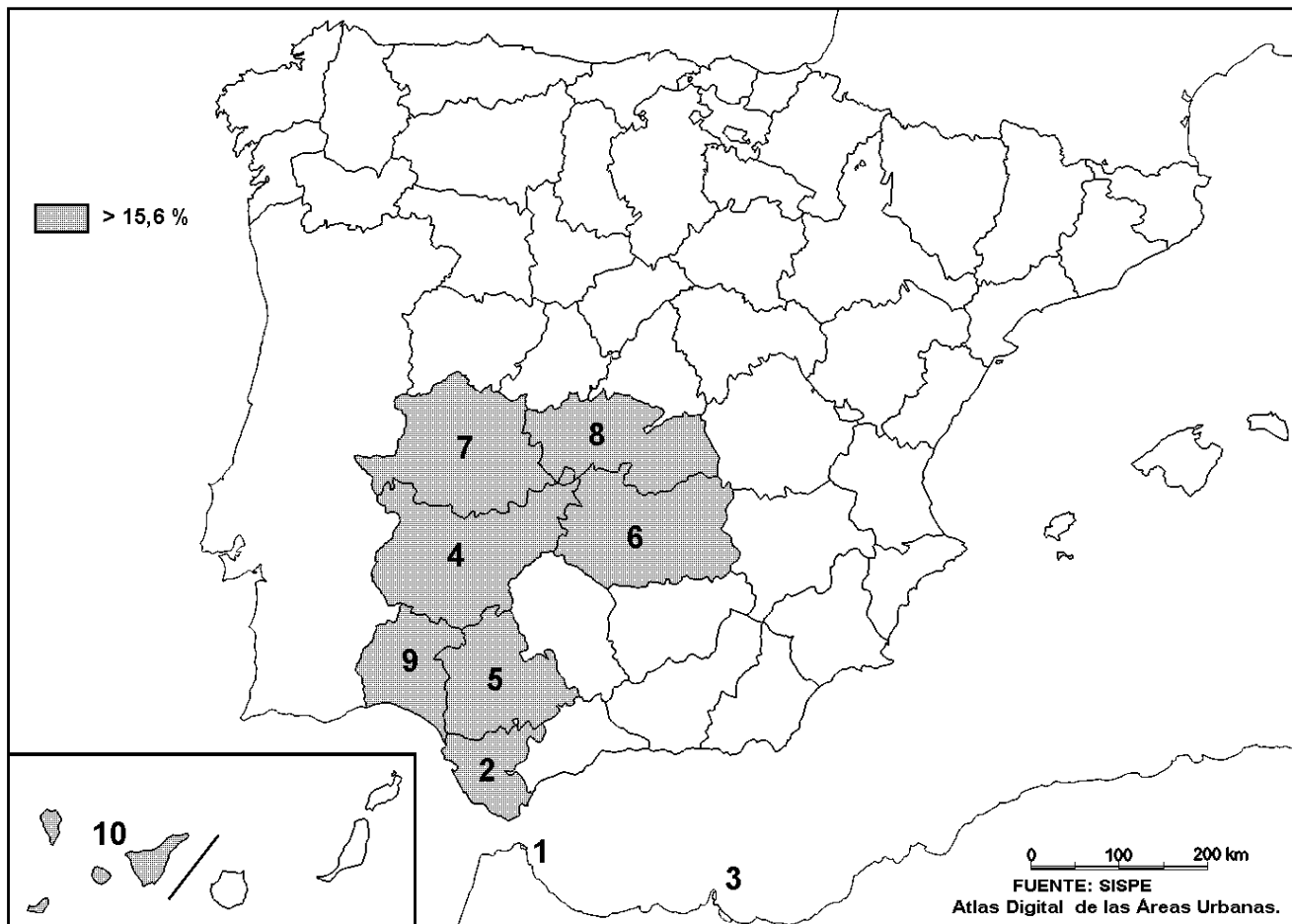


	E	F	M	A	M	J	J	A	S	O	N	D	Media	Total
Precipitaciones (mm)	44	35	34	61	63	41	23	23	38	60	60	63		546
Temperaturas (°C)	3,1	4,1	7,0	8,6	12,2	16,5	19,5	19,5	16,1	11,5	6,6	3,9	10,7	

Fuente: Serie de datos climáticos de la AEMET (período 1981-2010).

Puntuación máxima: 2 Puntos

5ª Parte: A la vista del mapa adjunto, “**Porcentaje de población parada (2016)**”, indique el nombre de cada una de las provincias y de las ciudades autónomas numeradas y explique las posibles razones de esta distribución.



Puntuación máxima: 2 Puntos

GEOGRAFÍA
LÁMINA OPCIÓN A



Coruña del Conde (**BURGOS**)

GEOGRAFÍA
LÁMINA OPCIÓN B



Pelegrina (GUADALAJARA)