	<p align="center"><b>UNIVERSIDADES PÚBLICAS DE LA COMUNIDAD DE MADRID</b>  <b>EVALUACIÓN PARA EL ACCESO A LAS ENSEÑANZAS</b>  <b>UNIVERSITARIAS OFICIALES DE GRADO</b></p> <p align="center">Curso <b>2018-2019</b></p> <p><b>MATERIA: GEOGRAFÍA</b></p>	
<p align="center"><b><u>INSTRUCCIONES GENERALES Y CALIFICACIÓN</u></b></p> <p>Después de leer atentamente todas las preguntas, el alumno deberá escoger <b>una</b> de las dos opciones propuestas y responder a las cuestiones de la opción elegida.</p> <p><b>CALIFICACIÓN:</b> El valor de las preguntas se asigna al final de su enunciado.</p> <p><b>TIEMPO:</b> 90 minutos.</p>		

### OPCIÓN A

#### **SECCIÓN TEÓRICA**

##### **1ª Parte: “Las cordilleras exteriores españolas”**

Desarrolle, de manera sintética, el tema propuesto atendiendo a los siguientes apartados (utilice, como máximo, una cara y media de un folio):

1. Situación y disposición de los sistemas orográficos.
2. Génesis y principales rasgos del relieve.

*Puntuación máxima: 2,5 Puntos*

**2ª Parte:** Defina con precisión ocho de los diez **conceptos** siguientes (escriba, como máximo, una cara de un folio):

**Censo de población; jerarquía urbana; Unión Europea; municipio; periferia urbana; inmigración; éxodo rural; tasa de fecundidad; bulevar; C.B.D.**

*Puntuación máxima: 2 Puntos*

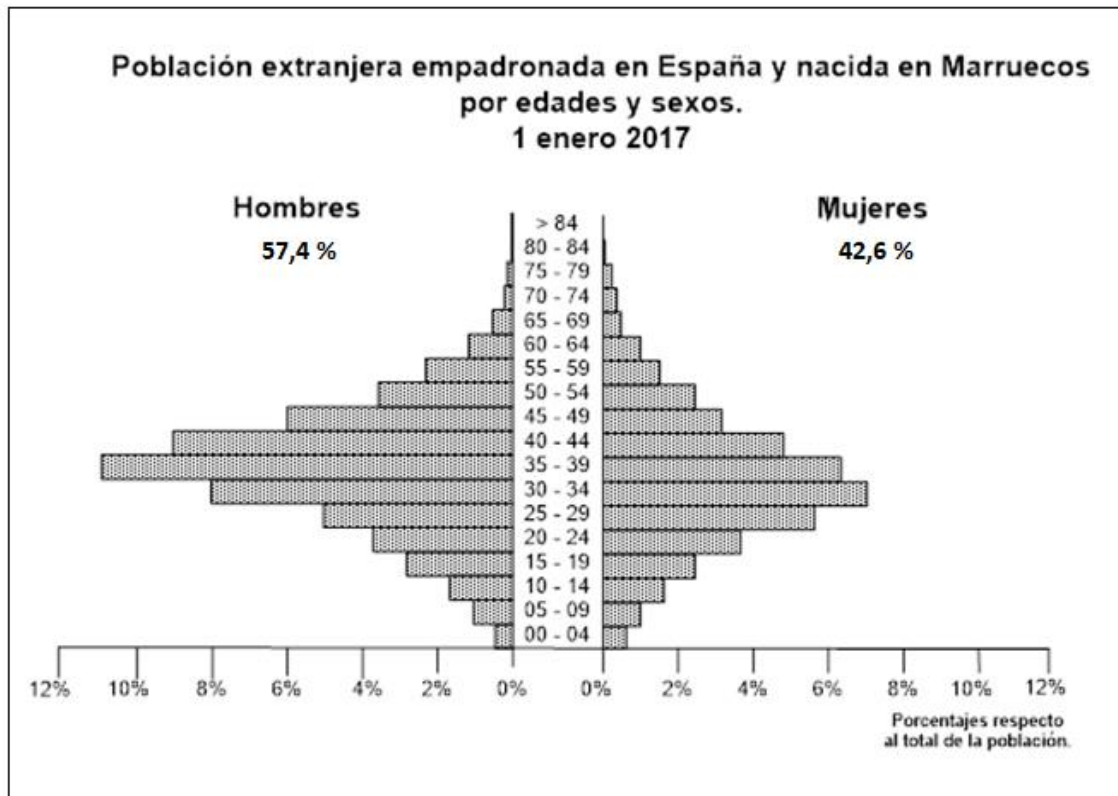
#### **SECCIÓN PRÁCTICA**

**3ª Parte:** Comente la **lámina etiquetada con la opción A** en el siguiente orden:

1. Elementos del medio físico.
2. Elementos del medio humano.
3. La relación entre ellos.
4. Indique el tipo de paisaje geográfico que muestra la fotografía.

*Puntuación máxima: 1,5 Puntos*

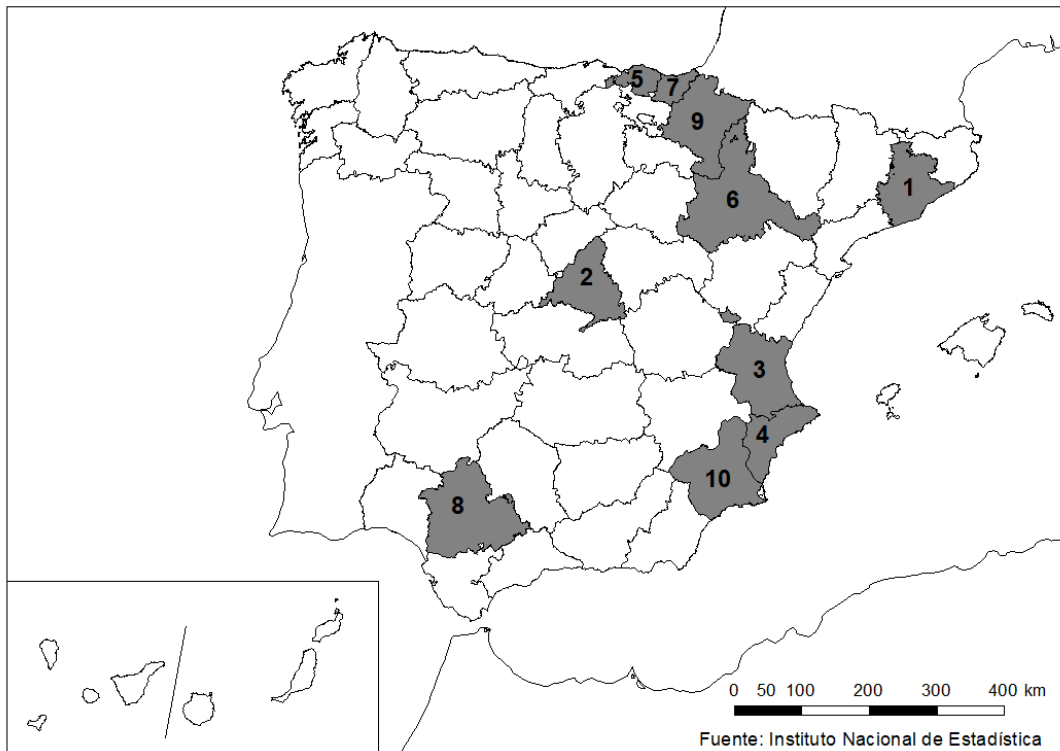
**4ª Parte:** A partir de la siguiente pirámide de población realice un comentario y explique las posibles razones de esta distribución por edad y sexo de la población de Marruecos empadronada en España.



Fuente: INEBASE.

Puntuación máxima: 2 Puntos

**5ª Parte:** A la vista del mapa adjunto, “**Provincias con más de 288.000 personas ocupadas en el sector industrial en 2017**”, indique el nombre de cada provincia numerada y argumente las posibles razones de esta distribución.



Puntuación máxima: 2 Puntos

## OPCIÓN B

### SECCIÓN TEÓRICA

#### **1ª Parte: “La industria en España”.**

Desarrolle, de manera sintética, el tema propuesto atendiendo a los siguientes apartados (utilice, como máximo, una cara y media de un folio):

1. Tipos de industria.
2. Principales regiones industriales.

*Puntuación máxima: 2,5 Puntos*

**2ª Parte:** Defina con precisión ocho de los diez **conceptos** siguientes (escriba, como máximo, una cara de un folio):

**Meridiano cero; relieve alpino; proyección cartográfica; piedemonte; piscifactoría; golfo; roca sedimentaria; isoyeta; vega; teledetección.**

*Puntuación máxima: 2 Puntos*

### SECCIÓN PRÁCTICA

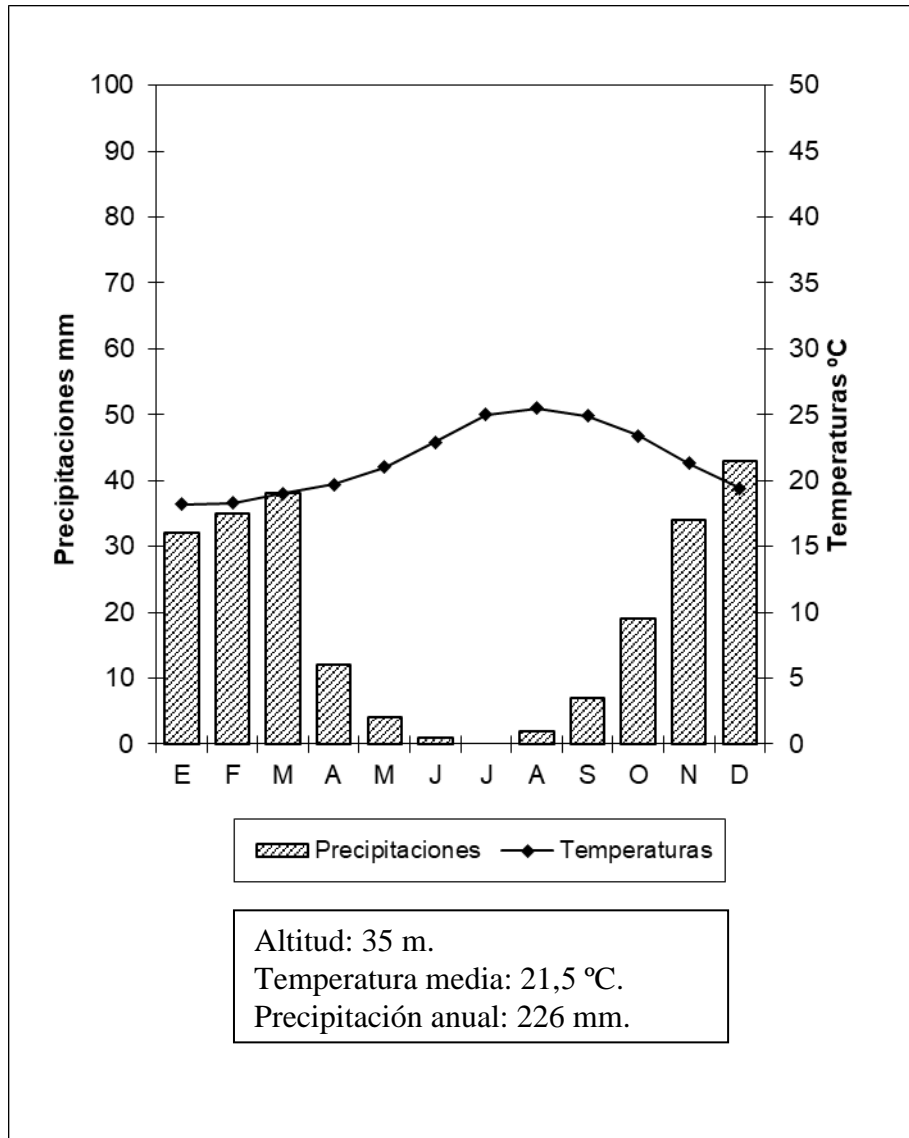
**3ª Parte:** Comente la **lámina etiquetada con la opción B** en el siguiente orden:

1. Elementos del medio físico.
2. Elementos del medio humano.
3. La relación entre ellos.
4. Indique el tipo de paisaje geográfico que muestra la fotografía.

*Puntuación máxima: 1,5 Puntos*

**4ª Parte:** Realice un comentario del siguiente climograma, atendiendo, al menos, a estos aspectos:

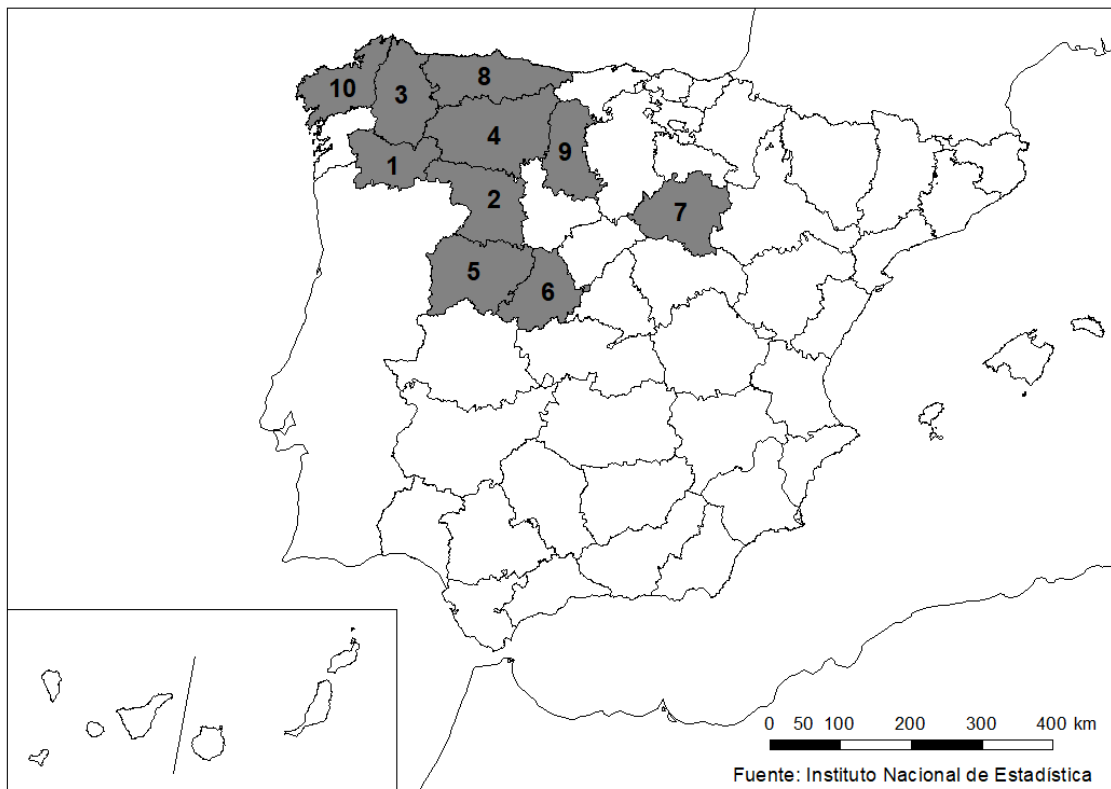
1. Régimen de las temperaturas medias mensuales y de las precipitaciones.
2. Pertenencia a alguna de las variedades climáticas de España y su área de distribución.



Meses	E	F	M	A	M	J	J	A	S	O	N	D	Media	Total
Precipitaciones(mm)	32	35	38	12	4	1	0	2	7	19	34	43		226
Temperaturas ° C	18,2	18,3	19	19,7	21	22,9	25	25,5	24,9	23,4	21,3	19,4	21,5	

*Puntuación máxima: 2 Puntos*

5ª Parte: A la vista del mapa “Provincias con más de un 24,5% de población mayor de 65 años (2018)” indique las provincias numeradas y explique posibles causas de esta distribución.



*Puntuación máxima: 2 Puntos*

GEOGRAFÍA  
LÁMINA OPCIÓN A



La Cañada Real (MADRID)

# GEOGRAFÍA

## LÁMINA OPCIÓN B



**Benidorm (Alicante)**