

**GEOGRAFÍA**

**INDICACIONES**

1. Elija una de las dos opciones y conteste todas sus cuestiones.
2. Los dispositivos que pueden conectarse a internet, o que pueden recibir o emitir información deben estar apagados durante la celebración del examen y no pueden estar a la vista.

**OPCIÓN DE EXAMEN Nº 1**

1. [2 PUNTOS, 0,5 POR CADA DEFINICIÓN] Defina los siguientes **términos** de uso frecuente en Geografía. Si es posible, mencione algún **ejemplo** relacionado con ellos y referido a España (máximo 100 palabras o 10 líneas para cada uno de los términos):

- Acuífero
- Índice de envejecimiento.
- Vegetación secundaria.
- PGOU.

2. [1 PUNTO] En el siguiente mapa mudo, **sitúe e identifique** correctamente al menos 5 de las principales áreas metropolitanas de España.



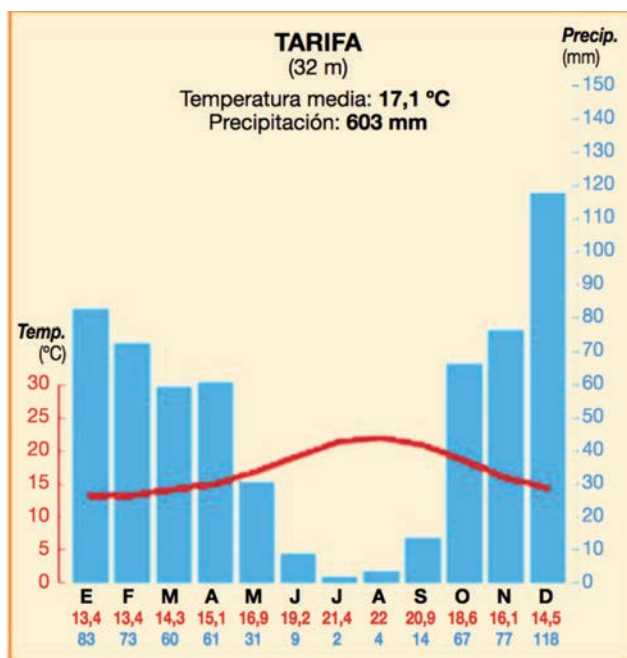
### OPCIÓN DE EXAMEN Nº 1

3. [4 PUNTOS, 2 POR CADA IMAGEN] A partir de las imágenes o mapas que aparecen a continuación, analice y comente (máximo 400 palabras o 2 caras de folio por imagen).

a) El mapa del roqueado de la Península Ibérica.



b) El climograma correspondiente a la ciudad de Tarifa.



4. [3 PUNTOS] Desarrolle de manera sintética el siguiente TEMA (máximo 600 palabras o 3 caras de folio): **la dinámica demográfica actual en España.**

a) Movimientos naturales de la población en la actualidad.

b) Las migraciones en la actualidad.

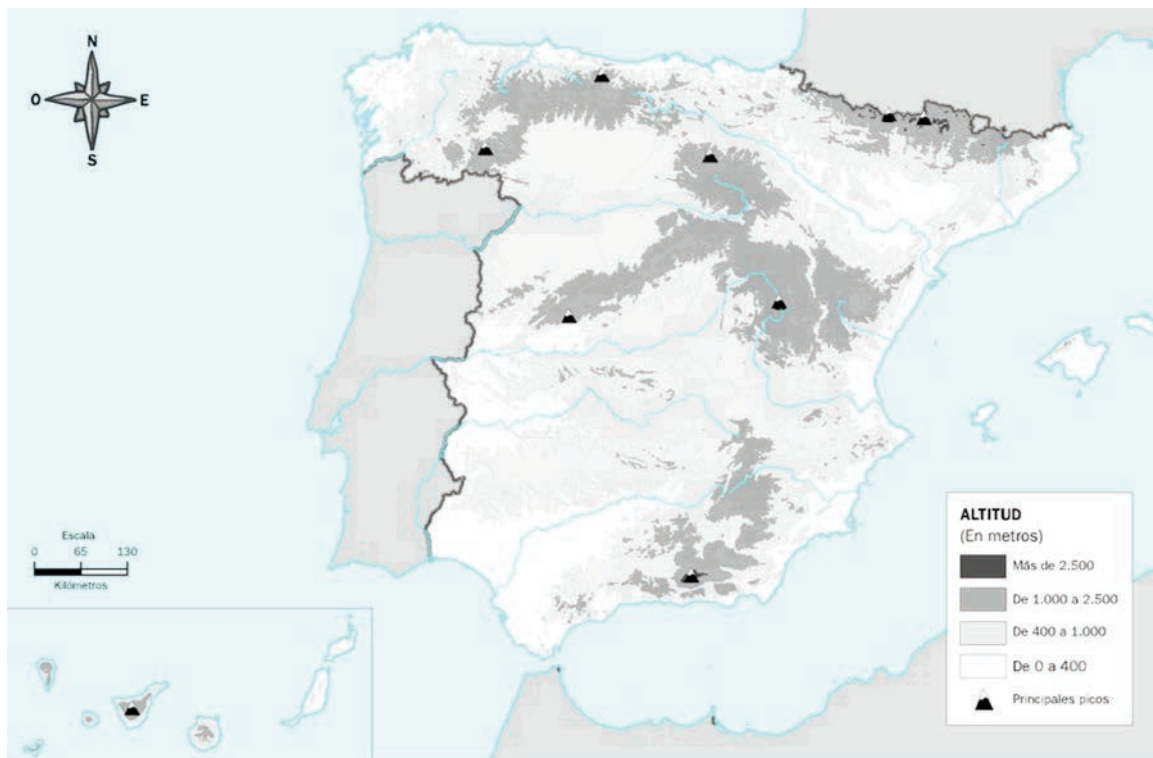
c) El crecimiento real.

## OPCIÓN DE EXAMEN Nº 2

1. [2 PUNTOS, 0,5 POR CADA DEFINICIÓN] Defina los siguientes **términos** de uso frecuente en Geografía. Si es posible, mencione algún **ejemplo** relacionado con ellos y referido a España (máximo 100 palabras o 10 líneas para cada uno de los términos):

- Anticiclón.
- Humedal.
- Población inactiva.
- Barrios de promoción.

2. [1 PUNTO] En el siguiente mapa mudo, **sitúe** e **identifique** correctamente al menos 5 de las principales unidades del relieve español.



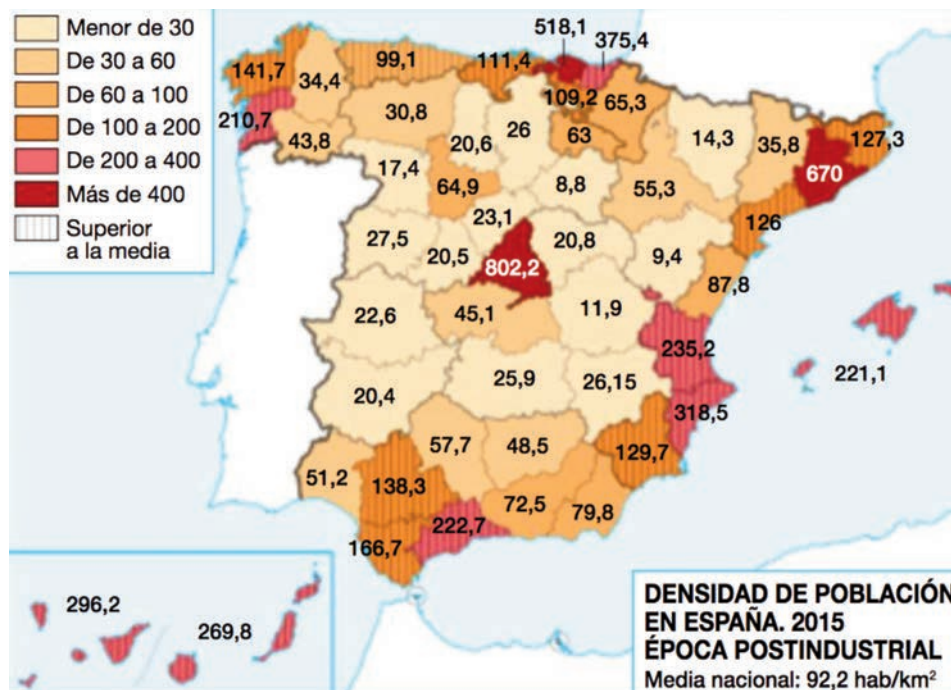
## OPCIÓN DE EXAMEN Nº 2

3. [4 PUNTOS, 2 POR CADA IMAGEN] A partir de las imágenes o mapas que aparecen a continuación, analice y comente (máximo 400 palabras o 2 caras de folio por imagen).

a) El mapa del sistema urbano español.



b) El mapa de la densidad de la población en España.



4. [3 PUNTOS] Desarrolle de manera sintética el siguiente TEMA (máximo 600 palabras o 3 caras de folio): **el medio físico en las cordilleras alpinas de España.**

- Describa los principales rasgos del relieve, presentando su evolución geológica y clasificando sus unidades según sus características geomorfológicas.
- Identifique y describa su diversidad climática, enumerando los factores y elementos característicos; los diferentes dominios vegetales y sus características, así como su diversidad hídrica, relacionando los regímenes hídricos de los cursos fluviales con las posibilidades de aprovechamiento.