

PROVES D'ACCÉS A LA UNIVERSITAT

PRUEBAS DE ACCESO A LA UNIVERSIDAD

CONVOCATÒRIA: JUNY 2014	CONVOCATORIA: JUNIO 2014
GEOGRAFIA	GEOGRAFÍA

BAREM DE L'EXAMEN:

Pregunta 1^a-2,5 punts; pregunta 2^a-2,5 punts; pregunta 3^a-2,5 punts; pregunta 4^a-2,5 punts

BAREMO DEL EXAMEN:

Pregunta 1^a-2,5 puntos; pregunta 2^a-2,5 puntos; pregunta 3^a-2,5 puntos; pregunta 4^a-2,5 puntos

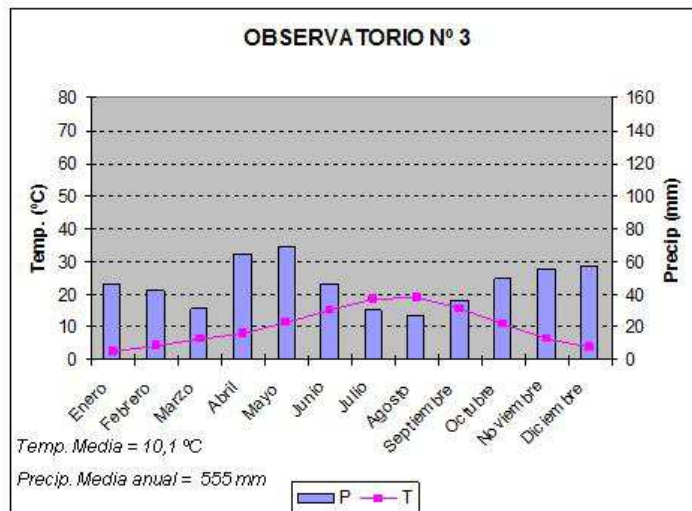
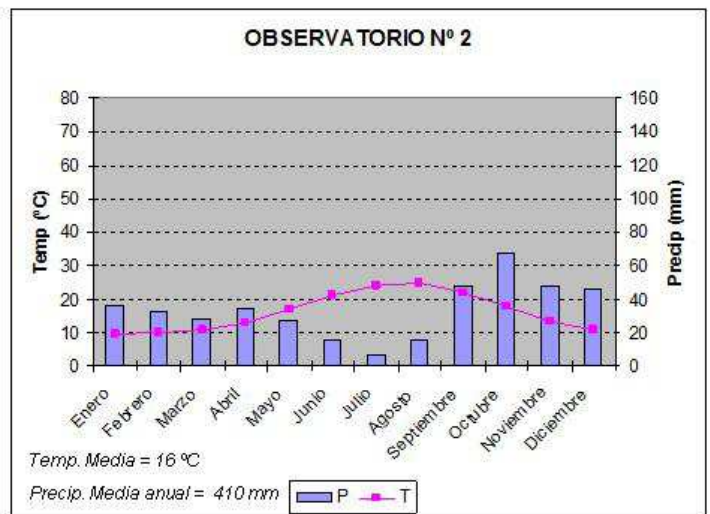
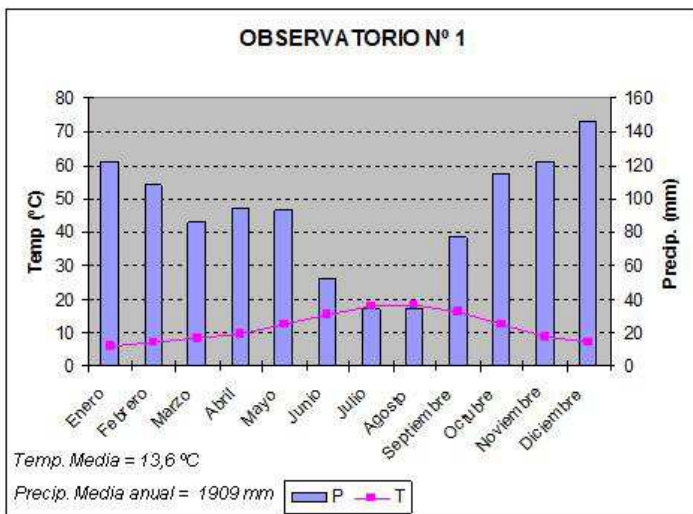
EJERCICIO 1

1. Basándose en el análisis de los gráficos presentados en el documento 1, indique a qué localización de las letras expuestas en el mapa anexo corresponden y explique el porqué. Indique, asimismo, la duración del periodo seco de cada observatorio.
2. Considerando ahora la posición geográfica que ocupan los puntos 1 y 2 (mapa documento anexo) indique en cuál de los dos el periodo seco estival será más largo y explique en qué factor se fundamenta para llegar a esa conclusión.
3. Explique qué factores geográficos influyen de manera más determinante en las características climáticas de la España Peninsular y las Baleares.
4. Explique las principales características de los paisajes agrarios de la España húmeda y los de la España mediterránea.

EXERCICI 1

1. Basant-vos en l'anàlisi dels gràfics presentats en el document 1, indiqueu a quina localització de les lletres exposades en el mapa annex corresponen i expliqueu el perquè. Indiqueu, així mateix, la duració del període sec de cada observatori.
2. Considerant ara la posició geogràfica que ocupen els punts 1 i 2 (mapa document annex) indiqueu en quin dels dos el període sec estival serà més llarg i expliqueu en quin factor es fonamenta per a arribar a aquesta conclusió.
3. Expliqueu quins factors geogràfics influeixen de manera més determinant en les característiques climàtiques de l'Espanya peninsular i les Balears.
4. Expliqueu les principals característiques dels paisatges agraris de l'Espanya humida i els de l'Espanya mediterrània.

DOCUMENT 1 / DOCUMENTO 1



Font/Fuente: AEMET.

PROVES D'ACCÉS A LA UNIVERSITAT

PRUEBAS DE ACCESO A LA UNIVERSIDAD

CONVOCATÒRIA: JUNY 2014

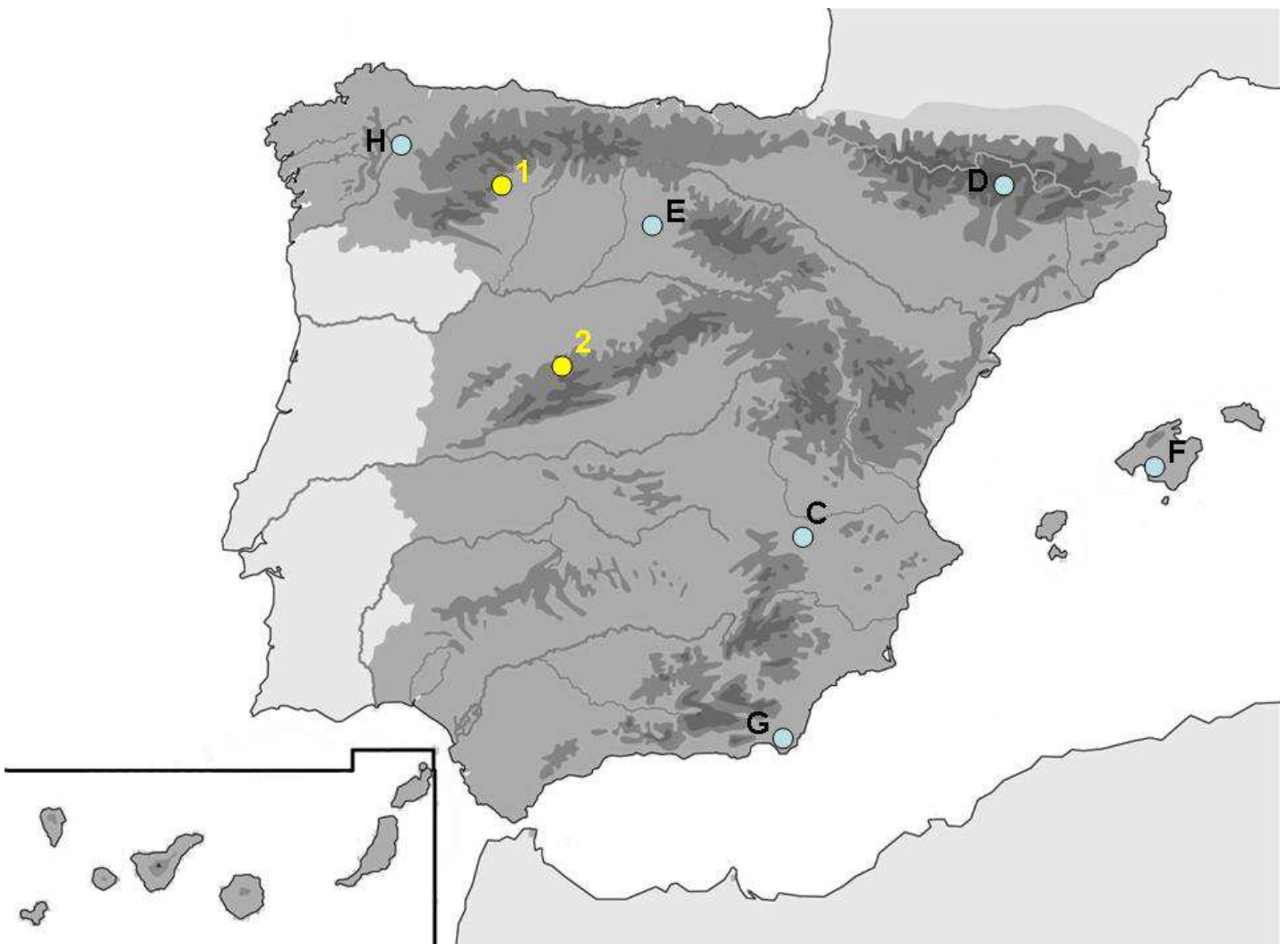
CONVOCATORIA: JUNIO 2014

GEOGRAFIA

GEOGRAFÍA

Etiqueta de l'estudiant / Etiqueta del estudiante

MAPA ANNEX / MAPA ANEXO



PROVES D'ACCÉS A LA UNIVERSITAT

PRUEBAS DE ACCESO A LA UNIVERSIDAD

CONVOCATÒRIA: JUNY 2014	CONVOCATORIA: JUNIO 2014
GEOGRAFIA	GEOGRAFÍA

BAREM DE L'EXAMEN:

Pregunta 1^a-2,5 punts; pregunta 2^a-2,5 punts; pregunta 3^a-2,5 punts; pregunta 4^a-2,5 punts

BAREMO DEL EXAMEN:

Pregunta 1^a-2,5 puntos; pregunta 2^a-2,5 puntos; pregunta 3^a-2,5 puntos; pregunta 4^a-2,5 puntos

EJERCICIO 2

1. A partir del Documento 1, elabore una gráfica lineal con los datos de las tasas de natalidad y mortalidad.
2. Ayudándose con el gráfico resultante y también con el conjunto de los datos del Documento 1, explique las principales características demográficas de España y su evolución reciente.
3. Con los datos del mapa del Documento 2, describa el diferente impacto territorial del envejecimiento y explique las causas.
4. A partir de los datos anteriores y de sus conocimientos en la materia, explique el crecimiento vegetativo en España ligándolo a los principales factores que intervienen en el mismo, acelerándolo o retardándolo.

EXERCICI 2

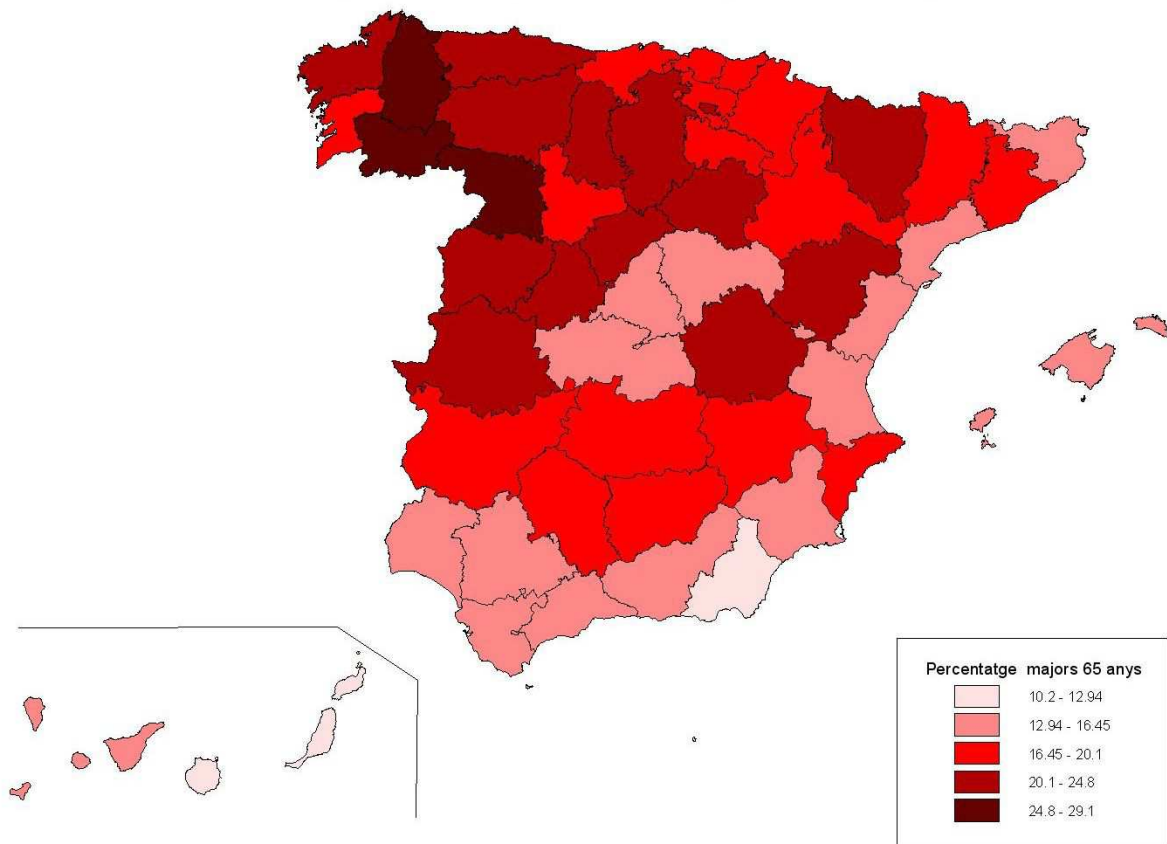
1. A partir del Document 1, elaboreu un gràfic lineal amb les dades de les taxes de natalitat i mortalitat.
2. Amb l'ajuda del gràfic resultant i també del conjunt de les dades del Document 1, expliqueu les principals característiques demogràfiques d'Espanya i la seua evolució recent.
3. Amb les dades del mapa del Document 2, describiu el diferent impacte territorial de l'envelliment i expliqueu-ne les causes.
4. A partir de les dades anteriors i dels vostres coneixements en la matèria, expliqueu el creixement vegetatiu a Espanya lligant-lo als principals factors que hi intervenen, accelerant-lo o retardant-lo.

DOCUMENT 1 / DOCUMENTO 1
ESPAÑA, 1980-2010: INDICADORES DEMOGRÀFICS BÀSICS
ESPAÑA, 1980-2010: INDICADORES DEMOGRÁFICOS BÁSICOS

Año	Tasa bruta de natalidad	Tasa bruta de mortalidad	Esperanza de vida al nacer (años de edad)	Número de hijos por mujer	Edad de la madre al nacimiento del primer hijo	Porcentaje de mayores de 64 años
1980	15,2‰	7,7‰	75,6	2,2	25,1	11,2%
1990	10,3‰	8,5‰	77,1	1,4	26,8	13,4%
2000	9,9‰	8,9‰	79,3	1,2	29,1	16,9%
2005	10,7‰	8,8‰	80,3	1,3	29,3	16,6%
2010	10,4‰	8,2‰	82,0	1,4	29,8	16,9%

Font/Fuente: INE

DOCUMENT 2 / DOCUMENTO 2
Proporció de població major de 65 anys / Proporción de población mayor de 65 años



Fuente / Font: INE: Padró municipal (2011)

PROVES D'ACCÉS A LA UNIVERSITAT

PRUEBAS DE ACCESO A LA UNIVERSIDAD

CONVOCATÒRIA: JUNY 2014	CONVOCATORIA: JUNIO 2014
GEOGRAFIA	GEOGRAFÍA

Etiqueta de l'estudiant / Etiqueta del estudiante

PAPER ANNEX/ PAPEL ANEXO

