

PROVES D'ACCÉS A LA UNIVERSITAT

PRUEBAS DE ACCESO A LA UNIVERSIDAD

CONVOCATÒRIA: JUNY 2017	CONVOCATORIA: JUNIO 2017
Assignatura: GEOGRAFIA	Asignatura: GEOGRAFÍA

BAREM DE L'EXAMEN:

Pregunta 1^a-2,5 punts; pregunta 2^a-2,5 punts; pregunta 3^a-2,5 punts; pregunta 4^a-2,5 punts

BAREMO DEL EXAMEN:

Pregunta 1^a-2,5 puntos; 2^a pregunta 2,5 puntos; pregunta 3^a-2,5 puntos; pregunta 4^a-2,5 puntos

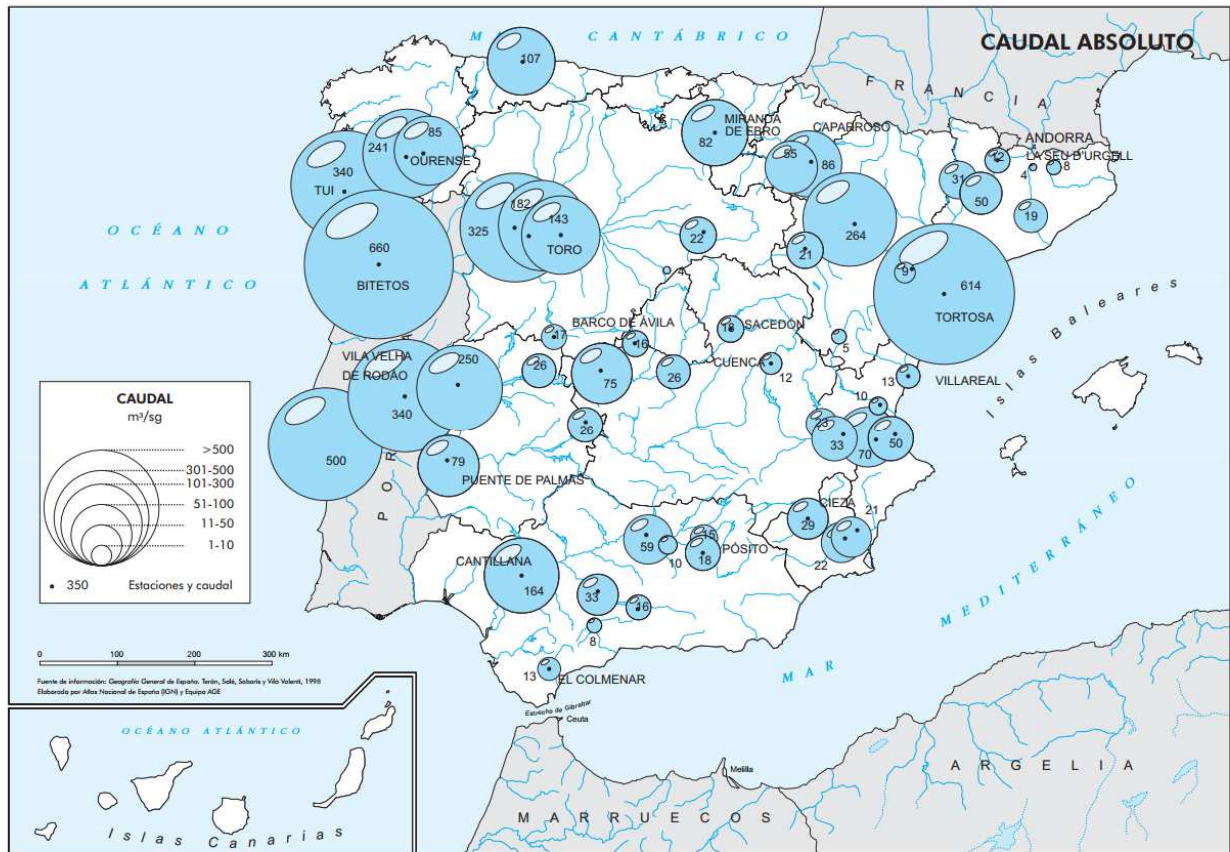
EXERCICI 1

1. Localitzeu sobre el mapa de què disposeu en el document annex les serralades que defineixen els límits de les conques hidrogràfiques dels rius: (1) Miño, (2) Tajo, (3) Guadiana, (4) Segura, (5) Xúquer i (6) Ebre. Identifiqueu quines unitats morfoestructurals de les indicades són considerades com a alpines exteriors a la Meseta.
2. Basant-vos en el document 1, descriuiu els principals factors que expliquen les diferències en el cabal absolut dels rius espanyols, assenyalant exemples concrets.
3. Descriuiu i expliqueu les principals raons dels canvis en el cabal absolut des de la capçalera fins a la desembocadura en el cas dels rius Ebre, Xúquer i Segura.
4. Expliqueu els principals factors que determinen el règim dels rius peninsulars.

EJERCICIO 1

1. Localice sobre el mapa disponible en el documento anexo las cordilleras que definen los límites de las cuencas hidrográficas de los ríos: (1) Miño, (2) Tajo, (3) Guadiana, (4) Segura, (5) Júcar y (6) Ebro. Identifique qué unidades morfoestructurales de las indicadas son consideradas como cordilleras alpinas exteriores a la meseta.
2. Basándose en el mapa del documento 1 describa los principales factores que explican las diferencias en el caudal absoluto de los ríos españoles, señalando ejemplos concretos.
3. Describa y explique las principales razones de los cambios en el caudal absoluto desde la cabecera hasta la desembocadura en el caso de los ríos Ebro, Júcar y Segura.
4. Explique los principales factores que determinan el régimen de los ríos peninsulares.

DOCUMENT 1/ DOCUMENTO 1



Mapa del cabal absolut als rius peninsulars mesurats a les estacions d'aforament.

Mapa del caudal absoluto en los ríos peninsulares medidos en las estaciones de aforo.

Font/Fuente: http://www.02.ign.es/espmmap/mapas_agua_bach/pdf/Hidro_Mapas_02texto.pdf

PROVES D'ACCÉS A LA UNIVERSITAT

PRUEBAS DE ACCESO A LA UNIVERSIDAD

CONVOCATÒRIA: JUNY 2017

CONVOCATORIA: JUNIO 2017

Assignatura: GEOGRAFIA

Asignatura: GEOGRAFÍA

Etiqueta de l'estudiant / Etiqueta del estudiante

DOCUMENT ANNEX/ DOCUMENTO ANEXO




PROVES D'ACCÉS A LA UNIVERSITAT

PRUEBAS DE ACCESO A LA UNIVERSIDAD

CONVOCATÒRIA: JUNY 2017	CONVOCATORIA: JUNIO 2017
Assignatura: GEOGRAFIA	Asignatura: GEOGRAFÍA

Etiqueta de l'estudiant / Etiqueta del estudiante

DOCUMENT ANNEX / DOCUMENTO ANEXO



PROVES D'ACCÉS A LA UNIVERSITAT

PRUEBAS DE ACCESO A LA UNIVERSIDAD

CONVOCATÒRIA: 2017

CONVOCATORIA: 2017

Assignatura: GEOGRAFIA

Asignatura: *GEOGRAFÍA*

BAREM DE L'EXAMEN: Pregunta 1^a-2,5 punts; pregunta 2^a-2,5 punts; pregunta 3^a-2,5 punts; pregunta 4^a-2,5 punts

BAREMO DEL EXAMEN: Pregunta 1^a- 2,5 puntos; pregunta 2^a- 2,5 puntos; pregunta 3^a – 2,5 puntos; pregunta 4^a – 2,5 puntos.

EXERCICI 2

1. Amb les dades que necessites del document 1, realitza un gràfic de barres sobre la distribució per llocs de residència del nombre de turistes estrangers arribats a Espanya el 2016. Comenteu el gràfic resultant.
2. Utilitzant el mapa del document 2, expliqueu la distribució i les característiques diferencials de les principals àrees turístiques espanyoles.
3. Amb les dades anteriors, expliqueu les característiques diferencials de la demanda turística estrangera a Espanya.
4. Expliqueu com influeix el turisme en l'economia espanyola.

EJERCICIO 2

1. Con los datos que necesites del documento 1, realice un gráfico de barras sobre la distribución por lugares de residencia del número de turistas extranjeros llegados a España en 2016. Comente el gráfico resultante.
2. Utilizando el mapa del documento 2, explique la distribución y características diferenciales de las principales áreas turísticas españolas.
3. Con los datos anteriores, explique las características diferenciales de la demanda turística extranjera en España.
4. Explique cómo influye el turismo en la economía española.

DOCUMENT 1 / DOCUMENTO 1

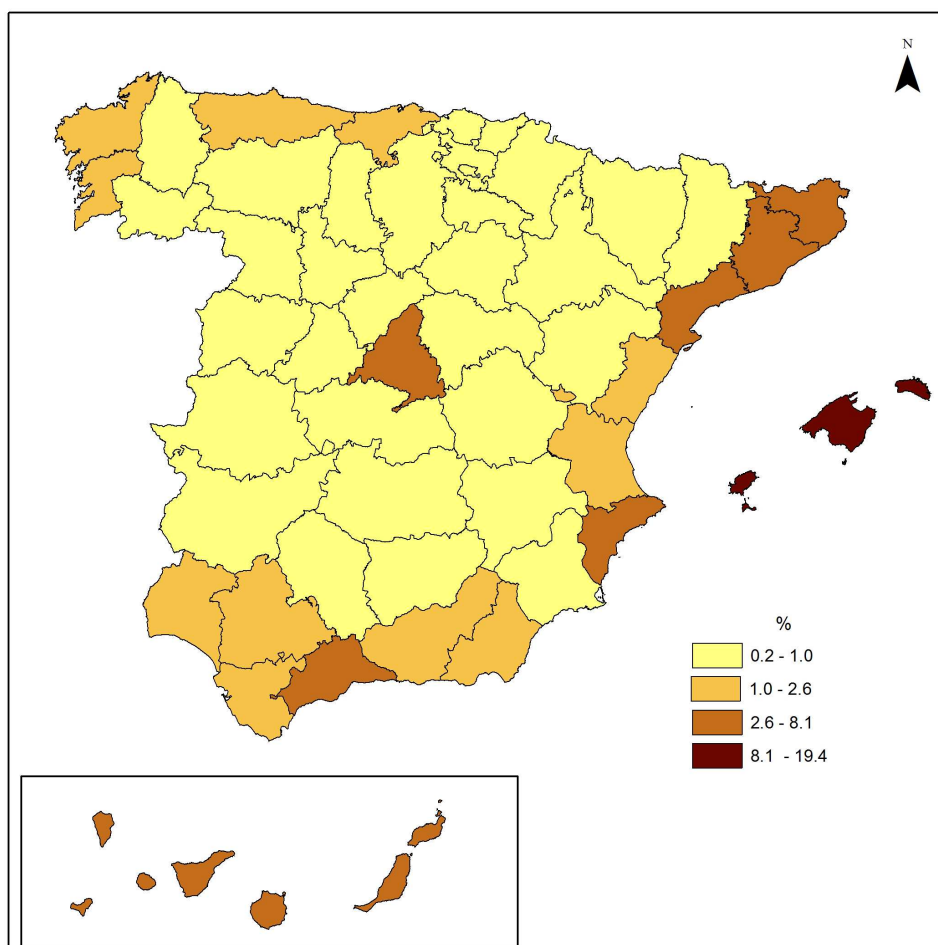
Número de turistas, despeses i temps d'estada dels turistes segons el país de residència. Espanya 2016
Número de turistas, gasto y tiempo de estancia de los turistas según país de residencia. España, 2016

País o zona	Nº de turistas	Gasto total (millones de €)	Gasto medio por turista (€)
Reino Unido	17.840.292	16.243,68	911
Francia	11.371.209	6.849,15	602
Alemania	11.188.523	11.078,05	990
Países nórdicos	5.169.195	6.043,28	1.169
Italia	3.993.289	3.047,07	763
Países Bajos	3.371.811	3.575,25	1.060
Bélgica	2.309.535	2.276,34	986
EE.UU.	2.001.214	3.822,50	1.910
Portugal	1.994.266	861,91	432
Resto de Europa	9.515.408	9.727,00	961
Resto del mundo	6.808.456	8.654,94	2.041
TOTAL	75.563.198	77.625,08	1.027

Font / Fuente: INE: Frontur y Egatur

DOCUMENT 2 / DOCUMENTO 2

Distribució percentual per províncies de les places hostaleres estimades a Espanya en Agost del 2015
Distribución porcentual por provincias de las plazas hoteleras estimadas en España en agosto de 2015



Font/ Fuente: INE. Encuesta de ocupación hotelera