


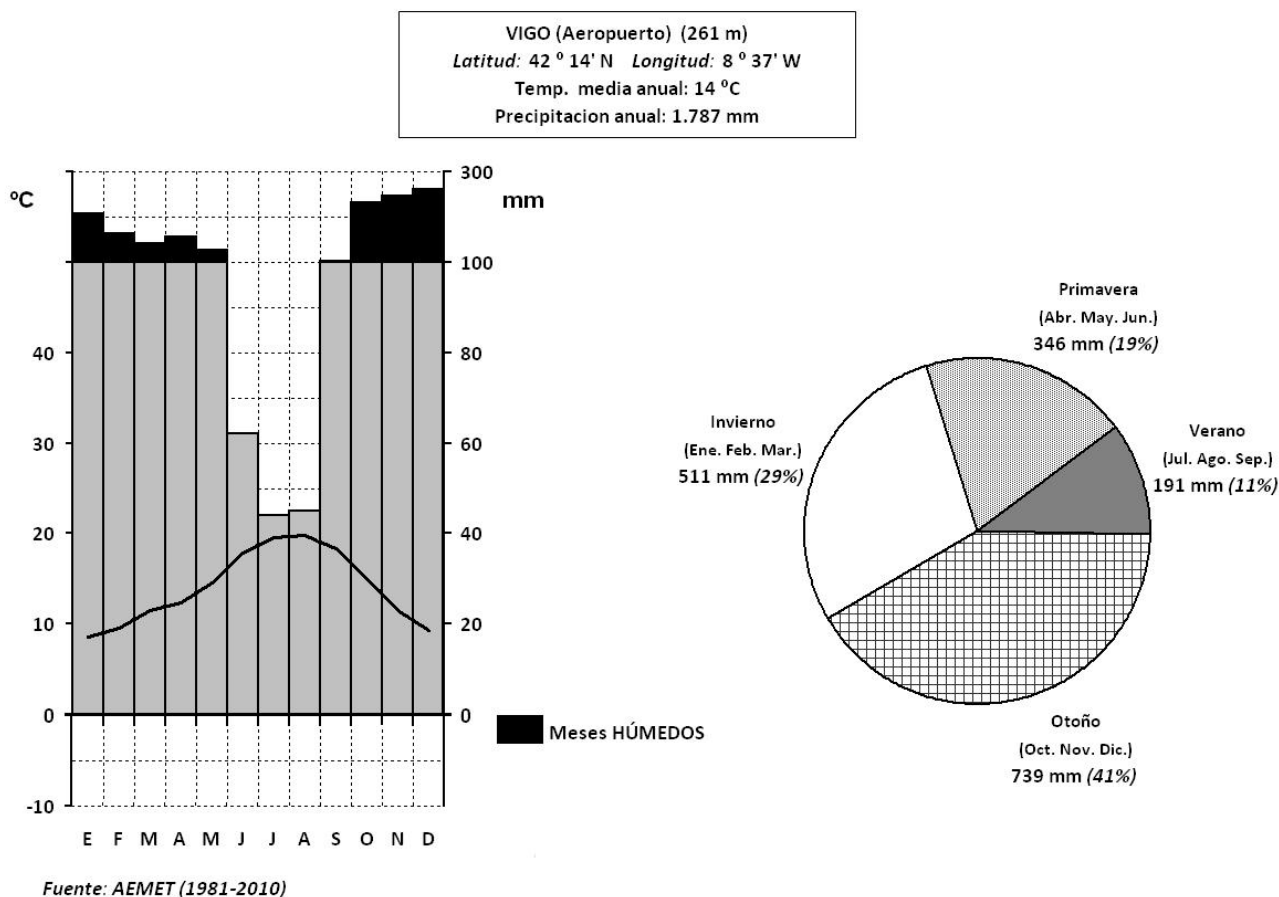
| | | | |
|---|---------------------------------------|------------------|---|
|  | EBAU Castilla y León | GEOGRAFÍA | EJERCICIO Nº páginas 2 |
|---|---------------------------------------|------------------|---|

Se presentan **DOS propuestas** de prueba con idéntica estructura (**Opción A** y **Opción B**).
El alumno deberá **escoger UNA** de ellas y **RESPONDER SÓLO A LA ELEGIDA**.

OPCIÓN A

Pregunta 1 (Hasta 2 puntos).

PRÁCTICA. Comente la siguiente figura.



Pregunta 2 (Hasta 2 puntos). Desarrolle, redactando con orden, coherencia y claridad expositiva, los contenidos relativos a **“Los espacios turísticos. Características y evolución”**.

Pregunta 3 (Hasta 2 puntos). Desarrolle, redactando con orden, coherencia y claridad expositiva, los contenidos relativos a **“Las migraciones”**.

Pregunta 4 (Hasta 2 puntos). **CONCEPTOS**. Defina con la mayor precisión posible los siguientes términos (máximo de CINCO líneas por cada concepto)

- **Campaña**
- **I.N.I.**
- **Agricultura extensiva**
- **Relieve**
- **Comunidad Autónoma**

Pregunta 5 (Hasta 2 puntos). **LOCALIZACIONES**.


En el mapa adjunto localice de forma inequívoca y con la mayor precisión posible (mediante punto, línea o contorno, y con el número correspondiente) los siguientes elementos geográficos:

- | | | | |
|--------------------------|------------------------------|---------------------------------------|----------------------------|
| 1) El Hierro | 2) Lleida (provincia) | 3) Cordillera Costera Catalana | 4) Tierra de Campos |
| 5) Golfo de Cádiz | 6) Murcia (provincia) | 7) Pico Aneto | 8) Cabo Machichaco |
| 9) Sierra Morena | 10) Cantabria | | |

OPCIÓN B

Pregunta 1 (Hasta 2 puntos).

PRÁCTICA. Comente la siguiente figura (plano urbano de Alicante/Alacant)



Pregunta 2 (Hasta 2 puntos). Desarrolle, redactando con orden, coherencia y claridad expositiva, los contenidos relativos a **“Las vertientes hidrográficas”**.

Pregunta 3 (Hasta 2 puntos). Desarrolle, redactando con orden, coherencia y claridad expositiva, los contenidos relativos a los **“Tipos de agricultura: coexistencia de formas avanzadas y tradicionales”**.

Pregunta 4 (Hasta 2 puntos). **CONCEPTOS**. Defina con la mayor precisión posible los siguientes términos (máximo de CINCO líneas por cada concepto)

- **Aridez estival**
- **Polígono industrial**
- **Delta**
- **Consejo Europeo**
- **Ganadería intensiva**

Pregunta 5 (Hasta 2 puntos). **LOCALIZACIONES**.

En el mapa adjunto localice de forma inequívoca y con la mayor precisión posible (mediante punto, línea o contorno, y con el número correspondiente) los siguientes elementos geográficos:

- 1) **Río Miño**
- 2) **Melilla**
- 3) **Marismas del Guadalquivir**
- 4) **Río Llobregat**
- 5) **Timanfaya (PN)**
- 6) **Comunidad Foral de Navarra**
- 7) **Archipiélago de Cabrera (PN)**
- 8) **Ciudad Real (provincia)**
- 9) **Guadarrama (PN)**
- 10) **Arribes del Duero**