

PROVES D'ACCÉS A LA UNIVERSITAT

PRUEBAS DE ACCESO A LA UNIVERSIDAD

CONVOCATÒRIA: JUNY 2017	CONVOCATORIA: JUNIO 2017
Assignatura: BIOLOGIA	Asignatura: BIOLOGÍA

BAREM DE L'EXAMEN: L'examen consta de dues opcions (A i B), i l'estudiant haurà de triar íntegrament una de les dues. Cada opció consta de quatre blocs. Cada bloc es valorarà sobre 10 punts i els punts assignats a cada qüestió figuren en el text.

BAREMO DEL EXAMEN: El examen consta de dos opciones (A y B). El estudiante deberá elegir íntegramente una de las dos. Cada opción consta de cuatro bloques. Cada bloque se valorará sobre 10 puntos. Los puntos asignados a cada cuestión figuran en el texto.

OPCIÓ A OPCIÓN A

BLOC I. Base molecular i fisicoquímica de la vida

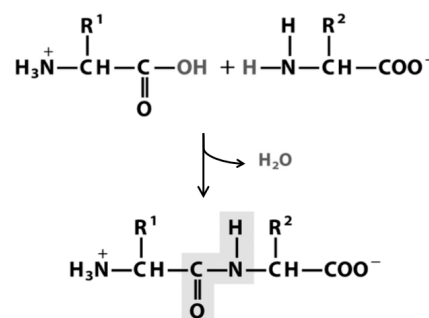
BLOQUE I. Base molecular y físico-química de la vida

1. En la reacció següent dos monòmers reaccionen per a formar un dímer:

- Quines molècules són aquests monòmers? En quin tipus de macromolècules es troba aquesta unió? (1 punt)
- Com es denomina l'enllaç que es forma entre aquests monòmers? Quines són les característiques d'aquest enllaç? (2 punts)
- Citeu dos exemples d'aquesta macromolècula i indiqueu-ne la funció (2 punts)

1. En la siguiente reacción dos monómeros reaccionan para formar un dímero:

- ¿Qué moléculas son estos monómeros? ¿En qué tipo de macromoléculas se encuentra esta unión? (1 punto)
- ¿Cómo se denomina el enlace que se forma entre estos monómeros? ¿Cuáles son las características de este enlace? (2 puntos)
- Cita dos ejemplos de esta macromolécula e indica su función (2 puntos)



2. Assigneu les característiques següents a la molècula de DNA o a la molècula d'RNA (5 punts):

- | | |
|---|---|
| a) Monocatenari | f) Hi pot haver aparellaments de bases intracatenaris |
| b) Bicatenari | g) Té una vida molt curta |
| c) Conté uracil | h) Emmagatzema la informació genètica |
| d) Conté ribosa | i) Està associada a les histones |
| e) S'estableixen interaccions A-T i G-C | j) És una molècula molt estable |

2. Asigna las características siguientes a la molécula de DNA o a la molécula de RNA (5 puntos):

- | | |
|--|--|
| a) Monocatenario | f) Pueden existir apareamientos de bases intracatenarios |
| b) Bicatenario | g) Tiene una vida muy corta |
| c) Contiene uracilo | h) Almacena la información genética |
| d) Contiene ribosa | i) Está asociado a las histonas |
| e) Se establecen interacciones A-T y G-C | j) Es una molécula muy estable |

BLOC II. Estructura i fisiologia cel·lular

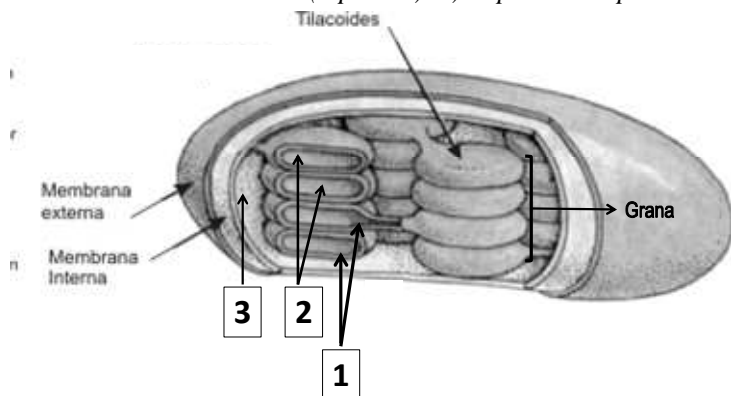
BLOQUE II. Estructura y fisiología celular

1. Indiqueu les diferències entre RER i REL respecte a l'estructura i la funció (3 punts). Expliqueu la relació que tenen amb l'aparell de Golgi i els lisosomes (2 punts).

1. Indica las diferencias entre RER y REL respecto a su estructura y función (3 puntos). Explica su relación con el aparato de Golgi y los lisosomas (2 puntos).

2. a) Observeu la imatge i indiqueu el nom de les parts marcades amb xifres. Assenyaleu breument el procés que es duu a terme en cadascuna d'aquestes (3 punts). b) Expliqueu la importància biològica de la fotosíntesi (2 punts).

2.a) Observa la imagen e indica el nombre de las partes marcadas con número. Señala brevemente el proceso que se lleva a cabo en cada una de ellas (3 puntos). b) Explica la importancia biológica de la fotosíntesis (2 puntos).



BLOC III. Herència biològica: Genètica clàssica i molecular

BLOQUE III. Herencia biológica: Genética clásica y molecular

1. A un òvul d'una femella A se li elimina el nucli, se li introdueix el nucli d'una cèl·lula somàtica d'un individu B, i posteriorment l'òvul s'implanta en l'úter d'una femella C. Si els individus A, B i C són de la mateixa espècie, a qui s'assemblarà genèticament l'individu resultant de la fertilització? Justifiqueu la resposta (2 punts.)

1. A un óvulo de una hembra A se le elimina su núcleo, se le introduce el núcleo de una célula somática de un individuo B, y posteriormente se implanta en el útero de una hembra C. Si los individuos A, B y C son de la misma especie, ¿a quién se parecerá genéticamente el individuo resultante de su fertilización? Razona la respuesta (2 puntos.)

2. Respecte al grup sanguini: a) Si el pare d'un xiquet de grup sanguini O és del grup A i la mare del grup B, quins fenotips i quins genotips poden presentar els fills que puguen tenir? (2 punts) b) Deduïu les proporcions fenotípiques i genotípiques que s'esperen en la descendència d'una dona de grup sanguini AB i un home de grup sanguini O (2 punts).

2. Respecto al grupo sanguíneo: a) Si el padre de un niño de grupo sanguíneo O es del grupo A y la madre del grupo B, ¿qué fenotipos y qué genotipos pueden presentar los hijos que puedan tener? (2 puntos) b) Deduce las proporciones fenotípicas y genotípicas que se esperan en la descendencia de una mujer de grupo sanguíneo AB y un hombre de grupo sanguíneo O (2 puntos).

3. Definiu el terme mutació i distingiu entre mutacions espontànies i induïdes. Tenen les mateixes conseqüències les mutacions que es produeixen en les cèl·lules somàtiques que les que es produeixen en les cèl·lules germinals? Justifiqueu la resposta (4 punts).

3. Define el término mutación y distingue entre mutaciones espontáneas e inducidas. ¿Tienen las mismas consecuencias las mutaciones que se producen en las células somáticas que las que se producen en las células germinales? Razona la respuesta (4 puntos).

BLOC IV. Microbiologia i immunologia. Aplicacions

BLOQUE IV. Microbiología e inmunología. Aplicaciones

1. En la resposta immunitària hi participen diferents tipus de limfòcits T que maduren al tim. Citeu tres tipus de limfòcits T i expliqueu breument la funció de cadascun d'aquests (3 punts).

1. En la respuesta inmunitaria participan diferentes tipos de linfocitos T que maduran en el timo. Cita tres tipos de linfocitos T y explica brevemente la función de cada uno de ellos (3 puntos).

2. a) Expliqueu què és un antigen (1 punt). b) Quin paper té el determinant antigènic o epítop en la resposta immunitària? (1 punt). c) Quina relació té amb la selecció clonal? (2 punts).

2. a) Explica qué es un antígeno (1 punto). b) ¿Qué papel tiene el determinante antigénico o epítipo en la respuesta inmunitaria? (1 punto). c) ¿Qué relación tiene con la selección clonal? (2 puntos).

3. Amb relació als microorganismes patògens, definiu els conceptes següents: a) virulència, b) microorganisme atenuat i c) toxina (3 punts).

3. En relación a los microorganismos patógenos, define los siguientes conceptos: a) virulencia, b) microorganismo atenuado y c) toxina (3 puntos).

OPCIÓ B OPCIÓN B

BLOC I. Base molecular i fisicoquímica de la vida

BLOQUE I. Base molecular y físico-química de la vida

1. Quins lípids són els constituents de les membranes biològiques? (3 punts) Quina característica comuna posseeixen que és important per a la funció que fan, i per què? (1 punt) Expliqueu la composició química d'un d'aquests (1 punt).

1. ¿Qué lípidos son los constituyentes de las membranas biológicas? (3 puntos) ¿Qué característica común poseen que es importante para su función y por qué? (1 punto) Explica la composición química de uno de ellos (1 punto).

2. L'hexoquinasa és un enzim que catalitza la primera etapa de la glucòlisi, en la qual la glucosa es fosforila a glucosa 6-fosfat (5 punts): a) Quin tipus de molècules són els enzims? b) Què és el centre actiu? c) Què s'entén per especificitat dels enzims? d) Què és un cofactor? f) Quina relació hi ha entre coenzims i vitamines?

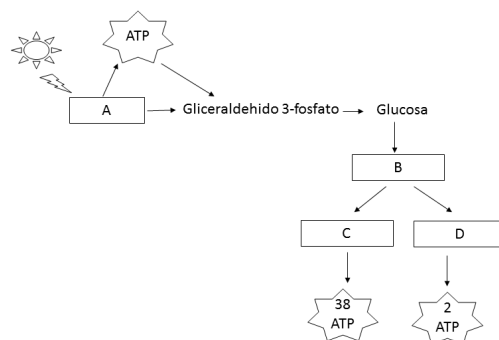
2. La hexoquinasa es un enzima que cataliza la primera etapa de la glucolisis, en la que la glucosa se fosforila a glucosa 6-fosfato (5 puntos): a) ¿Qué tipo de moléculas son las enzimas? b) ¿Qué es el centro activo? c) ¿Qué se entiende por especificidad de las enzimas? d) ¿Qué es un cofactor? f) ¿Qué relación existe entre coenzimas y vitaminas?

BLOC II. Estructura i fisiologia cel·lular

BLOQUE II. Estructura y fisiología celular

1. a) Relacioneu els processos de respiració, fermentació, fotosíntesi i glucòlisi amb les lletres A, B, C i D de l'esquema següent. Justifiqueu breument la resposta. b) Assenyalau en quines condicions ambientals es produeixen els processos A, C i D. c) Quines rutes metabòliques es duen a terme en els processos A i C? (6 punts)

1. a) Relaciona los procesos de respiración, fermentación, fotosíntesis y glucolisis con las letras A, B, C y D del siguiente esquema. Justifica brevemente tu respuesta b) Señala en qué condiciones ambientales se producen los procesos A, C y D. c) ¿Qué rutas metabólicas se llevan a cabo en los procesos A y C? (6 puntos)



2. Definiu els conceptes següents: fotoautòtrof, quimioautòtrof, fotoheteròtrof i quimioheteròtrof (4 punts).

2. Define los siguientes conceptos: fotoautótrofo, quimioautótrofo, fotoheterótrofo y quimioheterótrofo (4 puntos).

BLOC III. Herència biològica: Genètica clàssica i molecular

BLOQUE III. Herencia biológica: Genética clásica y molecular

1. Indiqueu en quina fase de la mitosi tenen lloc els processos següents (2 punts) i ordeneu-los cronològicament (1 punt): a) migració de cromàtides germanes als pols, b) organització dels cromosomes en el pla equatorial, c) trencament de l'embolcall nuclear i d) descondensació dels cromosomes.

1. Indica en qué fase de la mitosis tienen lugar los siguientes procesos (2 puntos) y ordénalos cronológicamente (1 punto): a) migración de cromátidas hermanas a los polos, b) organización de los cromosomas en el plano ecuatorial, c) rotura de la envoltura nuclear y d) descondensación de los cromosomas.

2. Assenyaleu les funcions dels diferents RNA (3 punts).

2. Señala las funciones de los distintos RNAs (3 puntos).

3. Descriviu dues característiques del codi genètic. Definiu els termes *codó* i *anticodó* (4 punts).

3. Describe dos características del código genético. Define los términos codón y anticodón (4 puntos).

BLOC IV. Microbiologia i immunologia. Aplicacions

BLOQUE IV. Microbiología e inmunología. Aplicaciones

1. Justifiqueu si són vertaderes o falses les afirmacions següents (3 punts): a) Una mesura de la memòria immunològica és la quantitat d'anticossos en el sèrum. b) Mitjançant les vacunes s'aconsegueix immunitat natural passiva. c) Els bebès que s'alimenten de lactància materna estan més protegits de malalties infeccioses que els que no ho fan.

1. Justifica si son verdaderas o falsas las siguientes afirmaciones (3 puntos): a) Una medida de la memoria inmunológica es la cantidad de anticuerpos en el suero. b) Mediante las vacunas se consigue inmunidad natural pasiva. c) Los bebés que se alimentan de lactancia materna están más protegidos de enfermedades infecciosas que los que no lo hacen.

2. Responen a les qüestions següents, relacionades amb els virus (4 punts): a) Què significa que els virus són paràsits obligats? b) Què és un retrovirus? Quin enzim necessita per a reproduir-se? c) Què és un provirus o virus temperat? d) Què és un virió?

2. Responde a las siguientes cuestiones relacionadas con los virus (4 puntos): a) ¿Qué significa que los virus son parásitos obligados? b) ¿Qué es un retrovirus? ¿Qué enzima necesita para reproducirse? c) ¿Qué es un provirus o virus atemperado? d) ¿Qué es un virión?

3. Per a preparar iogurt casolà es barreja una certa quantitat de llet amb una mica de iogurt i es manté a 35-40°C durant 48 hores. Responen les preguntes següents, justificant la resposta (3 punts). a) Què passaria si per error es mantinguera la barreja durant 8 hores a 1°C? b) Obtindríem iogurt si s'empra llet esterilitzada prèviament? c) I si el que s'esterilitza és el iogurt abans d'afegir-lo a la llet?

3. Para preparar yogur casero se mezcla una cierta cantidad de leche con un poco de yogur y se mantiene a 35-40°C durante 48 horas. Contesta a las siguientes preguntas justificando la respuesta (3 puntos). a) ¿Qué pasaría si por error se mantuviera la mezcla durante 8 horas a 1°C? b) ¿Obtendríamos yogur si se emplea leche previamente esterilizada? c) ¿Y si lo que se esteriliza es el yogur antes de añadirlo a la leche?