

PROVES D'ACCÉS A LA UNIVERSITAT

PRUEBAS DE ACCESO A LA UNIVERSIDAD

<b>CONVOCATÒRIA:</b>	<b>JULIOL 2020</b>	<b>CONVOCATORIA:</b>	<b>JULIO 2020</b>
<b>Assignatura: GEOGRAFIA</b>		<b>Asignatura: GEOGRAFÍA</b>	

**BAREM DE L'EXAMEN:**

Es pot contestar fins a un màxim de 4 preguntes a elegir entre les 8 de què consta l'examen.

**Pregunta 1: 2,5 punts; Pregunta 2: 2,5 punts; Pregunta 3: 2,5 punts; Pregunta 4: 2,5 punts; Pregunta 5: 2,5 punts; Pregunta 6: 2,5 punts; Pregunta 7: 2,5 punts; Pregunta 8: 2,5 punts.**

**BAREMO DEL EXAMEN:**

Se puede responder hasta un máximo de 4 preguntas a elegir entre las 8 de que consta el examen.

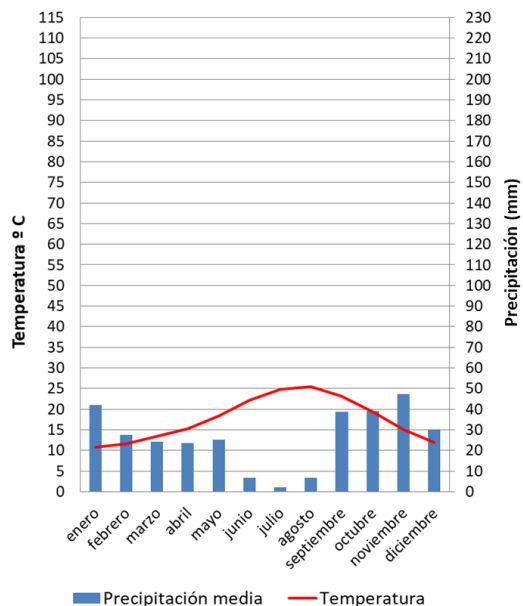
**Pregunta 1: 2,5 puntos; Pregunta 2: 2,5 puntos; Pregunta 3: 2,5 puntos; Pregunta 4: 2,5 puntos; Pregunta 5: 2,5 puntos; Pregunta 6: 2,5 puntos; Pregunta 7: 2,5 puntos; Pregunta 8: 2,5 puntos.**

1. Associeu la lletra corresponent a cada un dels diagrames de Gaussen del Document 1 amb un dels punts localitzats en el mapa del Document 2, i indiqueu la duració del període sec.
2. Indiqueu a quin tipus de clima s'assigna cada un dels quatre climogrames que presenta el Document 1 i descriuiu quines són les seues principals característiques.
3. Expliqueu de quina manera influeix l'orografia del terreny en les condicions tèrmiques i pluviomètriques en la Península Ibèrica.
4. Expliqueu com condiciona el relleu la xarxa de drenatge i el règim dels rius que desemboquen al Mediterrani espanyol.
5. Amb les dades del Document 3 realitzeu en el Mapa Annex un mapa de coropletes sobre l'edat mitjana de les diferents comunitats autònomes.
6. Utilitzant el Document 4, descriuiu i raoneu les principals característiques de la piràmide de població espanyola.
7. Indiqueu les raons (històriques, econòmiques, demogràfiques...) que expliquen el diferent nivell d'envelliment de les distintes comunitats espanyoles.
8. Indiqueu les conseqüències de tot tipus que pot originar l'elevat envelliment de la població espanyola.

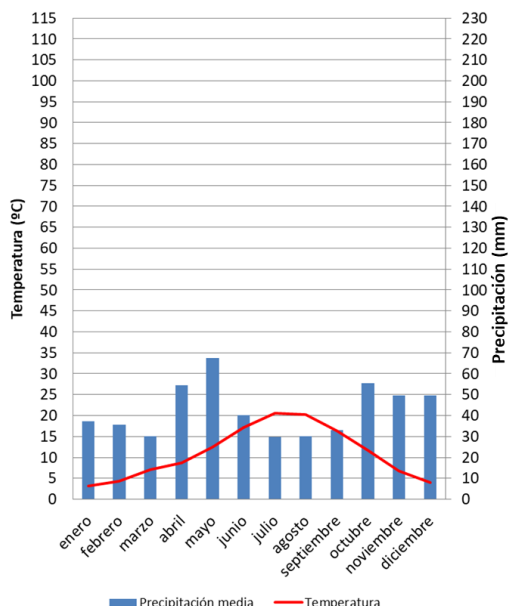
1. Asocia la letra correspondiente a cada uno de los diagramas de Gaussen del Documento 1 con uno de los puntos localizados en el mapa del Documento 2, e indica la duración del periodo seco.
2. Indica a qué tipo de clima se asigna cada uno de los cuatro climogramas que presenta el Documento 1 y describe cuáles son sus principales características.
3. Explica de qué manera influye la orografía del terreno en las condiciones térmicas y pluviométricas en la Península Ibérica.
4. Explica cómo condiciona el relieve la red de drenaje y el régimen de los ríos que vierten al Mediterráneo español.
5. Con los datos del Documento 3 realiza en el Mapa Anexo un mapa de coropletas sobre la edad media de las diferentes comunidades autónomas.
6. Utilizando el Documento 4, describe y razona las principales características de la pirámide de población española.
7. Indica las razones (históricas, económicas, demográficas...) que explican el diferente nivel de envejecimiento de las distintas comunidades españolas.
8. Indica las consecuencias de todo tipo que puede originar el elevado envejecimiento de la población española.

Document 1 / Documento 1

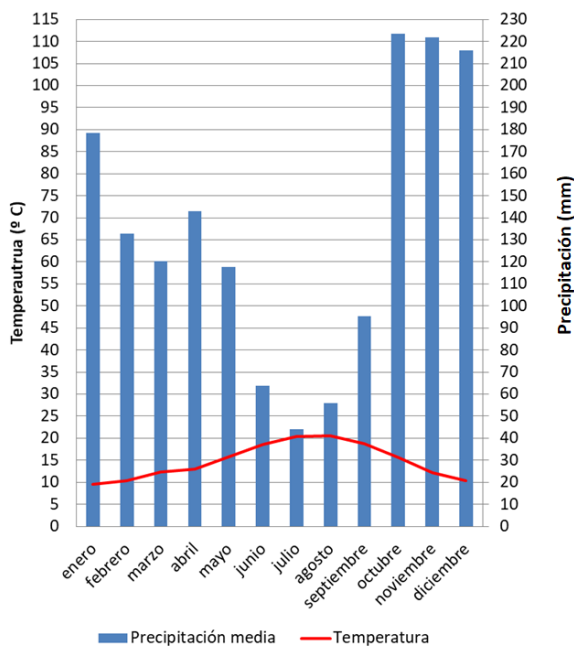
Estación A



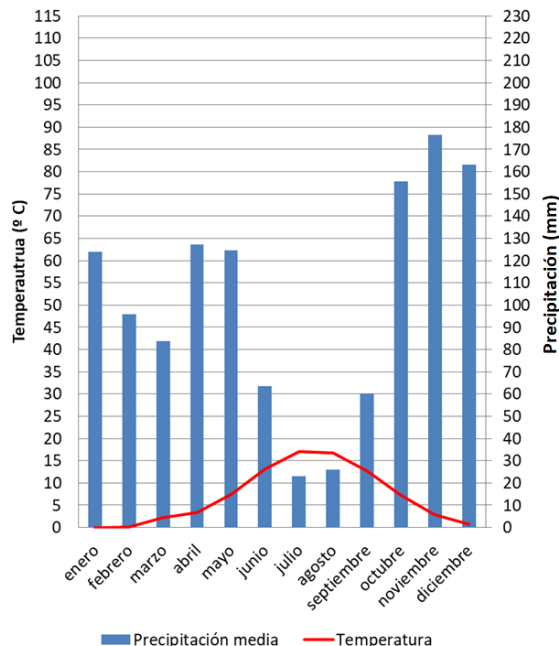
Estación B

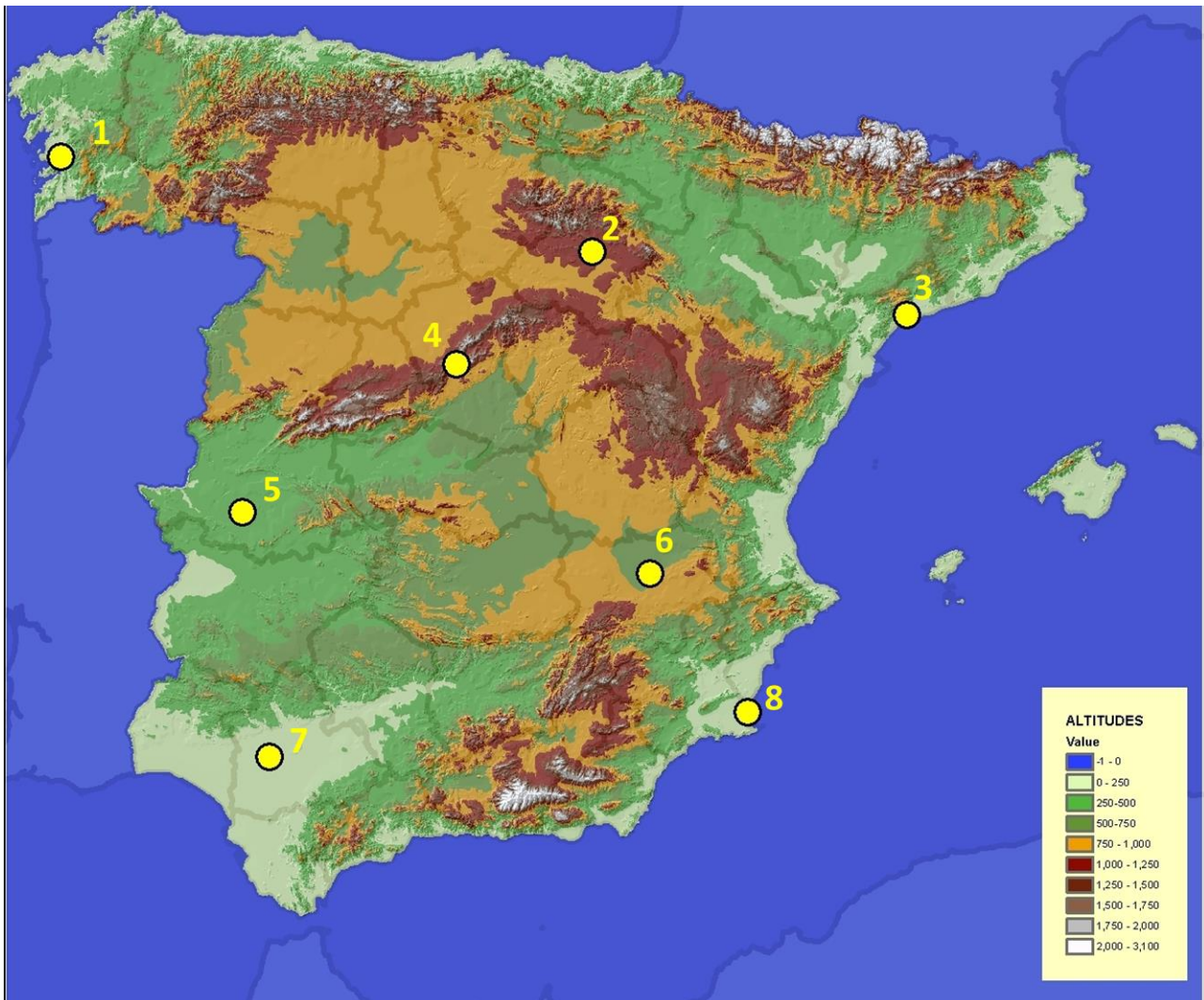


Estación C



Estación D





Document 3 / Documento 3

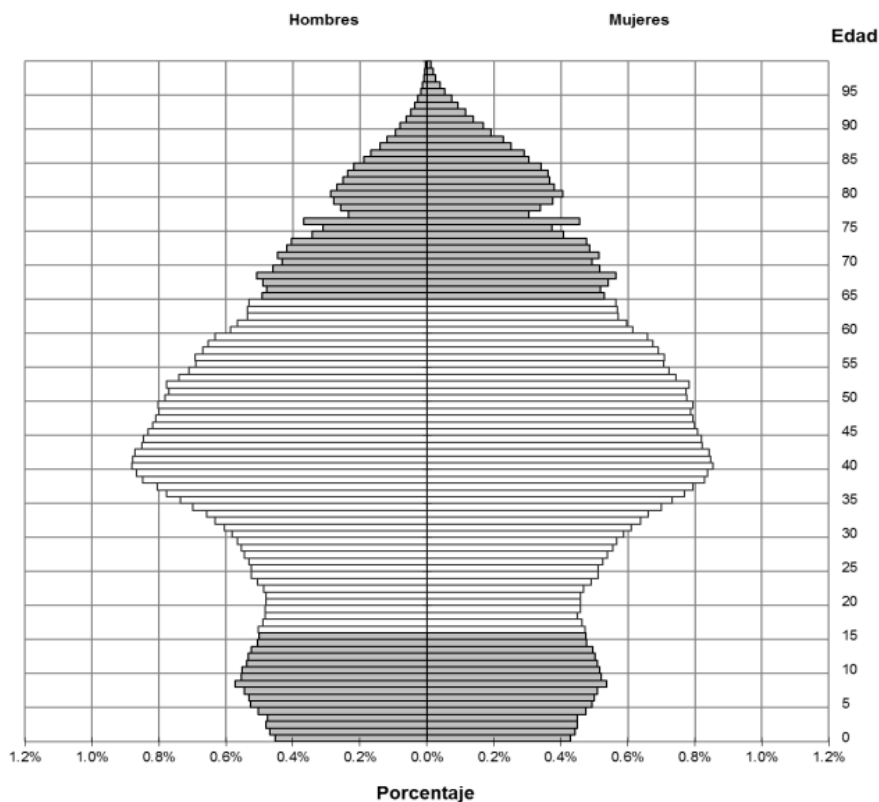
**Espanya, 2019: Edat mitjana de la població de cada comunitat autònoma.**  
**España, 2019: Edad media de la población de cada comunidad autónoma.**

Comunitat autònoma/ <i>Comunidad autónoma</i>	Edat mitjana/ <i>Edad media</i>	Comunitat autònoma/ <i>Comunidad autónoma</i>	Edat mitjana/ <i>Edad media</i>
Andalucía	41,9	Com. Valenciana	43,4
Aragón	44,8	Extremadura	44,4
Asturias	48,3	Galícia	47,3
Balears	41,2	Madrid	42,3
Canarias	42,3	Murcia	40,5
Cantabria	45,5	Navarra	43,2
Castilla y León	47,6	País Vasco	45,4
Castilla – La Mancha	43,1	Rioja, La	44,5
Catalunya	43,1	MITJANA ESPANYOLA/ <i>MEDIA ESPAÑOLA</i>	43,3

Font/Fuente: INE: *Principals sèries de població/ Principales series de población*

Document 4 / Documento 4

**Piràmide de la població d'Espanya**  
**Pirámide de la población de España**



Font/Fuente: INE: *Principales series de población*

**PROVES D'ACCÉS A LA UNIVERSITAT**

**PRUEBAS DE ACCESO A LA UNIVERSIDAD**

**CONVOCATÒRIA:**

**JULIOL 2020**

**CONVOCATORIA:**

**JULIO 2020**

**Assignatura: GEOGRAFIA**

**Asignatura: GEOGRAFÍA**

**Codi barres alumnat / Código barras alumnado**

**MAPA ANNEX / MAPA ANEXO**

