



Prueba de Acceso a la Universidad de Extremadura

Curso 2010-11

Asignatura: GEOGRAFÍA

Tiempo máximo de la prueba: 1h. 30 min.

El alumno deberá elegir una de las dos opciones completas de examen, sin posibilidad de que se puedan combinar preguntas de ambos.

La puntuación total de cada una de las opciones será de 10 puntos, pudiendo modificarse en un punto la calificación final por la presentación, ortografía y calidad de redacción, a juicio del corrector.

OPCIÓN A:

1.- Responda a uno de los temas siguientes:

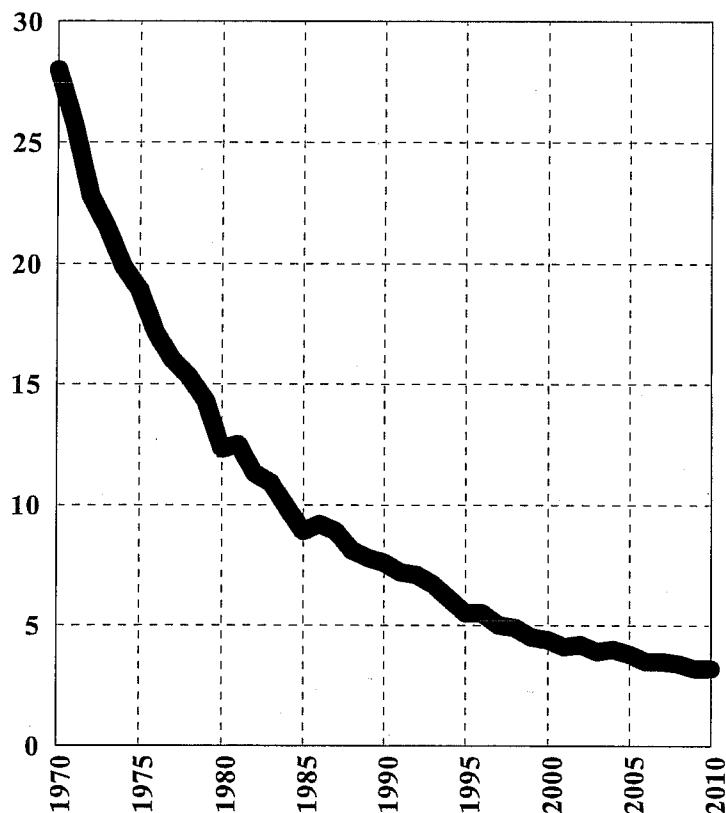
A.- El medio natural como recurso

B.- El proceso de urbanización en España

La respuesta se desarrollará, como máximo, en dos caras de folio, y se valorará con tres puntos.

2.- A la vista del siguiente gráfico...

Evolución de la Mortalidad Infantil
ESPAÑA (Tantos por 1.000)





Prueba de Acceso a la Universidad de Extremadura
Curso 2010-11

Asignatura: **GEOGRAFÍA**

Tiempo máximo de la prueba: 1h. 30 min.

- a).- **Indica cómo se calcula dicha tasa y explica el significado que tiene en el análisis demográfico**
b).- **Explica cuáles son los factores (sociales, económicos, sanitarios, etc...) que han condicionado esta evolución**

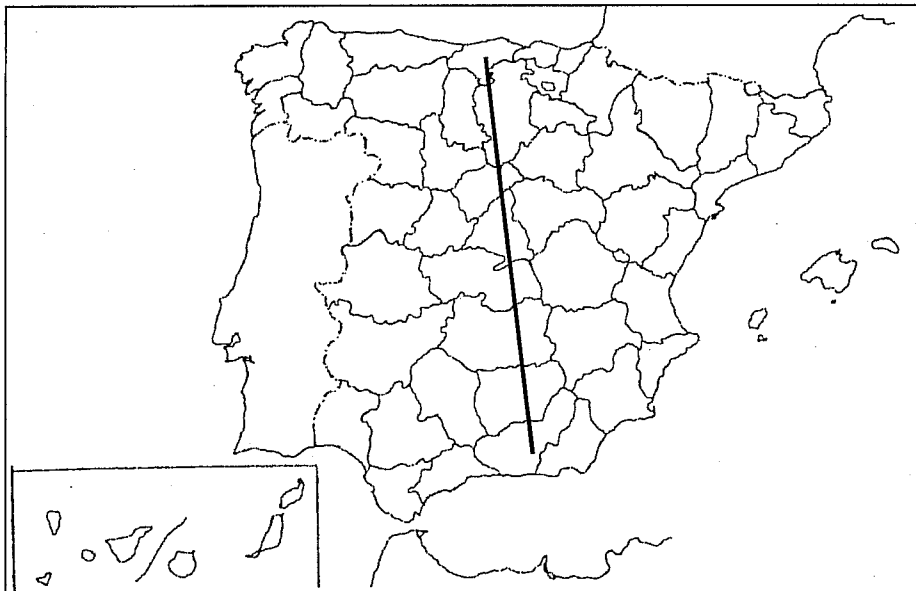
El comentario se desarrollará en la cara de un folio y se valorará con tres puntos.

3.- **Defina brevemente los siguientes términos geográficos y ponga algún ejemplo en relación con ellos:**

- **Relieve cárstico**
- **Cuenca hidrográfica**
- **Biodiversidad**
- **Modulación**
- **Mancomunidad**

Cada una de las respuestas se valorará con 0.4 puntos, hasta un total de dos puntos.

4.- **En uno de los folios del examen, relacione –de Norte a Sur- las provincias atravesadas por la línea, así como los sistemas montañosos y los ríos principales**



La respuesta se valorará con un máximo de dos puntos.



Prueba de Acceso a la Universidad de Extremadura

Curso 2010-11

Asignatura: **GEOGRAFÍA**

Tiempo máximo de la prueba: 1h. 30 min.

El alumno deberá elegir una de las dos opciones completas de examen, sin posibilidad de que se puedan combinar preguntas de ambos.

La puntuación total de cada una de las opciones será de 10 puntos, pudiendo modificarse en un punto la calificación final por la presentación, ortografía y calidad de redacción, a juicio del corrector.

OPCIÓN B:

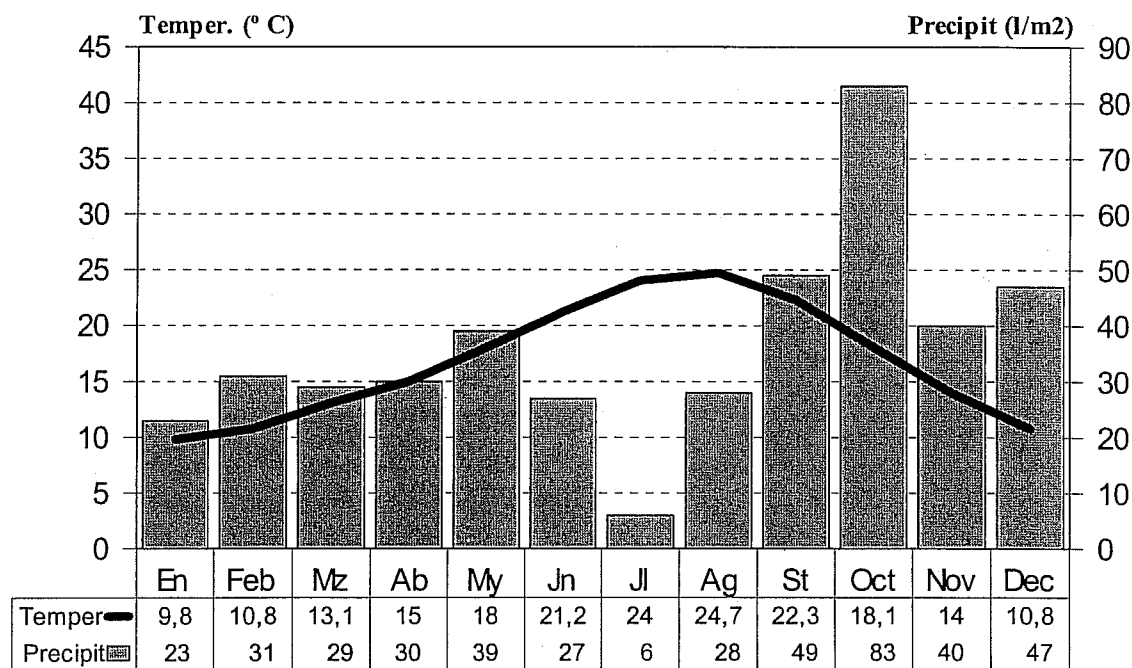
1.- Responda a uno de los temas siguientes:

A.- Factores condicionantes de los ríos españoles

B.- Los desequilibrios territoriales en España.

La respuesta se desarrollará, como máximo, en dos caras de folio, y se valorará con tres puntos.

2.- A la vista del siguiente climograma:



Temperatura Media Anual: 16,9 ° C

Precipitaciones Anuales: 432

Asignatura: **GEOGRAFÍA**

Tiempo máximo de la prueba: 1h. 30 min.

- a).- **Indique las características fundamentales de este clima.**
b).- **Explique estas características en función de los factores que las determinan e intente razonar la localización del observatorio.**

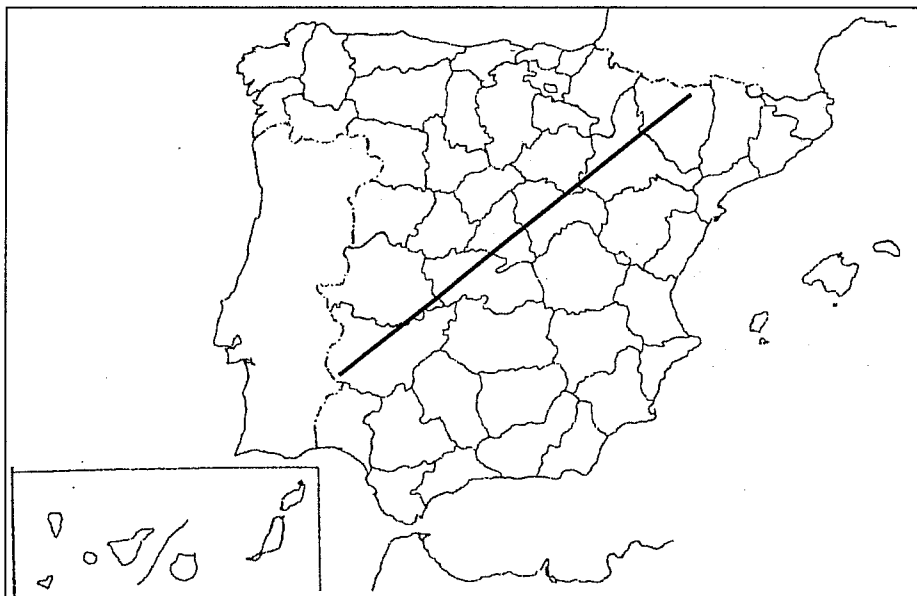
El comentario se desarrollará en la cara de un folio y se valorará con tres puntos.

3.- **Defina brevemente los siguientes términos geográficos y ponga algún ejemplo en relación con ellos:**

- **Isoyeta**
- **Régimen Fluvial**
- **Tasa de Fecundidad**
- **Caladero**
- **PRODER**

Cada una de las respuestas se valorará con 0.4 puntos, hasta un total de dos puntos.

4.- **En uno de los folios del examen, relacione –de NE a SO- las provincias atravesadas por la línea, así como los sistemas montañosos y los ríos principales**



La respuesta se valorará con un máximo de dos puntos.