

El alumno deberá elegir una de las dos opciones completas de examen, sin posibilidad de que se puedan combinar preguntas de ambos.

La puntuación total de cada una de las opciones será de 10 puntos, pudiendo modificarse en un punto la calificación final por la presentación, ortografía y calidad de redacción, a juicio del corrector.

OPCIÓN A:

1.- Responda a uno de los temas siguientes:

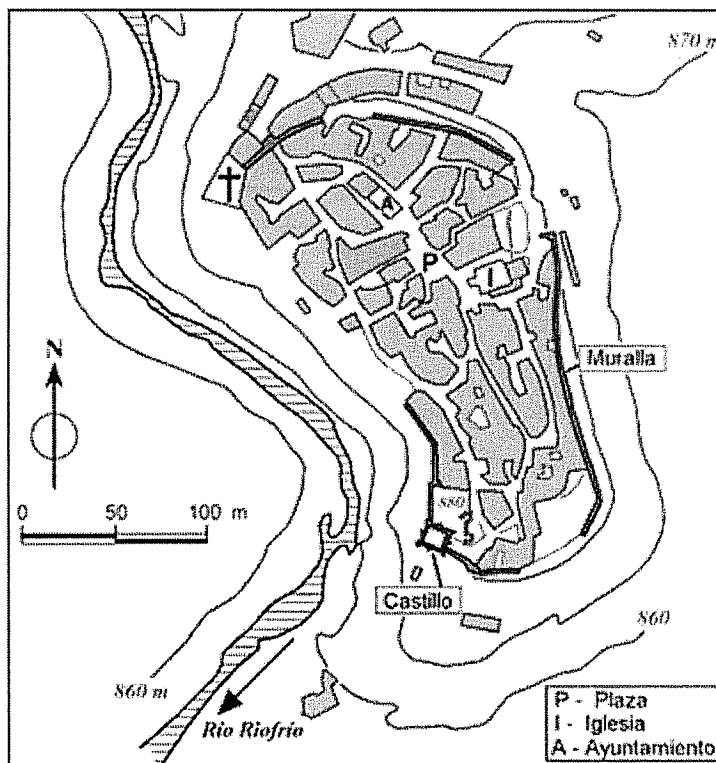
1.- Responda a uno de los temas siguientes:

A.- Desequilibrios territoriales en España

B.- Los factores físicos como condicionantes de la actividad agraria en España

La respuesta se desarrollará, como máximo, en dos caras de folio, y se valorará con tres puntos.

2.- A la vista del siguiente plano, perteneciente al municipio salmantino de Monleón ...



Asignatura: **GEOGRAFÍA**

Tiempo máximo de la prueba: 1h. 30 min.

- a).- **Comente el emplazamiento, la estructura, los principales elementos urbanísticos y su funcionalidad.**
b).- **Haga un breve comentario acerca de los factores que hayan podido influir en su origen y evolución**

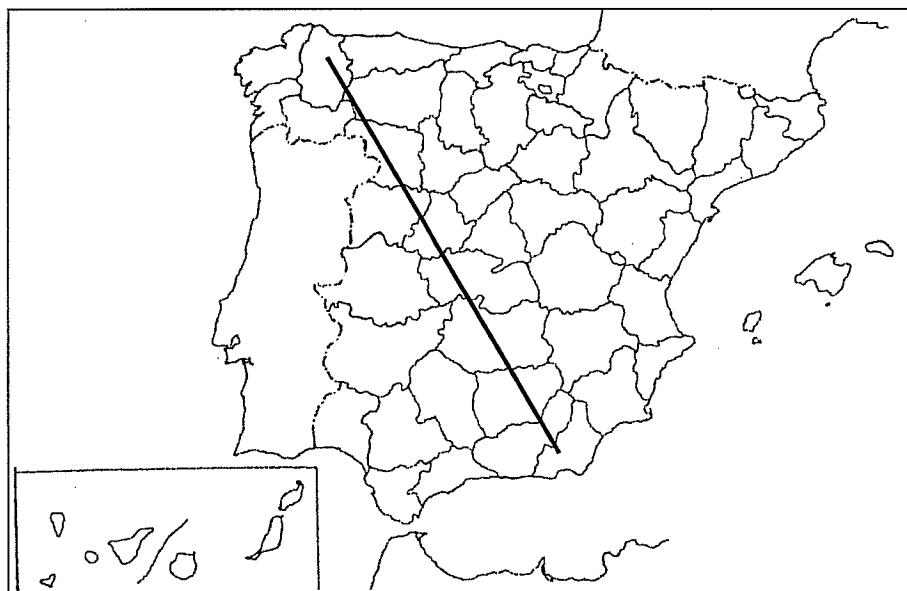
El comentario se desarrollará en la cara de un folio y se valorará con tres puntos.

3.- Defina brevemente los siguientes términos geográficos y ponga algún ejemplo en relación con ellos:

- Isohipsa
- Delta
- FEADER
- Paro biológico
- Desarrollo endógeno

Cada una de las respuestas se valorará con 0.4 puntos, hasta un total de dos puntos.

4.- En uno de los folios del examen, relacione –de NO a SE- las provincias atravesadas por la línea, así como los sistemas montañosos y los ríos principales



La respuesta se valorará con un máximo de dos puntos.

El alumno deberá elegir una de las dos opciones completas de examen, sin posibilidad de que se puedan combinar preguntas de ambos.

La puntuación total de cada una de las opciones será de 10 puntos, pudiendo modificarse en un punto la calificación final por la presentación, ortografía y calidad de redacción, a juicio del corrector.

OPCIÓN B:

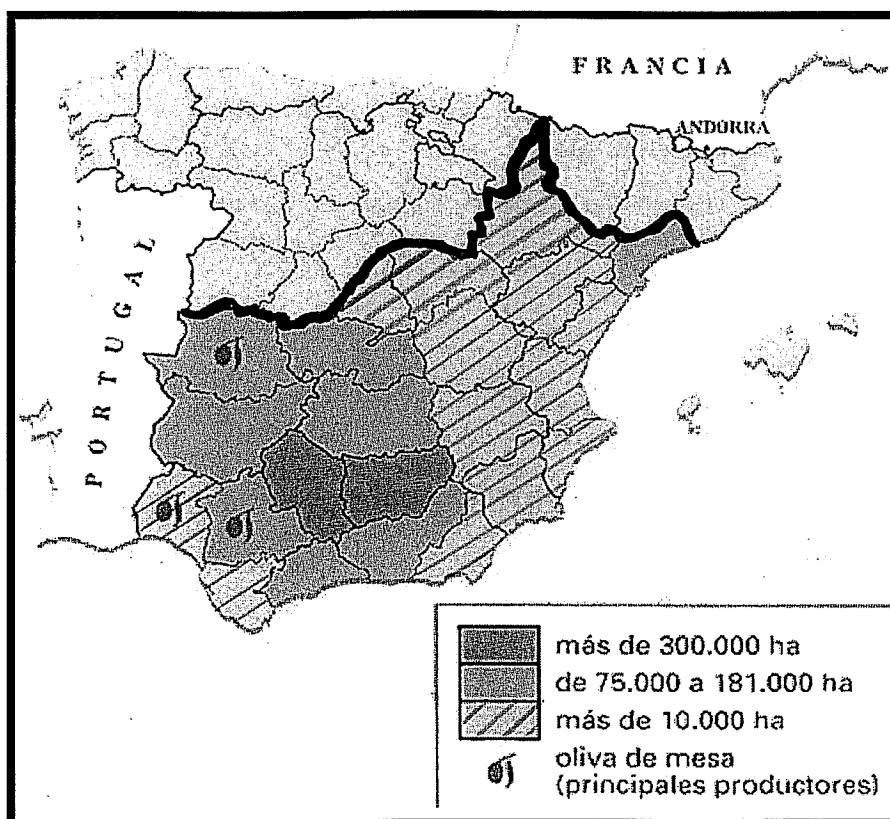
1.- Responda a uno de los temas siguientes:

A.- Tipos de clima en España

B.- Los factores humanos como condicionantes de la actividad agraria en España

La respuesta se desarrollará, como máximo, en dos caras de folio, y se valorará con tres puntos.

2.- A la vista del siguiente mapa de distribución provincial del olivar:



————— Límite septentrional del olivar



Prueba de Acceso a la Universidad de Extremadura Curso 2008-09

Asignatura: GEOGRAFÍA

Tiempo máximo de la prueba: 90 minutos

- a).- Indique cuáles son las provincias españolas que disponen de mayor superficie de olivar
b).- Explique las razones que justifican esta distribución y haga referencia a la producción, comercialización y problemática del aceite de oliva.

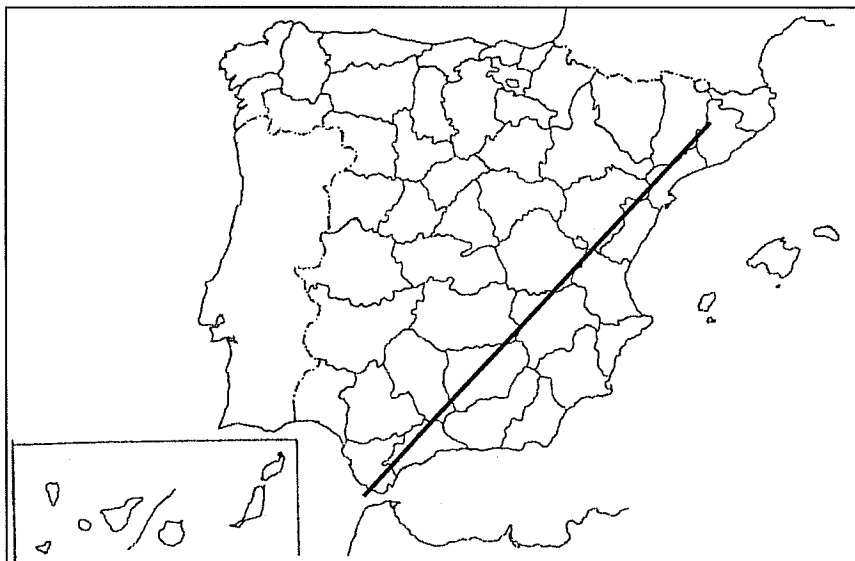
El comentario se desarrollará en la cara de un folio y se valorará con tres puntos.

3.- Defina brevemente los siguientes términos geográficos y ponga algún ejemplo en relación con ellos:

- Zócalo
- Gradiente térmico
- Lluvia ácida
- Esperanza de vida
- Modulación

Cada una de las respuestas se valorará con 0.4 puntos, hasta un total de dos puntos.

4.- En uno de los folios del examen, relacione –de NE a SO- las provincias atravesadas por la línea, así como los sistemas montañosos y los ríos principales



La respuesta se valorará con un máximo de dos puntos.