

Prueba de Acceso a la Universidad de Extremadura

Curso 2012-13

Asignatura: **GEOGRAFÍA**

Tiempo máximo de la prueba: 1h. 30 min.

El alumno deberá elegir una de las dos opciones completas de examen, sin posibilidad de que se puedan combinar preguntas de ambos.

La puntuación total de cada una de las opciones será de 10 puntos, pudiendo modificarse en un punto la calificación final por la presentación, ortografía y calidad de redacción, a juicio del corrector.

OPCIÓN A:

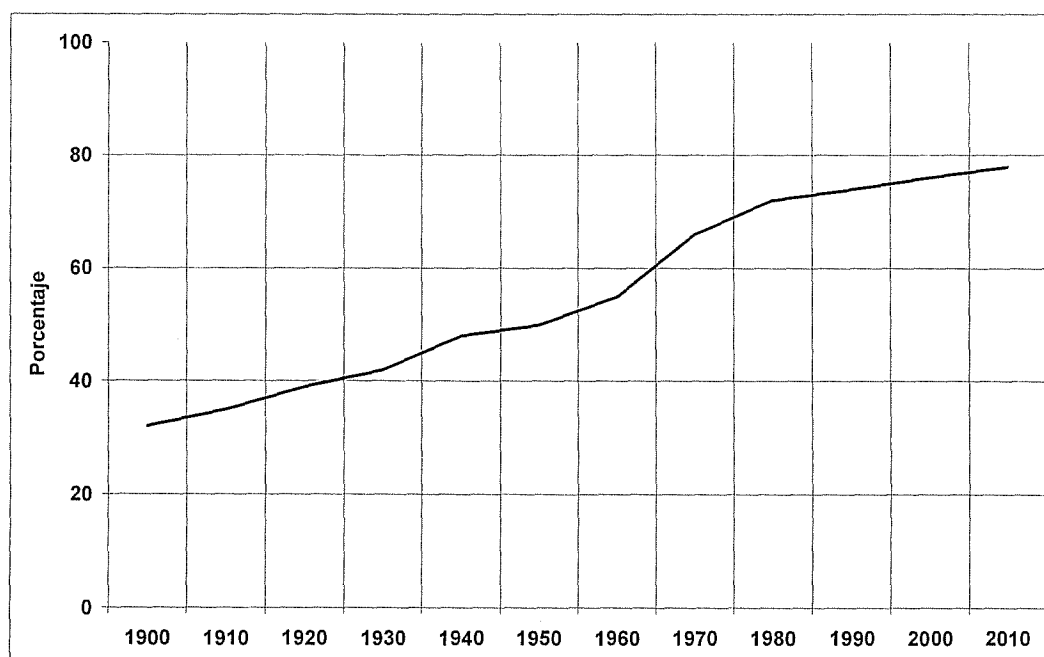
1.- RESPONDA A UNO DE LOS TEMAS SIGUIENTES:

A.- Factores condicionantes de los ríos españoles.

B.- Estructura de la población española.

La respuesta se desarrollará, como máximo, en dos caras de folio, y se valorará con tres puntos.

2.- A LA VISTA DEL SIGUIENTE GRÁFICO SOBRE LA EVOLUCIÓN PORCENTUAL DE LA POBLACIÓN URBANA EN ESPAÑA:



a) Señala las características de esta evolución.

b) Comenta los factores que han influido en dicha evolución.

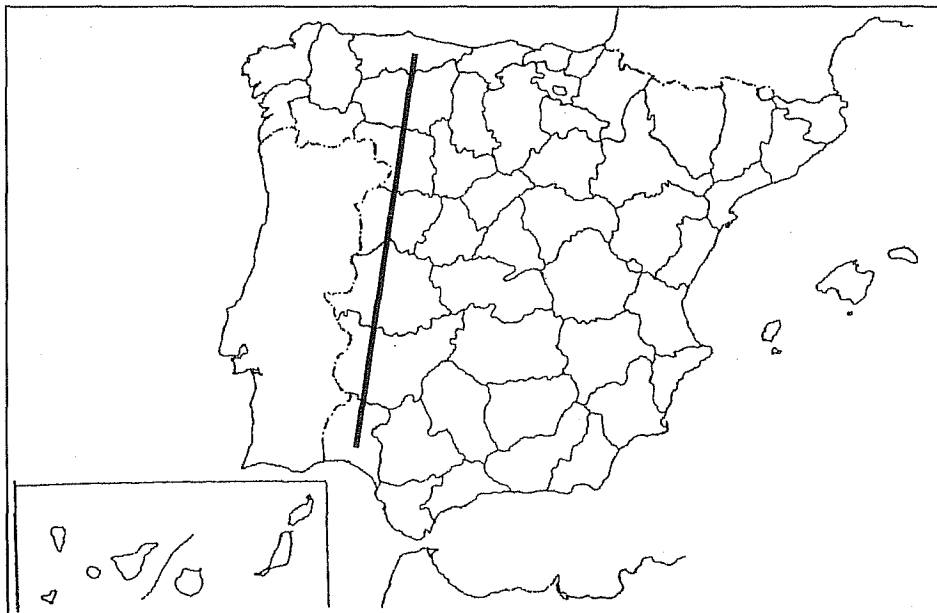
El comentario se desarrollará en la cara de un folio y se valorará con tres puntos.

3.- DEFINA BREVEMENTE LOS SIGUIENTES TÉRMINOS GEOGRÁFICOS Y PONGA ALGÚN EJEMPLO EN RELACIÓN CON ELLOS:

- Erosión
- Anticiclón
- Caudal
- Inmigración
- Latifundio

Cada una de las respuestas se valorará con 0.4 puntos, hasta un total de dos puntos.

4.- EN UNO DE LOS FOLIOS DEL EXAMEN, RELACIONE – DE NORTE A SUR- LAS PROVINCIAS ASÍ COMO LOS SISTEMAS MONTAÑOSOS Y LOS RÍOS PRINCIPALES, POR LAS QUE TRANSCURRE LA LÍNEA RECTA, DESDE SU ORIGEN HASTA EL FINAL.



La respuesta se valorará con un máximo de dos puntos.

Prueba de Acceso a la Universidad de Extremadura

Curso 2012-13

Asignatura: **GEOGRAFÍA**

Tiempo máximo de la prueba: 1h. 30 min.

El alumno deberá elegir una de las dos opciones completas de examen, sin posibilidad de que se puedan combinar preguntas de ambos.

La puntuación total de cada una de las opciones será de 10 puntos, pudiendo modificarse en un punto la calificación final por la presentación, ortografía y calidad de redacción, a juicio del corrector.

OPCIÓN B:

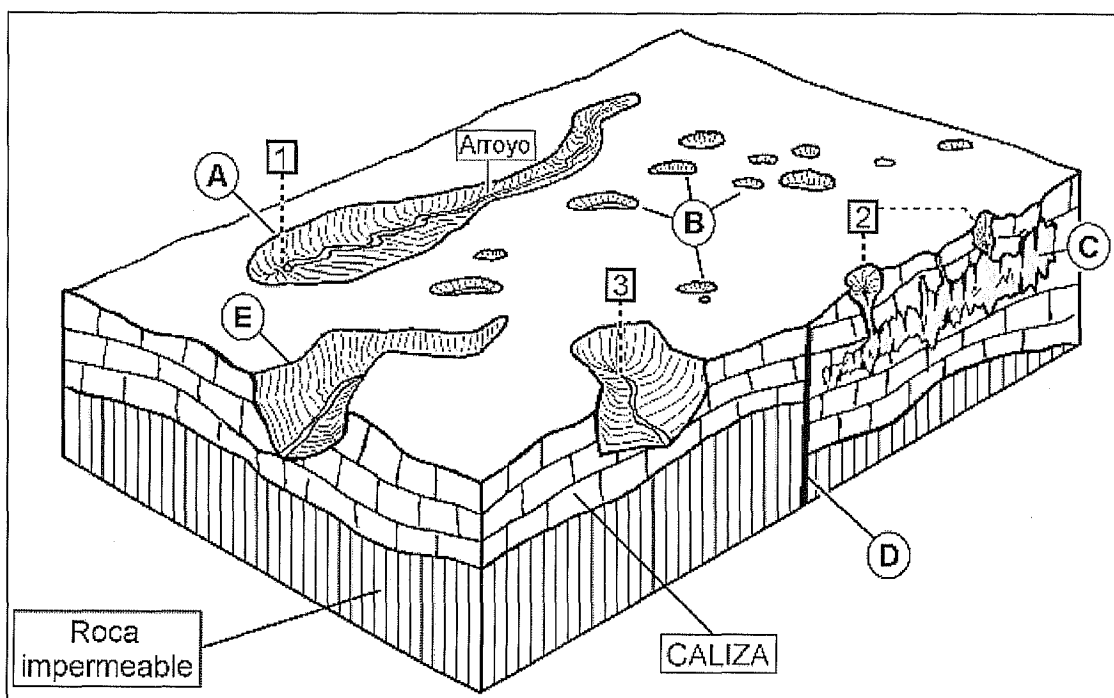
1.- RESPONDA A UNO DE LOS TEMAS SIGUIENTES:

A.- Los factores del clima en España.

B.- El proceso de urbanización en España.

La respuesta se desarrollará, como máximo, en dos caras de folio, y se valorará con tres puntos.

2.- A LA VISTA DEL SIGUIENTE BLOQUE DIAGRAMA:



a) Comente el tipo de relieve que representa, su origen y sus principales elementos (letras y números).

b) Indique en qué provincias españolas puede encontrarse este tipo de relieve.

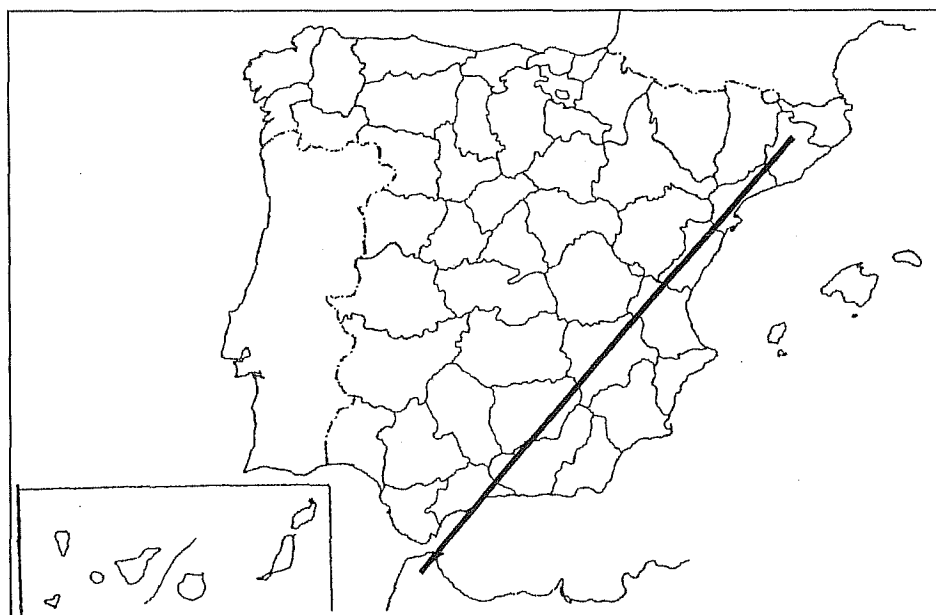
El comentario se desarrollará en la cara de un folio y se valorará con tres puntos.

3.- DEFINA BREVEMENTE LOS SIGUIENTES TÉRMINOS GEOGRÁFICOS Y PONGA ALGÚN EJEMPLO EN RELACIÓN CON ELLOS:

- Meridianos
- Pliegue
- Isotherma
- Agricultura de subsistencia
- Sector primario

Cada una de las respuestas se valorará con 0.4 puntos, hasta un total de dos puntos.

4.- EN UNO DE LOS FOLIOS DEL EXAMEN, RELACIONE – DE NORTE A SUR- LAS PROVINCIAS ASÍ COMO LOS SISTEMAS MONTAÑOSOS Y LOS RÍOS PRINCIPALES, POR LAS QUE TRANSCURRE LA LÍNEA RECTA, DESDE SU ORIGEN HASTA EL FINAL.



La respuesta se valorará con un máximo de dos puntos.