

Prueba de Acceso a la Universidad de Extremadura

Curso 2012-13

Asignatura: **GEOGRAFÍA**

Tiempo máximo de la prueba: 1h. 30 min.

El alumno deberá elegir una de las dos opciones completas de examen, sin posibilidad de que se puedan combinar preguntas de ambos.

La puntuación total de cada una de las opciones será de 10 puntos, pudiendo modificarse en un punto la calificación final por la presentación, ortografía y calidad de redacción, a juicio del corrector.

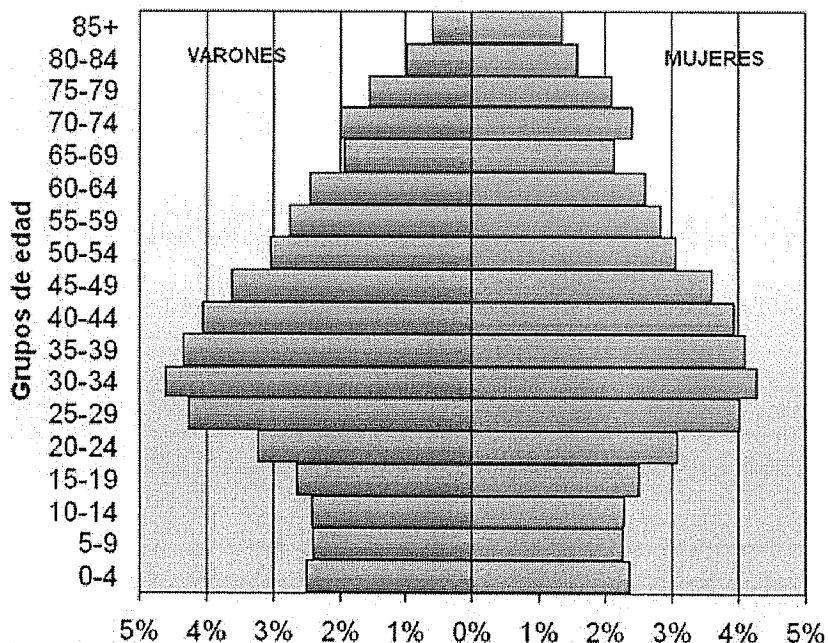
OPCIÓN A:

1.- RESPONDA A UNO DE LOS TEMAS SIGUIENTES:

- A.- Elementos del clima.**
- B.- El sistema urbano español.**

La respuesta se desarrollará, como máximo, en dos caras de folio, y se valorará con tres puntos.

2.- A LA VISTA DE LA SIGUIENTE PIRÁMIDE DE EDADES DE ESPAÑA (2010):



- a) Describe su aspecto general y destaca las incidencias más notables de su estructura.
b) Realiza una valoración de la situación demográfica de España que refleja esta pirámide de edades.

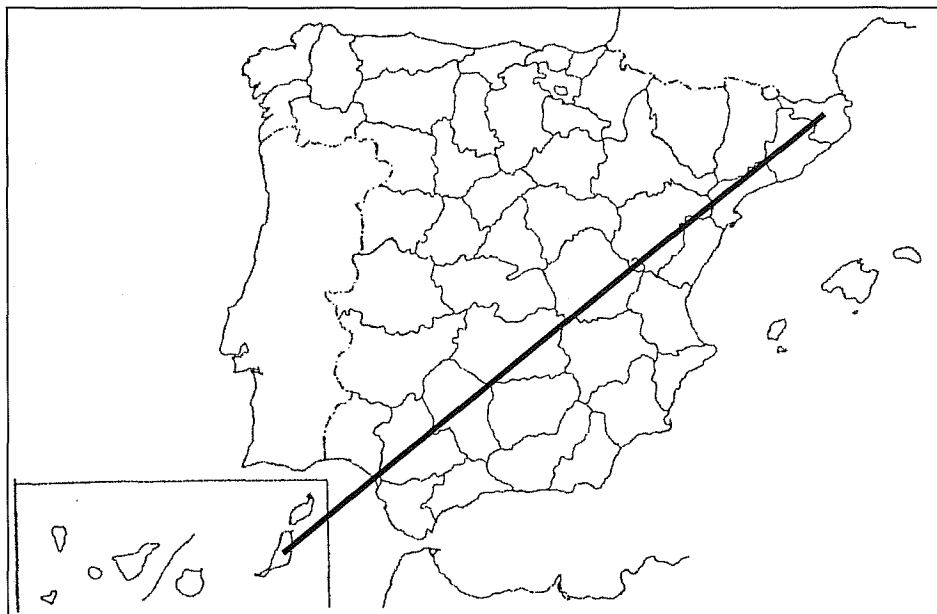
El comentario se desarrollará en la cara de un folio y se valorará con tres puntos.

3.- DEFINA BREVEMENTE LOS SIGUIENTES TÉRMINOS GEOGRÁFICOS Y PONGA ALGÚN EJEMPLO EN RELACIÓN CON ELLOS:

- Mapa
- Cerro testigo
- Borrasca
- Esperanza de vida
- Ensanche

Cada una de las respuestas se valorará con 0.4 puntos, hasta un total de dos puntos.

4.- EN UNO DE LOS FOLIOS DEL EXAMEN, RELACIONE –DE NORESTE A SUROESTE– LAS PROVINCIAS ATRAVESADAS POR LA LÍNEA, ASÍ COMO LOS SISTEMAS MONTAÑOSOS Y LOS RÍOS PRINCIPALES.



La respuesta se valorará con un máximo de dos puntos.

Prueba de Acceso a la Universidad de Extremadura

Curso 2012-13

Asignatura: **GEOGRAFÍA**

Tiempo máximo de la prueba: 1h. 30 min.

El alumno deberá elegir una de las dos opciones completas de examen, sin posibilidad de que se puedan combinar preguntas de ambos.

La puntuación total de cada una de las opciones será de 10 puntos, pudiendo modificarse en un punto la calificación final por la presentación, ortografía y calidad de redacción, a juicio del corrector.

OPCIÓN B:

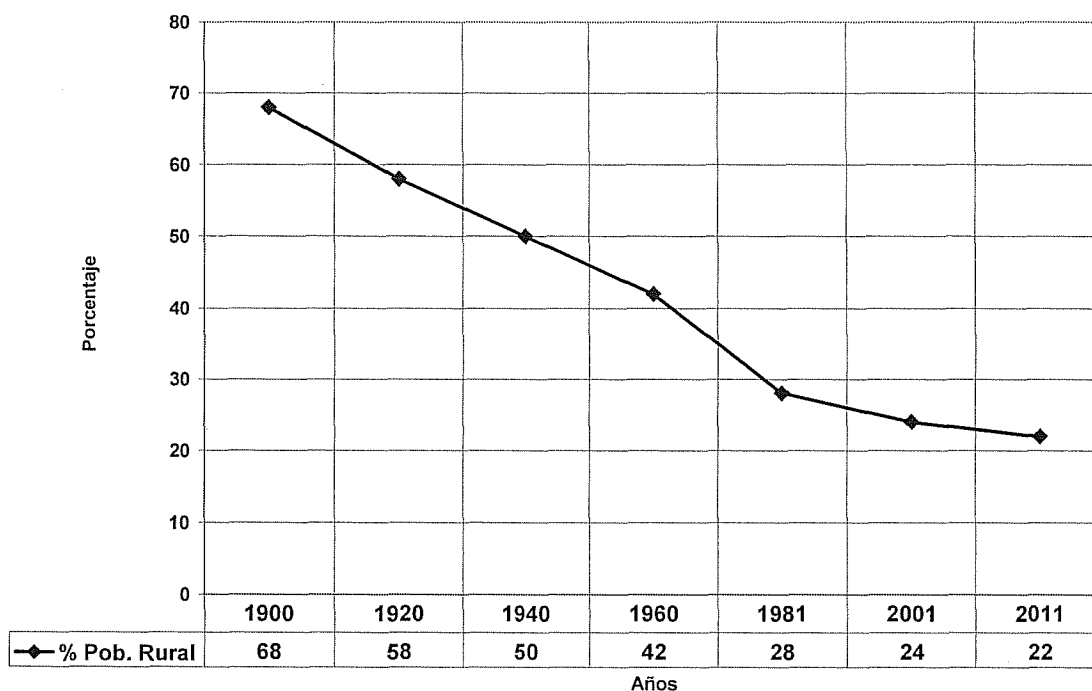
1.- RESPONDA A UNO DE LOS TEMAS SIGUIENTES:

A.- El roquedo peninsular y los tipos de relieve.

B.- Movimientos migratorios.

La respuesta se desarrollará, como máximo, en dos caras de folio, y se valorará con tres puntos.

2.- A LA VISTA DEL SIGUIENTE GRÁFICO SOBRE LA EVOLUCIÓN PORCENTUAL DE LA POBLACIÓN RURAL EN ESPAÑA:



a) Señala las características de esta evolución.

b) Comenta los factores que han influido en dicha evolución.

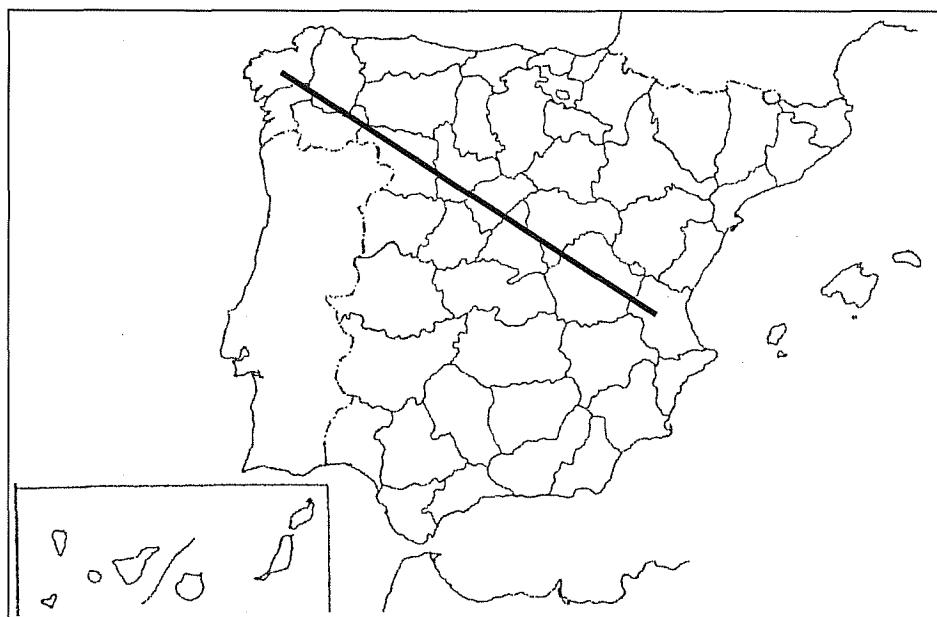
El comentario se desarrollará en la cara de un folio y se valorará con tres puntos.

3.- DEFINA BREVEMENTE LOS SIGUIENTES TÉRMINOS GEOGRÁFICOS Y PONGA ALGÚN EJEMPLO EN RELACIÓN CON ELLOS:

- Desertificación
- Sistema de Información Geográfica (SIG)
- Esclerófilo
- Tasa Bruta de Natalidad
- Policultivo

Cada una de las respuestas se valorará con 0.4 puntos, hasta un total de dos puntos.

4.- EN UNO DE LOS FOLIOS DEL EXAMEN, RELACIONE –DE NOROESTE A SURESTE- LAS PROVINCIAS ATRAVESADAS POR LA LÍNEA, ASÍ COMO LOS SISTEMAS MONTAÑOSOS Y LOS RÍOS PRINCIPALES.



La respuesta se valorará con un máximo de dos puntos.