

Prueba de Acceso a la Universidad de Extremadura Curso 2013-14

Asignatura: **GEOGRAFÍA**

Tiempo máximo de la prueba: 1h. 30 min.

El alumno deberá elegir una de las dos opciones completas de examen, sin posibilidad de que se puedan combinar preguntas de ambos.

La puntuación total de cada una de las opciones será de 10 puntos, pudiendo modificarse en un punto la calificación final por la presentación, ortografía y calidad de redacción, a juicio del corrector.

OPCIÓN A:

1.- RESPONDA A UNO DE LOS TEMAS SIGUIENTES:

A.- Características generales del relieve español.

B.- El sistema urbano español.

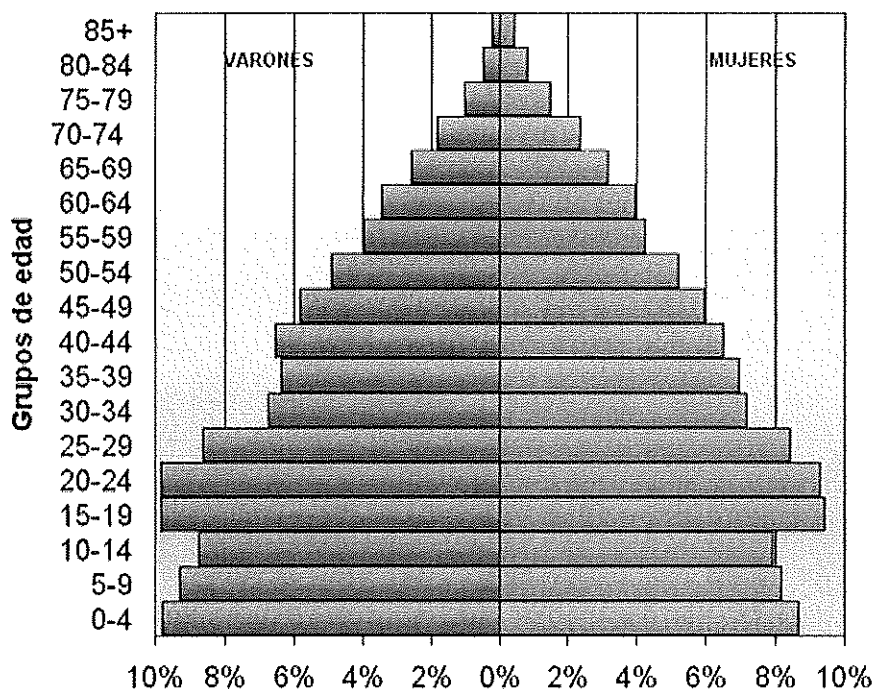
La respuesta se desarrollará en dos caras de folio, y se valorará con 3 puntos.

2.- A LA VISTA DE LA SIGUIENTE PIRÁMIDE DE EDADES DE ESPAÑA DE 1950:

a) Describe su aspecto general y destaca las incidencias más notables de su estructura.

b) Realiza una valoración de la situación demográfica que tenía España en 1950.

Pirámide de población de España: 1950



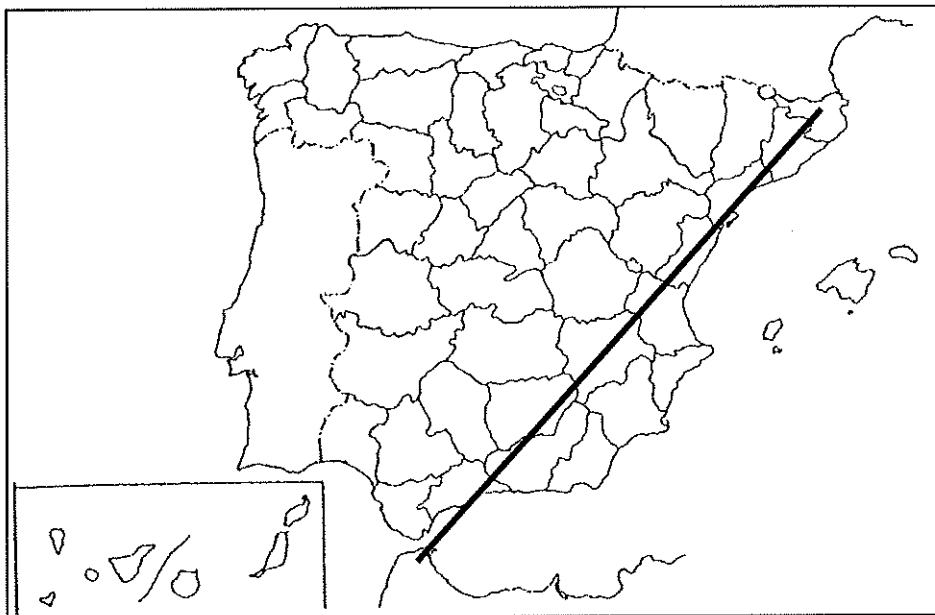
El comentario se desarrollará en la cara de un folio y se valorará con 3 puntos.

3.- DEFINA BREVEMENTE LOS SIGUIENTES TÉRMINOS GEOGRÁFICOS Y PONGA ALGÚN EJEMPLO EN RELACIÓN CON ELLOS:

- Latitud
- Falla
- Anticiclón
- Esperanza de vida
- Ensanche

Cada una de las respuestas se valorará con 0.4 puntos, hasta un total de 2 puntos.

4.- EN UNO DE LOS FOLIOS DEL EXAMEN, ENUMERE –DE NORESTE A SUROESTE- LAS PROVINCIAS ATRAVESADAS POR LA LÍNEA, DESDE EL ORIGEN HASTA EL FINAL DE LA MISMA, ASÍ COMO LAS UNIDADES DE RELIEVE Y LOS RÍOS PRINCIPALES.



Modelo de tabla para enumerar las respuestas a la pregunta:

Provincias	Unidades relieve	Ríos

La respuesta se valorará con un máximo de 2 puntos.

Prueba de Acceso a la Universidad de Extremadura Curso 2013-14

Asignatura: **GEOGRAFÍA**

Tiempo máximo de la prueba: 1h. 30 min.

El alumno deberá elegir una de las dos opciones completas de examen, sin posibilidad de que se puedan combinar preguntas de ambos.

La puntuación total de cada una de las opciones será de 10 puntos, pudiendo modificarse en un punto la calificación final por la presentación, ortografía y calidad de redacción, a juicio del corrector.

OPCIÓN B:

1.- RESPONDA A UNO DE LOS TEMAS SIGUIENTES:

A.- Elementos del clima.

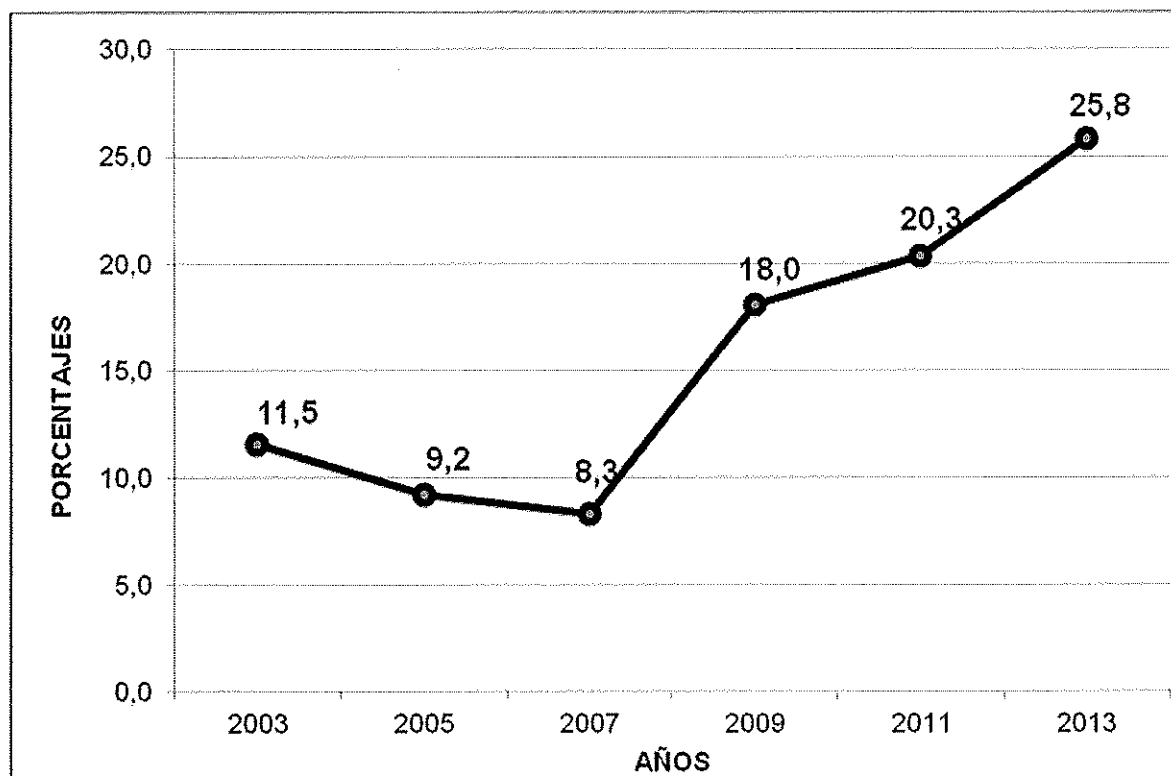
B.- Distribución de la población española.

La respuesta se desarrollará en dos caras de folio, y se valorará con 3 puntos.

2.- A LA VISTA DEL SIGUIENTE GRÁFICO SOBRE LA EVOLUCIÓN PORCENTUAL DE LA TASA DE PARO EN ESPAÑA DESDE 2003 HASTA 2013:

a) Señala las características de esta evolución.

b) Comenta los factores socioeconómicos que han influido en dicha evolución.



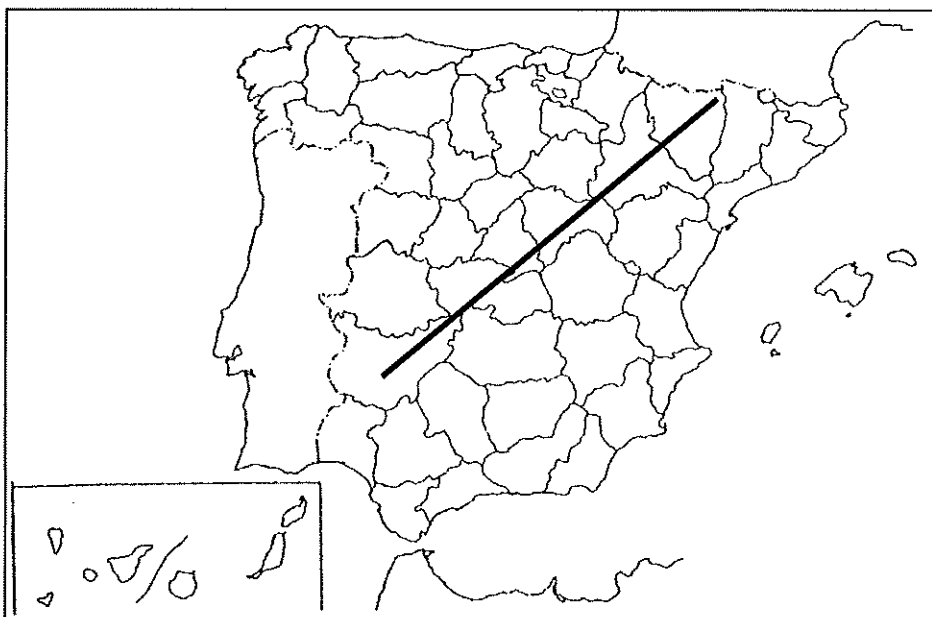
El comentario se desarrollará en la cara de un folio y se valorará con 3 puntos.

3.- DEFINA BREVEMENTE LOS SIGUIENTES TÉRMINOS GEOGRÁFICOS Y PONGA ALGÚN EJEMPLO EN RELACIÓN CON ELLOS:

- Longitud
- Pliegue
- Borrasca
- Envejecimiento demográfico
- Conurbación

Cada una de las respuestas se valorará con 0.4 puntos, hasta un total de 2 puntos.

4.- EN UNO DE LOS FOLIOS DEL EXAMEN, ENUMERE –DE NORESTE A SUROESTE- LAS PROVINCIAS ATRAVESADAS POR LA LÍNEA, DESDE EL ORIGEN HASTA EL FINAL DE LA MISMA, ASÍ COMO LAS UNIDADES DE RELIEVE Y LOS RÍOS PRINCIPALES.



Ejemplo:

Provincias	Unidades relieve	Ríos

La respuesta se valorará con un máximo de 2 puntos.