

Prueba de Acceso a la Universidad de Extremadura Curso 2013-14

Asignatura: **GEOGRAFÍA**

Tiempo máximo de la prueba: 1h. 30 min.

El alumno deberá elegir una de las dos opciones completas de examen, sin posibilidad de que se puedan combinar preguntas de ambos.

La puntuación total de cada una de las opciones será de 10 puntos, pudiendo modificarse en un punto la calificación final por la presentación, ortografía y calidad de redacción, a juicio del corrector.

OPCIÓN A:

1.- RESPONDA A UNO DE LOS TEMAS SIGUIENTES:

A.- Los factores del clima en España.

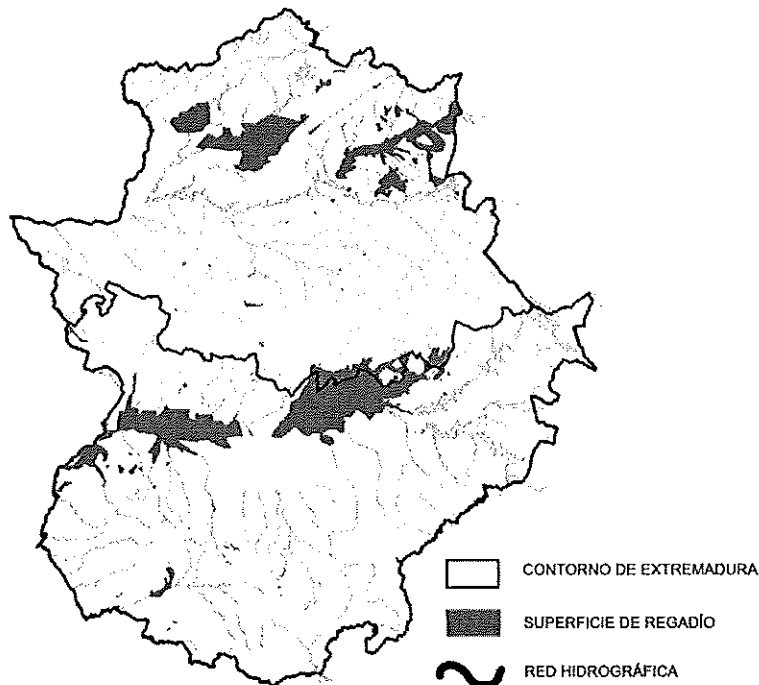
B.- La industria española en la actualidad.

La respuesta se desarrollará en dos caras de folio, y se valorará con 3 puntos.

2.- A LA VISTA DEL SIGUIENTE MAPA SOBRE LA LOCALIZACIÓN DEL REGADÍO EN EXTREMADURA:

a) Indique cuál es la localización geográfica del regadío.

b) Explique los factores físicos y humanos que justifican esta localización.



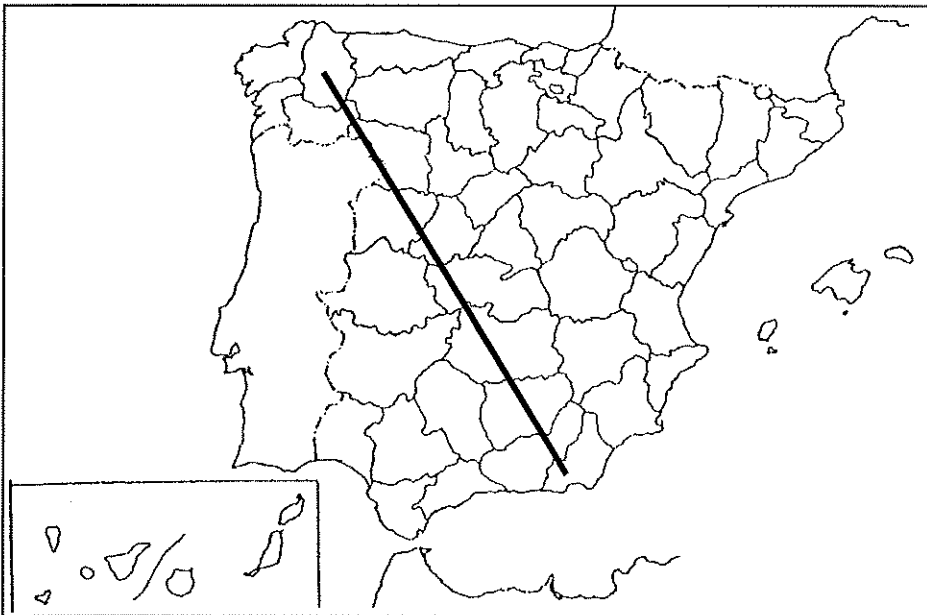
El comentario se desarrollará en la cara de un folio y se valorará con 3 puntos.

3.- DEFINA BREVEMENTE LOS SIGUIENTES TÉRMINOS GEOGRÁFICOS Y PONGA ALGÚN EJEMPLO EN RELACIÓN CON ELLOS:

- Frente polar
- Caducifolio
- Crecimiento cero
- Casco antiguo
- Dehesa

Cada una de las respuestas se valorará con 0.4 puntos, hasta un total de 2 puntos.

4.- EN UNO DE LOS FOLIOS DEL EXAMEN, ENUMERE –DE NOROESTE A SURESTE– LAS PROVINCIAS ATRAVESADAS POR LA LÍNEA, DESDE EL ORIGEN HASTA EL FINAL DE LA MISMA, ASÍ COMO LAS UNIDADES DE RELIEVE Y LOS RÍOS PRINCIPALES.



Ejemplo:

Provincias	Unidades relieve	Ríos

La respuesta se valorará con un máximo de 2 puntos.

Prueba de Acceso a la Universidad de Extremadura

Curso 2013-14

Asignatura: **GEOGRAFÍA**

Tiempo máximo de la prueba: 1h. 30 min.

El alumno deberá elegir una de las dos opciones completas de examen, sin posibilidad de que se puedan combinar preguntas de ambos.

La puntuación total de cada una de las opciones será de 10 puntos, pudiendo modificarse en un punto la calificación final por la presentación, ortografía y calidad de redacción, a juicio del corrector.

OPCIÓN B

1.- RESPONDA A UNO DE LOS TEMAS SIGUIENTES:

A.- Distribución de la vegetación natural.

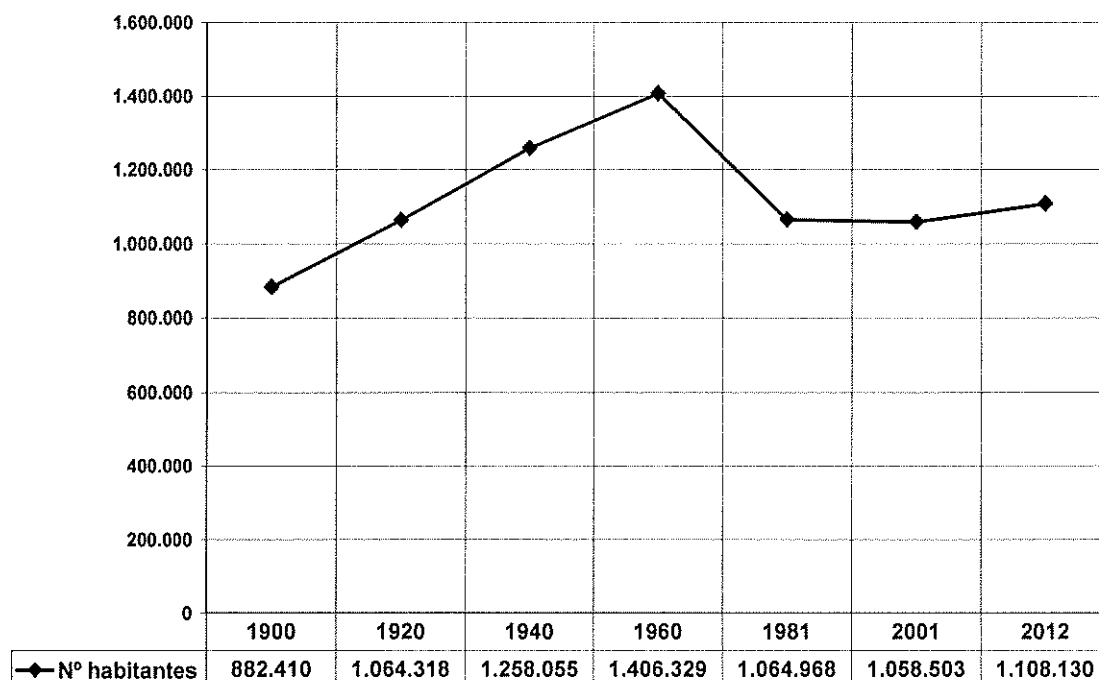
B.- Los transportes en España.

La respuesta se desarrollará en dos caras de folio, y se valorará con 3 puntos.

2.- A LA VISTA DEL SIGUIENTE GRÁFICO SOBRE LA EVOLUCIÓN DE LA POBLACIÓN ABSOLUTA EN EXTREMADURA:

a) Señala las características de esta evolución.

b) Comenta los factores que han influido en dicha evolución.



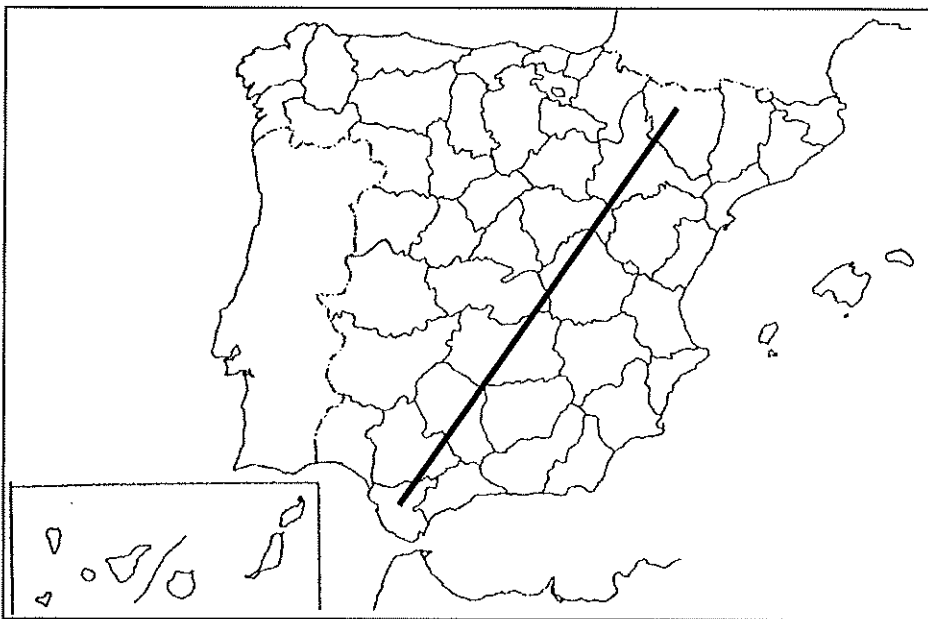
El comentario se desarrollará en la cara de un folio y se valorará con 3 puntos.

3.- DEFINA BREVEMENTE LOS SIGUIENTES TÉRMINOS GEOGRÁFICOS Y PONGA ALGÚN EJEMPLO EN RELACIÓN CON ELLOS:

- Continentalidad
- Baby boom
- Renta per cápita
- Plano urbano
- Sector primario

Cada una de las respuestas se valorará con 0.4 puntos, hasta un total de 2 puntos.

4.- EN UNO DE LOS FOLIOS DEL EXAMEN, ENUMERE –DE NORESTE A SUROESTE- LAS PROVINCIAS ATRAVESADAS POR LA LÍNEA, DESDE EL ORIGEN HASTA EL FINAL DE LA MISMA, ASÍ COMO LAS UNIDADES DE RELIEVE Y LOS RÍOS PRINCIPALES.



Ejemplo:

Provincias	Unidades relieve	Ríos

La respuesta se valorará con un máximo de 2 puntos.