

Prueba de Acceso a la Universidad de Extremadura

Curso 2015-16

Asignatura: **GEOGRAFÍA**

Tiempo máximo de la prueba: 1h. 30 min.

El alumno deberá elegir una de las dos opciones completas de examen, sin posibilidad de que se puedan combinar preguntas de ambos.

La puntuación total de cada una de las opciones será de 10 puntos, pudiendo modificarse en un punto la calificación final por la presentación, ortografía y calidad de redacción, a juicio del corrector.

OPCIÓN A:

1.- RESPONDA A UNO DE LOS TEMAS SIGUIENTES:

A.- Los factores del clima en España.

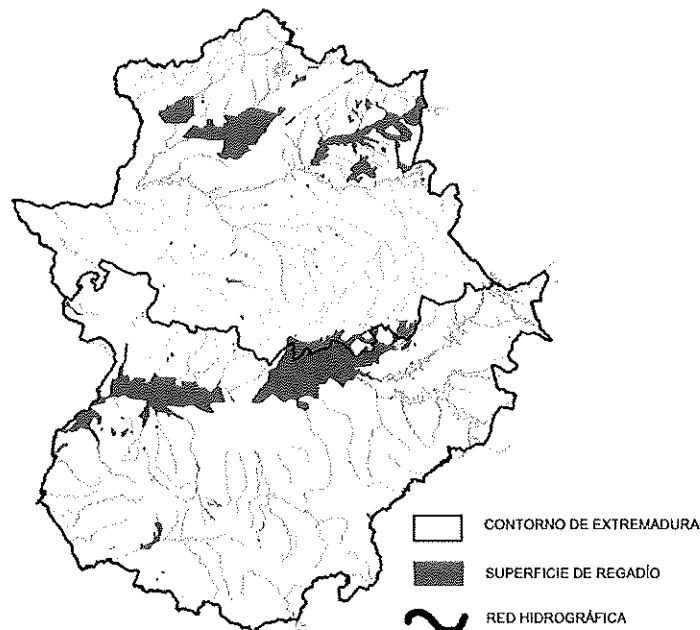
B.- La industria española en la actualidad.

La respuesta se desarrollará, como máximo, en dos caras de folio, y se valorará con tres puntos

2.- A LA VISTA DEL SIGUIENTE MAPA DE LA LOCALIZACIÓN DEL REGADÍO EN EXTREMADURA:

a) Indique cuál es la localización geográfica del regadío.

b) Explique los factores físicos y humanos que justifican esta localización.



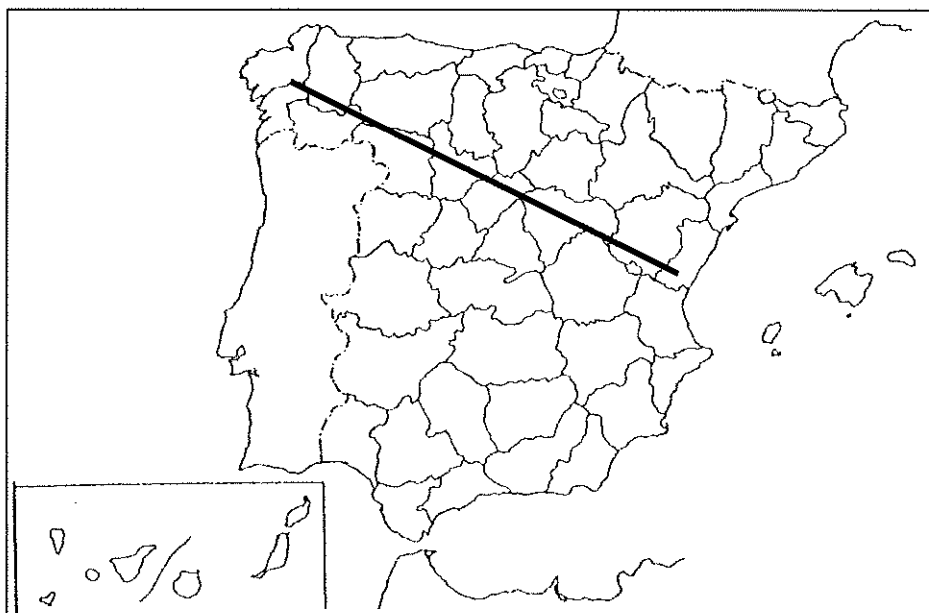
El comentario se desarrollará en la cara de un folio y se valorará con tres puntos

3.- DEFINA BREVEMENTE LOS SIGUIENTES TÉRMINOS GEOGRÁFICOS Y PONGA ALGÚN EJEMPLO EN RELACIÓN CON ELLOS:

- Sotavento
- Maquia
- Baby boom
- Comarca
- Casco antiguo

Cada una de las respuestas se valorará con 0.4 puntos, hasta un total de dos puntos

4.- EN UNO DE LOS FOLIOS DEL EXAMEN, ENUMERE –DE NOROESTE A SURESTE- LAS PROVINCIAS ATRAVESADAS POR LA LÍNEA, DESDE EL ORIGEN HASTA EL FINAL DE LA MISMA, ASÍ COMO LAS UNIDADES DE RELIEVE Y LOS RÍOS PRINCIPALES.



Modelo de tabla para enumerar las respuestas a la pregunta:

Provincias	Unidades relieve	Ríos

La respuesta se valorará con un máximo de 2 puntos

Prueba de Acceso a la Universidad de Extremadura Curso 2015-16

Asignatura: **GEOGRAFÍA**

Tiempo máximo de la prueba: 1h. 30 min.

El alumno deberá elegir una de las dos opciones completas de examen, sin posibilidad de que se puedan combinar preguntas de ambos.

La puntuación total de cada una de las opciones será de 10 puntos, pudiendo modificarse en un punto la calificación final por la presentación, ortografía y calidad de redacción, a juicio del corrector.

OPCIÓN B:

1.- RESPONDA A UNO DE LOS TEMAS SIGUIENTES:

A.- Factores condicionantes de los ríos españoles.

B.- Dinámica vegetativa de la población española.

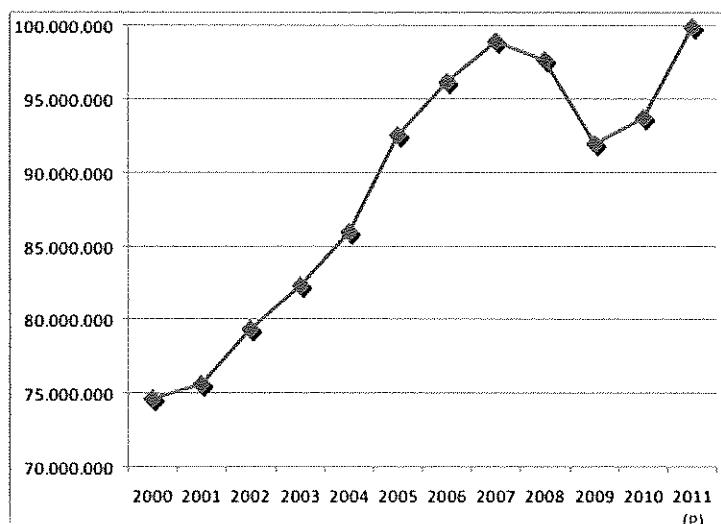
La respuesta se desarrollará, como máximo, en dos caras de folio, y se valorará con tres puntos

2.- A LA VISTA DEL SIGUIENTE GRÁFICO:

a) Comente la evolución del turismo internacional en España entre 2000 y 2011.

b) Haga un breve comentario acerca de los factores que hayan podido influir en dicha evolución.

Evolución del número de visitantes en España (2000-2011)



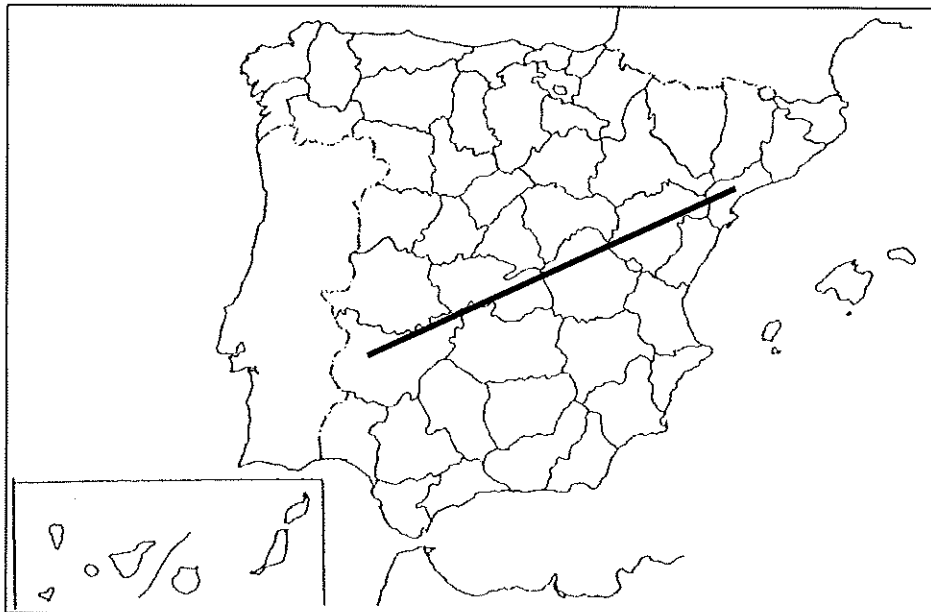
El comentario se desarrollará en la cara de un folio y se valorará con tres puntos

3.- DEFINA BREVEMENTE LOS SIGUIENTES TÉRMINOS GEOGRÁFICOS Y PONGA ALGÚN EJEMPLO EN RELACIÓN CON ELLOS:

- Gota fría
- Cauce
- Crecimiento cero
- Desarrollo rural
- Periurbano

Cada una de las respuestas se valorará con 0.4 puntos, hasta un total de dos puntos

4.- EN UNO DE LOS FOLIOS DEL EXAMEN, ENUMERE –DE NORESTE A SUROESTE- LAS PROVINCIAS ATRAVESADAS POR LA LÍNEA, DESDE EL ORIGEN HASTA EL FINAL DE LA MISMA, ASÍ COMO LAS UNIDADES DE RELIEVE Y LOS RÍOS PRINCIPALES.



Modelo de tabla para enumerar las respuestas a la pregunta:

Provincias	Unidades relieve	Ríos

La respuesta se valorará con un máximo de 2 puntos.