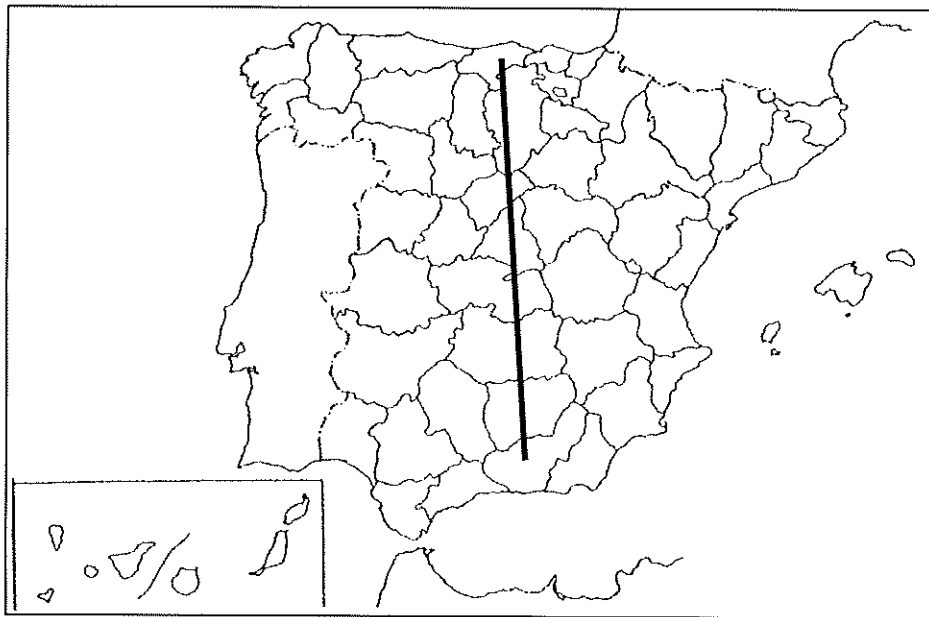


3.- DEFINA BREVEMENTE LOS SIGUIENTES TÉRMINOS GEOGRÁFICOS Y PONGA ALGÚN EJEMPLO EN RELACIÓN CON ELLOS:

- Lluvia ácida
- Teledetección
- Dehesa
- Emigración
- Transporte

Cada una de las respuestas se valorará con 0.4 puntos, hasta un total de dos puntos

4.- EN UNO DE LOS FOLIOS DEL EXAMEN, ENUMERE –DE NORTE A SUR- LAS PROVINCIAS ATRAVESADAS POR LA LÍNEA, DESDE EL ORIGEN HASTA EL FINAL DE LA MISMA, ASÍ COMO LAS UNIDADES DE RELIEVE Y LOS RÍOS PRINCIPALES.



Modelo de tabla para enumerar las respuestas a la pregunta::

Provincias	Unidades relieve	Ríos

La respuesta se valorará con un máximo de 2 puntos

Prueba de Acceso a la Universidad de Extremadura

Curso 2015-16

Asignatura: **GEOGRAFÍA**

Tiempo máximo de la prueba: 1h. 30 min.

El alumno deberá elegir una de las dos opciones completas de examen, sin posibilidad de que se puedan combinar preguntas de ambos.

La puntuación total de cada una de las opciones será de 10 puntos, pudiendo modificarse en un punto la calificación final por la presentación, ortografía y calidad de redacción, a juicio del corrector.

OPCIÓN B:

1.- RESPONDA A UNO DE LOS TEMAS SIGUIENTES:

A.- Factores de localización de la industria en España.

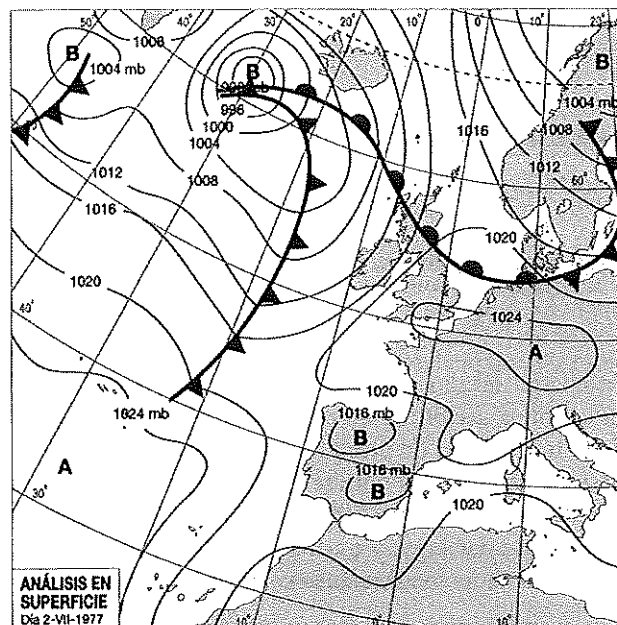
B.- Movimientos migratorios.

La respuesta se desarrollará, como máximo, en dos caras de folio, y se valorará con tres puntos

2.- OBSERVE ESTE MAPA DEL TIEMPO Y RESPONDA LAS SIGUIENTES CUESTIONES:

a) Indique y defina los distintos elementos que componen este mapa del tiempo.

b) Explique cuáles son las características más destacadas del tiempo que se registró en España según esta situación meteorológica y los períodos del año en que suele presentarse.



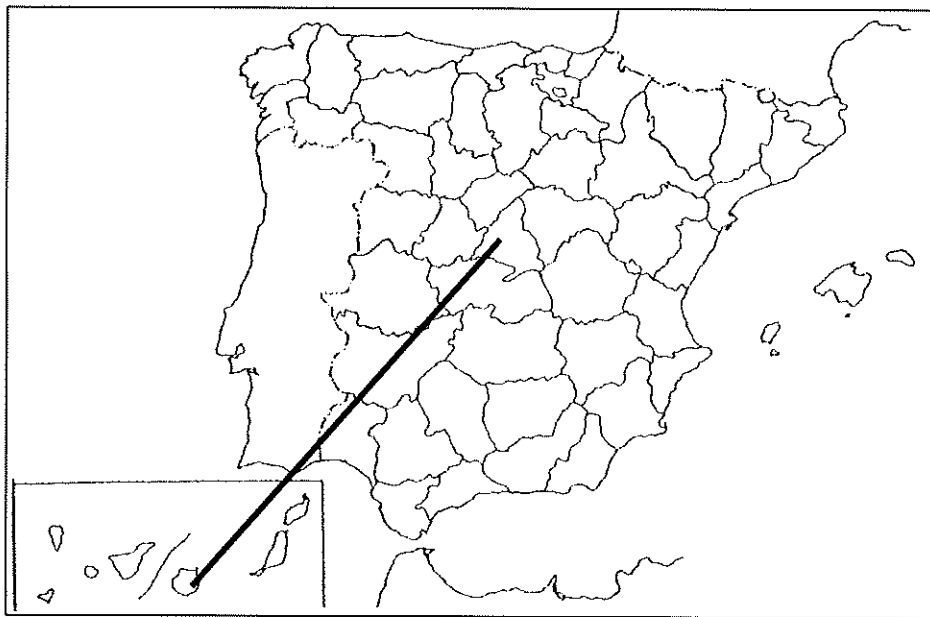
El comentario se desarrollará en la cara de un folio y se valorará con 3 puntos.

3.- DEFINA BREVEMENTE LOS SIGUIENTES TÉRMINOS GEOGRÁFICOS Y PONGA ALGÚN EJEMPLO EN RELACIÓN CON ELLOS:

- Biodiversidad
- Mapa topográfico
- Bosque caducifolio
- Inmigración
- Meseta

Cada una de las respuestas se valorará con 0.4 puntos, hasta un total de dos puntos

4.- EN UNO DE LOS FOLIOS DEL EXAMEN, ENUMERE –DE NORESTE A SUROESTE- LAS PROVINCIAS ATRAVESADAS POR LA LÍNEA (INCLUIDAS LAS ÍSLAS), DESDE EL ORIGEN HASTA EL FINAL DE LA MISMA, ASÍ COMO LAS UNIDADES DE RELIEVE Y LOS RÍOS PRINCIPALES.



Modelo de tabla para enumerar las respuestas a la pregunta:

Provincias	Unidades relieve	Ríos

La respuesta se valorará con un máximo de 2 puntos