

# Prueba de Evaluación de Bachillerato para el acceso a la Universidad de Extremadura Curso 2016-2017

Asignatura: **GEOGRAFÍA**

Tiempo máximo de la prueba: 1h.30 min.

El alumno deberá elegir una de las dos opciones completas de examen, sin posibilidad de que se puedan combinar preguntas de ambos.

La puntuación total de cada una de las opciones será de 10 puntos, pudiendo modificarse en un punto la calificación final por la presentación, ortografía y calidad de redacción, a juicio del corrector.

## OPCIÓN A:

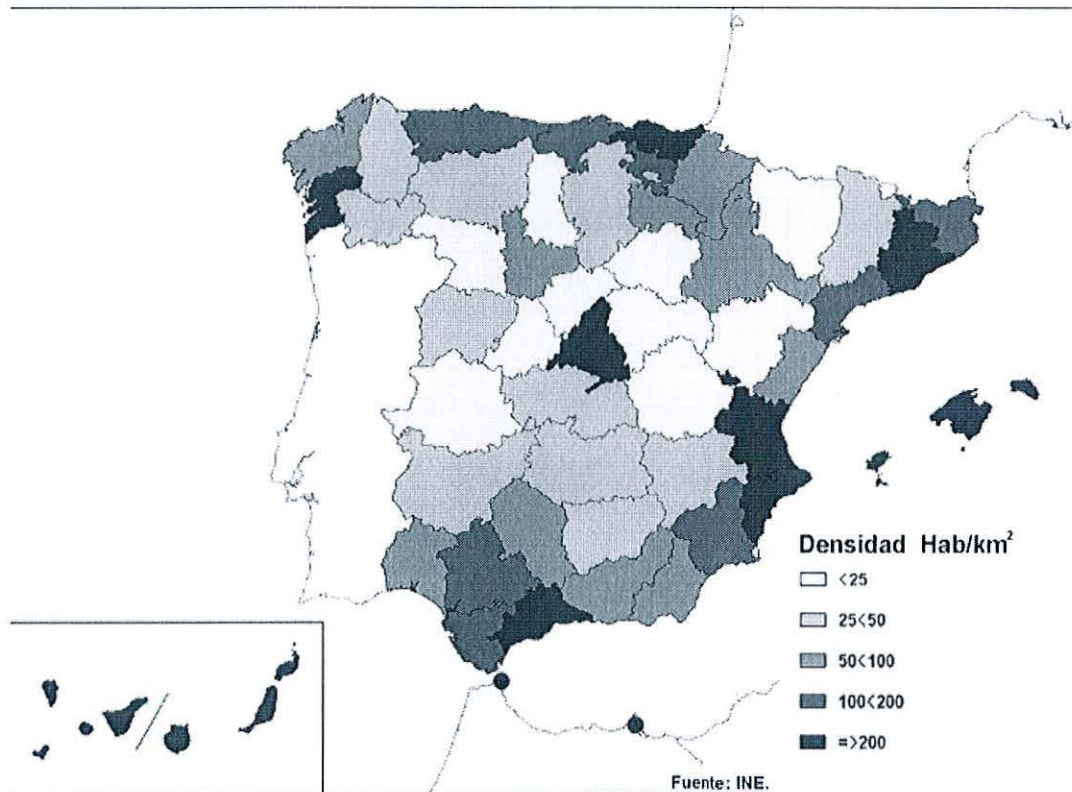
### 1.- RESPONDA A UNO DE LOS TEMAS SIGUIENTES:

**A.- Comenta la diversidad hídrica de España.** Define los siguientes términos geográficos: **Acuífero, Cuenca hidrográfica y Escorrentía**

**B.- Analiza las características de los paisajes agrarios de España.** Define los siguientes términos geográficos: **Barbecho, Ganadería intensiva y Hábitat rural**

*Las respuestas se desarrollarán, como máximo, en dos caras de folio, y se valorarán con 2,5 puntos. Cada uno de los términos geográficos se valorará con 0,5 puntos. El valor máximo de la pregunta es de 4 puntos*

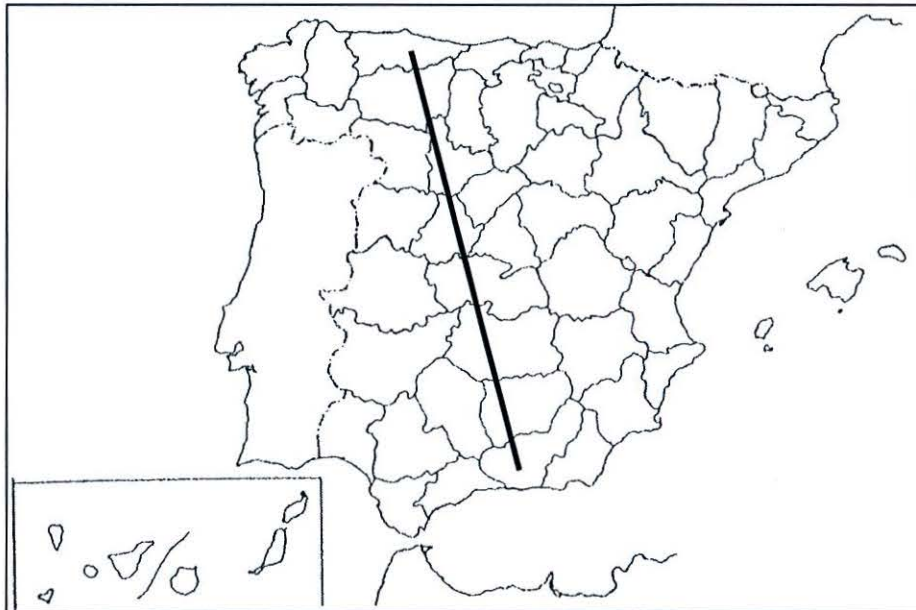
### 2.- SEGÚN EL MAPA DE DENSIDAD DEMOGRÁFICA ACTUAL DE ESPAÑA:



- a) Indica cómo se distribuye la población entre las distintas provincias.
- b) Comenta los factores que han influido en dicha distribución.
- c) Define los siguientes términos geográficos: **Transición demográfica, Éxodo rural y Relevó generacional**

*La respuesta a la pregunta se desarrollará, como máximo, en dos caras de folio, y se valorará con 2,5 puntos. Cada uno de los términos geográficos se valorará con 0,5 puntos. El valor máximo de la pregunta es de 4 puntos*

**3.- EN UNO DE LOS FOLIOS DEL EXAMEN, ENUMERE –DE NOROESTE A SURESTE– LAS PROVINCIAS ATRAVESADAS POR LA LÍNEA, DESDE EL ORIGEN HASTA EL FINAL DE LA MISMA, ASÍ COMO LAS UNIDADES DE RELIEVE Y LOS RÍOS PRINCIPALES.**



Modelo de tabla para enumerar las respuestas a la pregunta:

Provincias	Unidades relieve	Ríos

*La respuesta se valorará con un máximo de dos puntos*

Asignatura: **GEOGRAFÍA**

Tiempo máximo de la prueba: 1h.30 min.

El alumno deberá elegir una de las dos opciones completas de examen, sin posibilidad de que se puedan combinar preguntas de ambos.

La puntuación total de cada una de las opciones será de 10 puntos, pudiendo modificarse en un punto la calificación final por la presentación, ortografía y calidad de redacción, a juicio del corrector.

### **OPCIÓN B:**

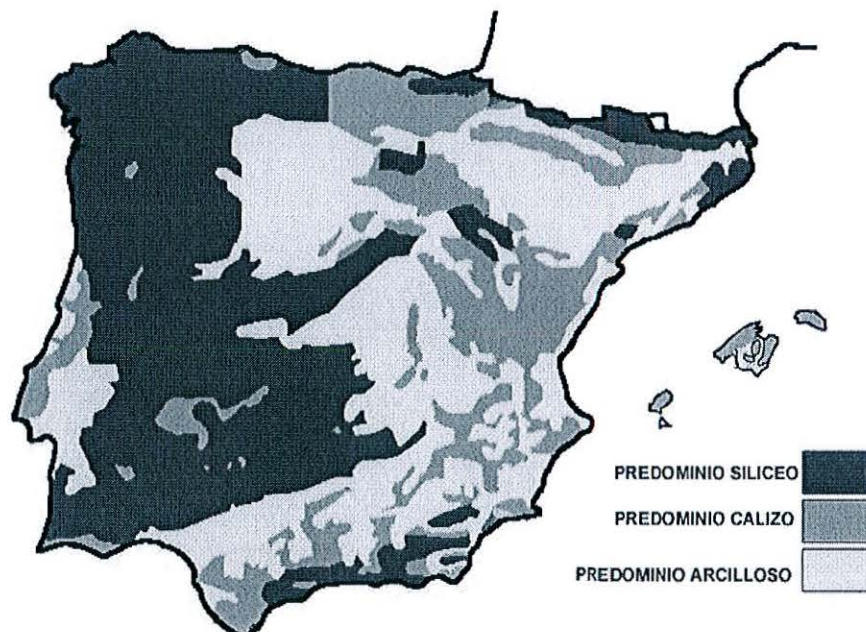
#### **1.- RESPONDA A UNO DE LOS TEMAS SIGUIENTES:**

**A.- Comenta las características de los grandes conjuntos paisajísticos españoles.** Define los siguientes términos geográficos: **Vegetación esclerófila, Sotobosque y Garriga.**

**B.- Explica las características del sector terciario español.** Define los siguientes términos geográficos: **Turismo, Comercio interior y Transporte**

*Las respuestas se desarrollarán, como máximo, en dos caras de folio, y se valorará con 2,5 puntos. Cada uno de los términos geográficos se valorará con 0,5 puntos. El valor máximo de la pregunta es de 4 puntos*

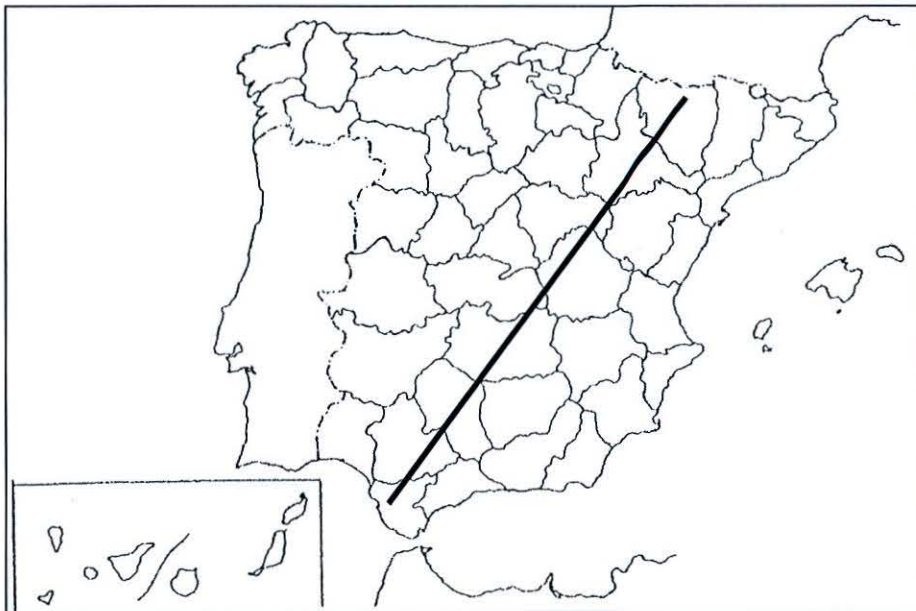
#### **2.- A LA VISTA DEL SIGUIENTE MAPA LITOLÓGICO DE ESPAÑA:**



- a) Comente las principales características de esta distribución
- b) Haga un breve comentario acerca del relieve característico de cada uno de estos dominios litológicos
- c) Defina los siguientes términos geográficos: **Falla, Relieve Apalachense y Zócalo**

*La respuesta a la pregunta se desarrollará, como máximo, en dos caras de folio, y se valorará con 2,5 puntos. Cada uno de los términos geográficos se valorará con 0,5 puntos. El valor máximo de la pregunta es de 4 puntos*

**3.- EN UNO DE LOS FOLIOS DEL EXAMEN, ENUMERE –DE NORESTE A SUROESTE– LAS PROVINCIAS ATRAVESADAS POR LA LÍNEA, DESDE EL ORIGEN HASTA EL FINAL DE LA MISMA, ASÍ COMO LAS UNIDADES DE RELIEVE Y LOS RÍOS PRINCIPALES.**



Modelo de tabla para enumerar las respuestas a la pregunta:

Provincias	Unidades relieve	Ríos

*La respuesta se valorará con un máximo de 2 puntos*