

Asignatura: **GEOGRAFÍA**

Tiempo máximo de la prueba: 1h. 30 min.

El alumno deberá elegir una de las dos opciones completas de examen, sin posibilidad de que se puedan combinar preguntas de ambos.

La puntuación total de cada una de las opciones será de 10 puntos, pudiendo modificarse en un punto la calificación final por la presentación, ortografía y calidad de redacción, a juicio del corrector.

**OPCIÓN A:**

**1.- RESPONDA A UNO DE LOS TEMAS SIGUIENTES:**

**A.- Las vertientes hidrográficas.**

Defina los siguientes términos geográficos: Comarca; landa; delta.

**B.- El proceso de urbanización en España.**

Defina los siguientes términos geográficos: Borrasca; biodiversidad; multinacional.

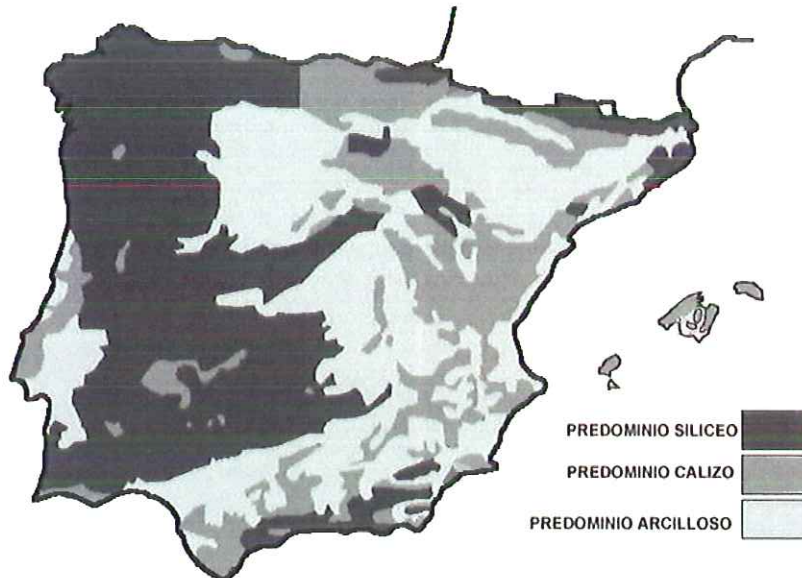
*Las respuestas se desarrollarán, como máximo, en dos caras de folio, y se valorará con 2,5 puntos.*

*Cada uno de los términos geográficos se valorará con 0,5 puntos.*

*El valor máximo de la pregunta es de 4 puntos.*

**2.- A LA VISTA DEL SIGUIENTE MAPA GEOLÓGICO DE ESPAÑA:**

- Comente las principales características de esta distribución.
- Haga un breve comentario acerca de los factores que hayan podido influir en su origen y evolución.
- Defina los siguientes términos geográficos: Desertificación; frente polar; municipio.



*Las respuestas se desarrollarán, como máximo, en dos caras de folio, y se valorará con 2,5 puntos.*

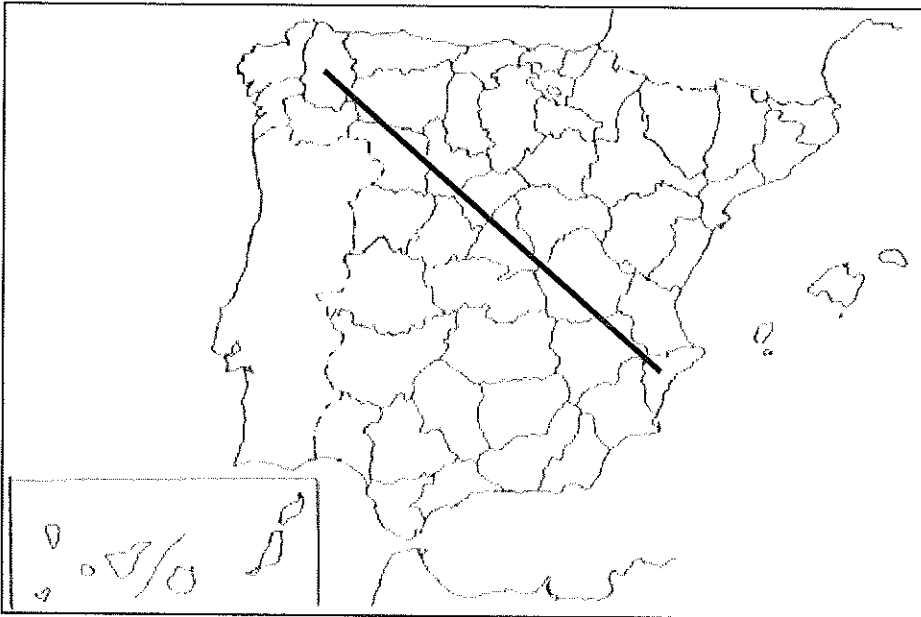
*Cada uno de los términos geográficos se valorará con 0,5 puntos.*

*El valor máximo de la pregunta es de 4 puntos.*

Asignatura: **GEOGRAFÍA**

Tiempo máximo de la prueba: 1h. 30 min.

**3.- EN UNO DE LOS FOLIOS DEL EXAMEN, ENUMERE –DE NOROESTE A SURESTE- LAS PROVINCIAS ATRAVESADAS POR LA LÍNEA, DESDE EL ORIGEN HASTA EL FINAL DE LA MISMA, ASÍ COMO LAS UNIDADES DE RELIEVE Y LOS RÍOS PRINCIPALES.**



Modelo de tabla para enumerar las respuestas a la pregunta:

Provincias	Unidades relieve	Ríos

*La respuesta se valorará con un máximo de 2 puntos.*

Asignatura: **GEOGRAFÍA**

Tiempo máximo de la prueba: 1h. 30 min.

El alumno deberá elegir una de las dos opciones completas de examen, sin posibilidad de que se puedan combinar preguntas de ambos.

La puntuación total de cada una de las opciones será de 10 puntos, pudiendo modificarse en un punto la calificación final por la presentación, ortografía y calidad de redacción, a juicio del corrector.

### OPCIÓN B:

**1.- RESPONDA A UNO DE LOS TEMAS SIGUIENTES:**

**A.- El roquedo peninsular y los tipos de relieve.**

Defina los siguientes términos geográficos: Teledetección; cauce; sector terciario.

**B.- Los transportes.**

Defina los siguientes términos geográficos: Trasvase; sotobosque; autonomía.

*Las respuestas se desarrollarán, como máximo, en dos caras de folio, y se valorará con 2,5 puntos.*

*Cada uno de los términos geográficos se valorará con 0,5 puntos.*

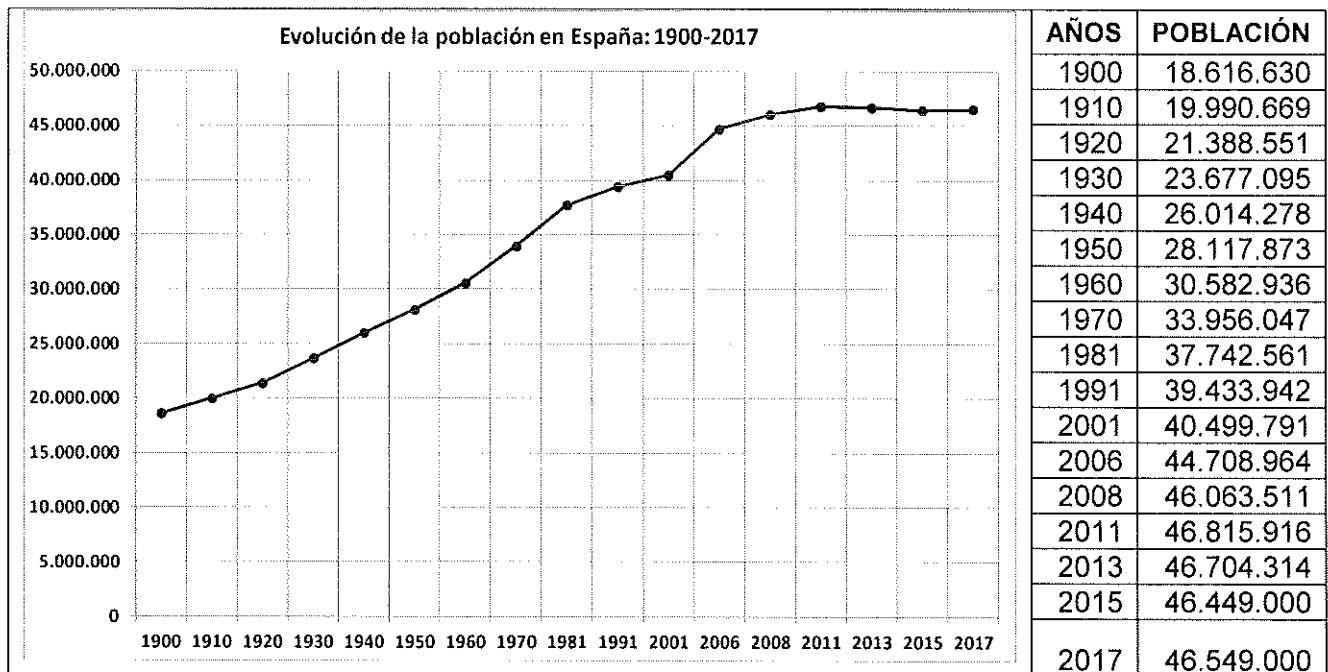
*El valor máximo de la pregunta es de 4 puntos.*

**2.- A LA VISTA DEL SIGUIENTE GRÁFICO SOBRE LA EVOLUCIÓN DE LA POBLACIÓN ESPAÑOLA DESDE 1900 HASTA 2017:**

a) Indica las características generales de esta evolución.

b) Explica los factores que han determinado el crecimiento de la población.

c) Defina los siguientes términos geográficos: Fotografía aérea; minifundio; producto interior bruto.



*Las respuestas se desarrollarán, como máximo, en dos caras de folio, y se valorará con 2,5 puntos.*

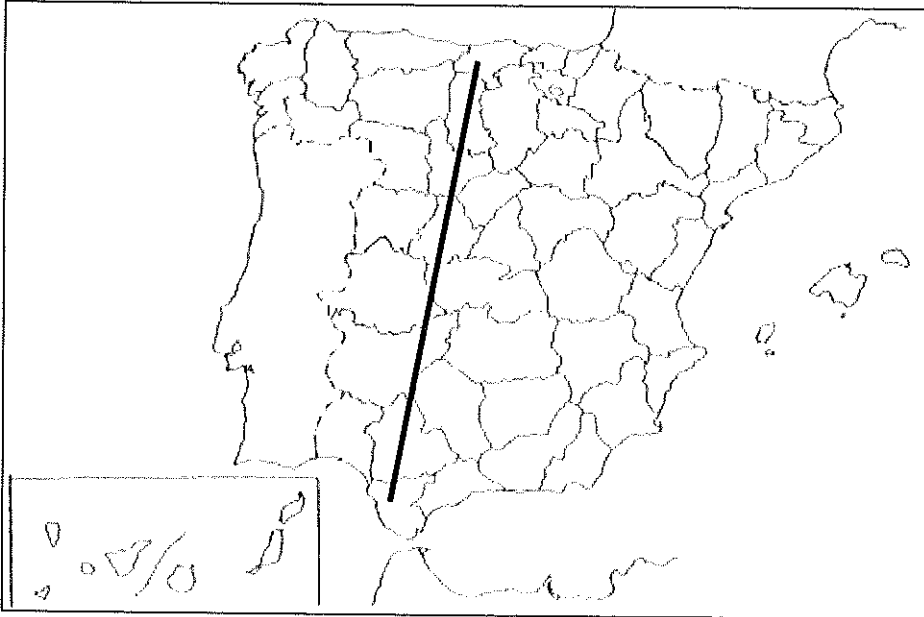
*Cada uno de los términos geográficos se valorará con 0,5 puntos.*

*El valor máximo de la pregunta es de 4 puntos.*

Asignatura: **GEOGRAFÍA**

Tiempo máximo de la prueba: 1h. 30 min.

**3.- EN UNO DE LOS FOLIOS DEL EXAMEN, ENUMERE –DE NORTE A SUR- LAS PROVINCIAS ATRAVESADAS POR LA LÍNEA, DESDE EL ORIGEN HASTA EL FINAL DE LA MISMA, ASÍ COMO LAS UNIDADES DE RELIEVE Y LOS RÍOS PRINCIPALES.**



Modelo de tabla para enumerar las respuestas a la pregunta:

Provincias	Unidades relieve	Ríos

*La respuesta se valorará con un máximo de 2 puntos.*