

Asignatura: **GEOGRAFÍA**

Tiempo máximo de la prueba: 1h. 30 min.

El alumno deberá elegir una de las dos opciones completas de examen, sin posibilidad de que se puedan combinar preguntas de ambos.

La puntuación total de cada una de las opciones será de 10 puntos, pudiendo modificarse en un punto la calificación final por la presentación, ortografía y calidad de redacción, a juicio del corrector.

OPCIÓN A:

1.- RESPONDA A UNO DE LOS TEMAS SIGUIENTES:

A.- Movimientos migratorios.

Defina los siguientes términos geográficos: Plieque; escorrentía; policultivo.

B.- Describa y comente los desequilibrios territoriales en España.

Defina los siguientes términos geográficos: Dehesa; transporte; tasa bruta de mortalidad.

Las respuestas se desarrollarán, como máximo, en dos caras de folio, y se valorará con 2,5 puntos.

Cada uno de los términos geográficos se valorará con 0,5 puntos.

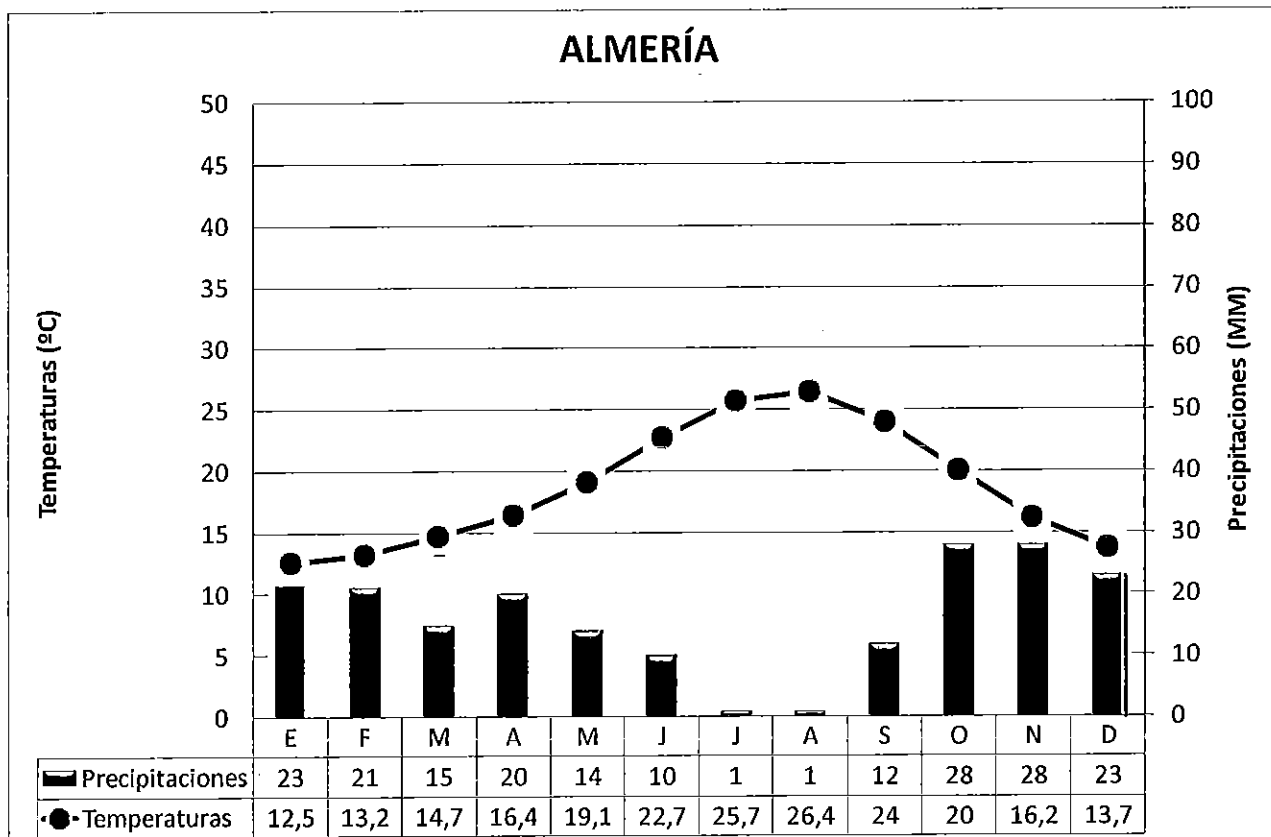
El valor máximo de la pregunta es de 4 puntos.

2.- A LA VISTA DEL SIGUIENTE CLIMOGRAMA:

a) Indica las características generales de este clima.

b) Explica los factores que lo condicionan y localiza geográficamente la ciudad de Almería.

c) Defina los siguientes términos geográficos: Deforestación; renta per cápita; casco antiguo.



Las respuestas se desarrollarán, como máximo, en dos caras de folio, y se valorará con 2,5 puntos.

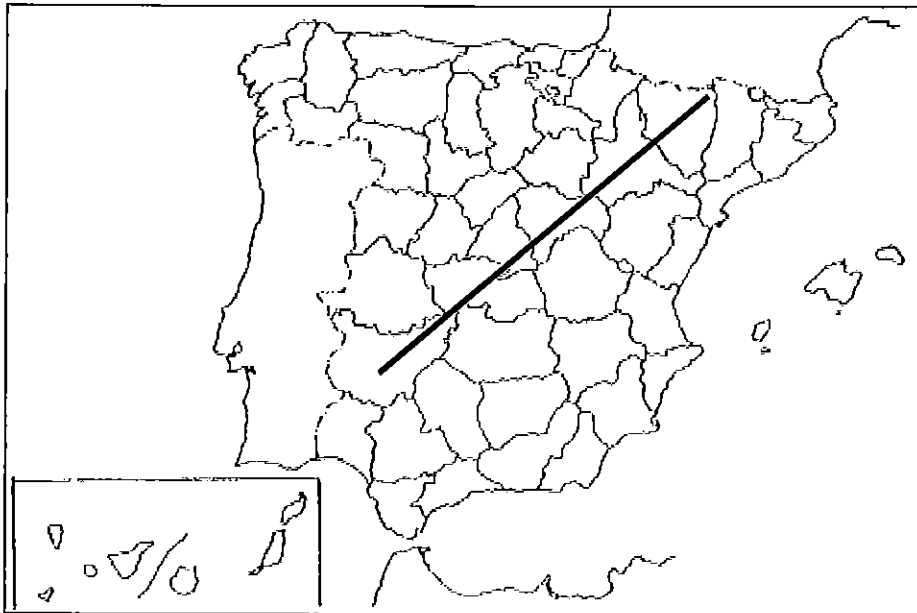
Cada uno de los términos geográficos se valorará con 0,5 puntos.

El valor máximo de la pregunta es de 4 puntos.

Asignatura: **GEOGRAFÍA**

Tiempo máximo de la prueba: 1h. 30 min.

3.- EN UNO DE LOS FOLIOS DEL EXAMEN, ENUMERE –DE NORESTE A SUROESTE- LAS PROVINCIAS ATRAVESADAS POR LA LÍNEA, DESDE EL ORIGEN HASTA EL FINAL DE LA MISMA, ASÍ COMO LAS UNIDADES DE RELIEVE Y LOS RÍOS PRINCIPALES.



Modelo de tabla para enumerar las respuestas a la pregunta:

Provincias	Unidades relieve	Ríos

La respuesta se valorará con un máximo de 2 puntos.

Asignatura: **GEOGRAFÍA**

Tiempo máximo de la prueba: 1h. 30 min.

El alumno deberá elegir una de las dos opciones completas de examen, sin posibilidad de que se puedan combinar preguntas de ambos.

La puntuación total de cada una de las opciones será de 10 puntos, pudiendo modificarse en un punto la calificación final por la presentación, ortografía y calidad de redacción, a juicio del corrector.

OPCIÓN B:

1.- RESPONDA A UNO DE LOS TEMAS SIGUIENTES:

A.- Elementos del clima.

Defina los siguientes términos geográficos: Falla; desarrollo rural; latifundio.

B.- Factores de localización de la industria en España.

Defina los siguientes términos geográficos: Monocultivo; estiaje; isolínea.

Las respuestas se desarrollarán, como máximo, en dos caras de folio, y se valorará con 2,5 puntos

Cada uno de los términos geográficos se valorará con 0,5 puntos.

El valor máximo de la pregunta es de 4 puntos.

2.- A LA VISTA DEL SIGUIENTE PLANO URBANO DE LA CIUDAD DE VITORIA:

- a) Comente el emplazamiento, la estructura, los principales elementos urbanísticos y su funcionalidad.
- b) Haga un breve comentario acerca de los factores que hayan podido influir en su origen y evolución.
- c) Defina los siguientes términos geográficos: Clima; perennifolio; agroindustria.

Plano de Vitoria-Gasteiz



Las respuestas se desarrollarán, como máximo, en dos caras de folio, y se valorará con 2,5 puntos.

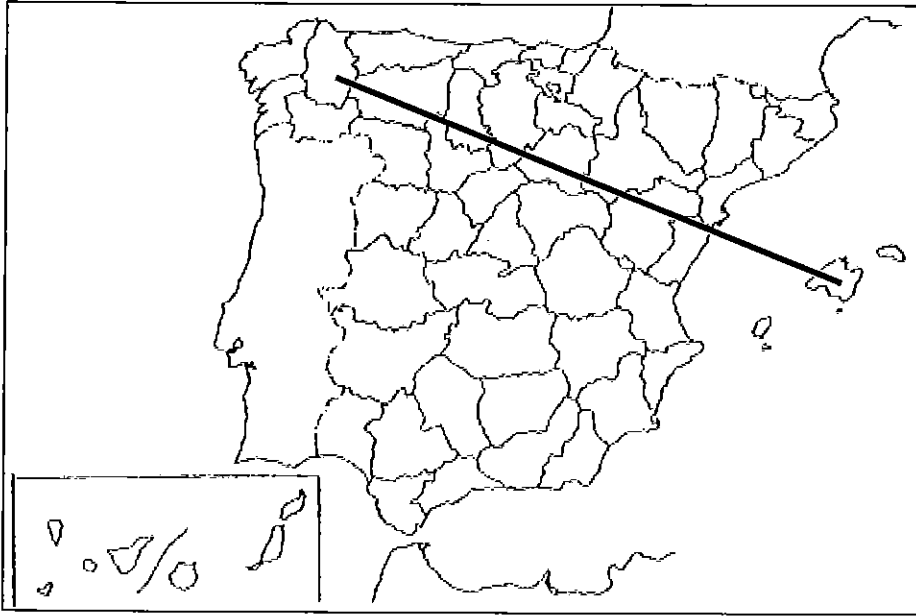
Cada uno de los términos geográficos se valorará con 0,5 puntos.

El valor máximo de la pregunta es de 4 puntos.

Asignatura: GEOGRAFÍA

Tiempo máximo de la prueba: 1h. 30 min.

3.- EN UNO DE LOS FOLIOS DEL EXAMEN, ENUMERE –DE NOROESTE A ESTE- LAS PROVINCIAS ATRAVESADAS POR LA LÍNEA, DESDE EL ORIGEN HASTA EL FINAL DE LA MISMA, ASÍ COMO LAS UNIDADES DE RELIEVE Y LOS RÍOS PRINCIPALES.



Modelo de tabla para enumerar las respuestas a la pregunta:

Provincias	Unidades relieve	Ríos

La respuesta se valorará con un máximo de 2 puntos.