



# Prueba de Acceso a la Universidad de Extremadura

Curso 2010-11

Asignatura: Historia del Arte

Tiempo máximo de la prueba: 1h. 30 min.

## Opción A

1. Desarrolle el siguiente tema: La escultura griega.

(Puntuación máxima: 4 puntos).

2. Comente la obra de arte de la Opción A, que se corresponde con el número Lámina 1 (A).

(Puntuación máxima: 3 puntos).

3. Comente la obra de arte de la Opción A, que se corresponde con el número Lámina 2 (A).

(Puntuación máxima: 3 puntos).

## Opción B

1. Desarrolle el siguiente tema: La pintura en el Gótico: Giotto, Jan van Eyck y El Bosco.

(Puntuación máxima: 4 puntos).

2. Comente la obra de arte de la Opción B, que se corresponde con el número Lámina 1 (B).

(Puntuación máxima: 3 puntos).

3. Comente la obra de arte de la Opción B, que se corresponde con el número Lámina 2 (B).

(Puntuación máxima: 3 puntos).

# LÁMINAS

## Opción A




Lámina 1 (A)




Lámina 2 (A)

## Opción B




Lámina 1 (B)




Lámina 2 (B)